




第七单元过关检测卷

一、填一填。(每空 2 分, 共 28 分)

1. 钟面上有()个大格和()个小格, 一个大格里面有()
 个小格。
2. 分针走 1 小格的时间是()分, 走 1 大格的时间是()分。
3. 时针从一个数字走到下一个数字是()时, 走一圈是()时。
4. 1 时=()分 半小时=()分 一刻=()分



5.

二、认一认, 写出下列钟面上的时间。(16 分)



___时___分 ___时___分 ___时___分 ___时___分

___:___ ___:___ ___:___ ___:___






___时___分 ___时___分 ___时___分 ___时___分




___:___ ___:___ ___:___ ___:___




三、辨一辨, 哪只动物说得对? 在对的下面画“√”。(每题 3 分,
共 15 分)











1.  2:15   3:10

2.  8:50   9:50

3.  4时4分   4:20

4.  6:05   6:50


5.  1时55分   2时55分

四、连一连。(6分)

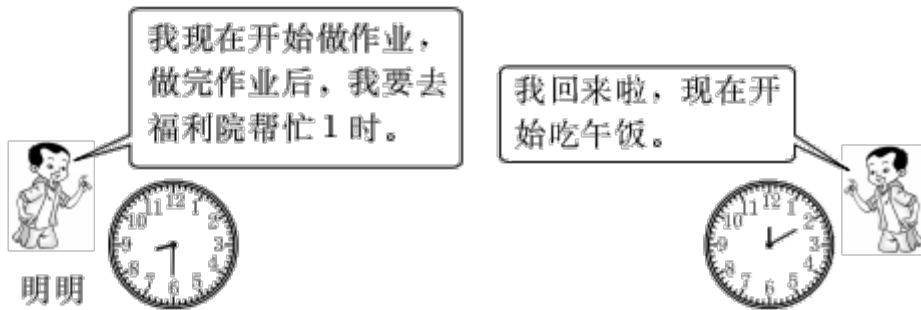
时间	7: 10~7: 30	8: 05~8: 20	8: 45~9: 40	10: 00~11: 30
活动	起床	吃早餐	读书	踢足球

把时间和相应的活动连起来。





五、圈一圈。(3分)

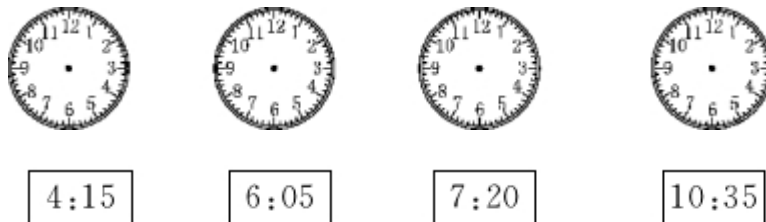


明明可能在下面哪个时间去福利院？圈出来。




六、画一画。(1题12分，2题8分，共20分)

1.画指针。



2.按规律画出最后一个钟面的时针和分针。





七、想一想，填一填。(12分)



过5分是



过10分是



过一刻是



过半小时是





答案

一、1.12 60 5 2.1 5 3.1 12

4. 60 30 15 5.15 3 20 4

二、8时35分 8:35

9时5分 9:05

5时55分 5:55

10时30分 10:30

4时25分 4:25


1时50分 1:50

4时45分 4:45

10时10分 10:10

三、1.第2只 2.第1只 3.第2只

4. 第1只 5.第1只




四、

五、第1个



六、1.



2. (1) (2)





七、 3: 30 12: 40 5: 00 6: 00

