





2. 在( )里填上合适的数。(每题 2 分, 共 12 分)

$6 \times ( ) = 54$        $3 \times ( ) = 21$        $( ) \times 9 = 45$

$( ) \times 2 = 16$      $( ) \times 8 = 56$      $7 \times ( ) = 49$


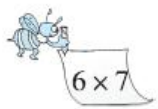




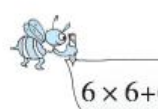
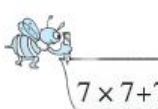
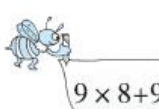
3. 在○里填上“>”“<”或“=”。(每题 1 分, 共 4 分)

$4 \times 8$  ○  $28$        $8 \times 9$  ○  $17$        $6 + 8$  ○  $48$        $3 \times 8$  ○  $24$


4. 在○里填上“+”“-”或“×”。(每题 1 分, 共 4 分)

$7$  ○  $6 = 42$        $8$  ○  $3 = 11$        $6$  ○  $9 = 54$        $9$  ○  $2 = 7$

5. 勤劳的小蜜蜂。(连一连)(9 分)

 $8 \times 9$	 $6 \times 7$	 $9 \times 9$	 $7 \times 9$	 $7 \times 8$
$42$	$81$	$72$	$56$	$63$
 $8 \times 9 - 9$	 $6 \times 6 + 6$	 $7 \times 7 + 7$	 $9 \times 8 + 9$	

6. 看得数写乘法算式。(每题写 2 道)(每题 4 分, 共 12 分)

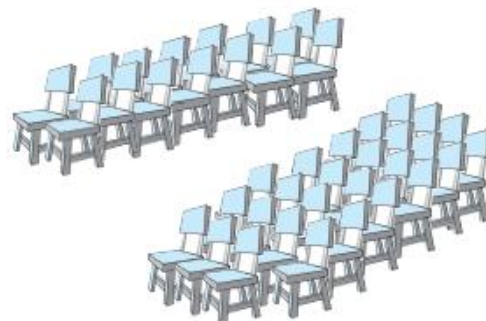


三、我会应用。(1 题 7 分, 2 题 12 分, 共 19 分)






1. 二(3)班 2 名老师和 38 名学生观看《小兵张嘎》，下面这些座位，能坐下吗？



2.

			
5 元/瓶	8 元/盒	4 元/个	6 元/盒

- (1)买 1 盒饼干和 1 盒牛奶，需要多少元？
- (2)买 9 瓶果汁，需要多少元？
- (3)你还能提出其他用乘法解决的问题并解答吗？





## 答案

一、 $1.6 \times 5$   $5 \times 6$

2.  $6 \times 9 = 54$   $9 \times 6 = 54$

3. (1) 28 42

(2) 36 63

(3) 48 36

4. 16 10 64

5. 6 8

6. 七 九 九 六 八 二十四

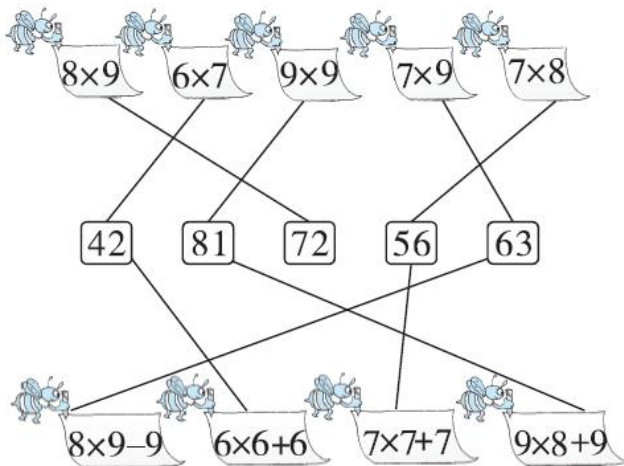
二、1. 12 45 6 28 24 56 42 24 40 36

2. 9 7 5 8 7 7

3.  $>$   $>$   $<$   $=$

4.  $\times$   $+$   $\times$   $-$

5.



6.  $4 \times 9 = 36$   $6 \times 6 = 36$   $3 \times 4 = 12$

$6 \times 2 = 12$   $2 \times 9 = 18$   $3 \times 6 = 18$

(答案不唯一)





三、 $1.2+38=40$ (名)

$$2 \times 7 = 14 \text{(把)}$$

$$4 \times 6 = 24 \text{(把)}$$

$$14 + 24 + 3 = 41 \text{(把)}$$

$$40 < 41$$

答：能坐下。

2. (1) $6+8=14$ (元)

答：需要 14 元。

【点拨】应该用加法计算。

$$(2) 9 \times 5 = 45 \text{(元)}$$

或  $5 \times 9 = 45 \text{(元)}$

答：买 9 瓶果汁，需要 45 元。

(3)(答案不唯一)买 6 个冰激凌需要多少元？

$$6 \times 4 = 24 \text{(元)} \text{ 或 } 4 \times 6 = 24 \text{(元)}$$

答：买 6 个冰激凌需要 24 元。

