



## 第七单元达标测试卷

### 一、我会填。(每空 1 分, 共 16 分)

1. 当分针指向 12, 时针指向 8, 这时针面上的时间是( )。
2. 当时针走过 4, 分针指向 7, 这时针面上的时间是( )。
3. 半小时是( )分, 一刻指的是( )分。
4. 时针走 1 大格, 分针正好走 1 圈, 所以 1 小时是( )分。
5. 分针从 12 走到 7, 走了( )分; 时针从 12 走到 7, 走了( )时。
6. 时针从 5 开始绕了一圈又走回 5, 走了( )时。
7. 在( )里填上合适的单位。
  - (1) 课间操 20( )。
  - (2) 青少年每天睡眠要保证 9( )。
  - (3) 每天晚间新闻联播 7( )播出, 播出时间一共 30( )。
  - (4) 12 岁的聪聪跑 400 米大约用 2( )。
8. 张老师每天晚上 6: 30 开始锻炼半小时, 晚上( )锻炼结束。
9. ( )时和( )时整, 时针和分针成直角。


### 二、我会选。(每题 2 分, 共 10 分)

1. 看一场杂技的时间大约是( )。  
① 1 分                      ② 1 时                      ③ 一刻
2. 8 时 5 分也可以表示为( )。  
① 8: 5                      ② 8: 50                      ③ 8: 05





3. 下边的钟面时间是( )。



- ①9时11分      ②9时55分      ③10时55分

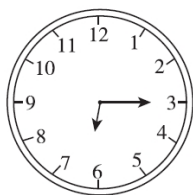
4. 小学生每天在校时间不超过6( )。

- ①分      ②时      ③元


5. 小明每天早上7:30从家出发去上学,路上走了15分,他( )  
到校。

- ①8:00      ②7小时45分      ③7:45


三、我会认,用两种不同的方法表示时间。(18分)




\_\_\_\_\_  
:  
\_\_\_\_\_




\_\_\_\_\_  
:  
\_\_\_\_\_




\_\_\_\_\_  
:  
\_\_\_\_\_



\_\_\_\_\_  
:  
\_\_\_\_\_



\_\_\_\_\_  
:  
\_\_\_\_\_

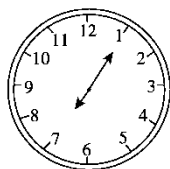
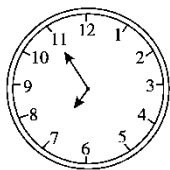


\_\_\_\_\_  
:  
\_\_\_\_\_

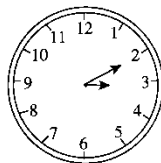
四、我会判。(每题3分,共6分)

1. 在去得早的小朋友下面画“√”。

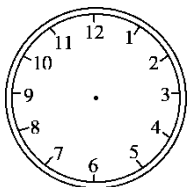




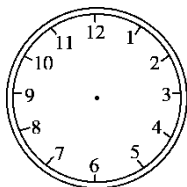
2. 在先做完作业的小朋友下面画“√”。



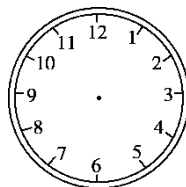
### 五、我会画。(6分)



7: 30



1: 05


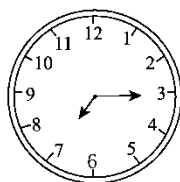
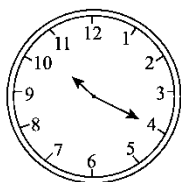
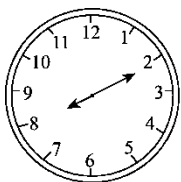


2: 50

### 六、我会连。(8分)

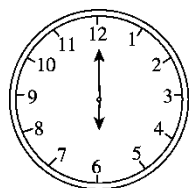
时间	7: 10~7: 30	8: 05~8: 20	8: 45~9: 40	10: 00~11: 30
活动	起床	吃早餐	读书	踢足球

把时间和相应的活动连起来。





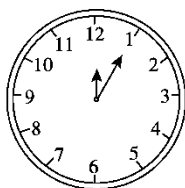
七、我会判，对的画“√”，错的画“×”并改正。(8分)



12时30分



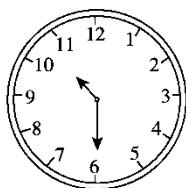
( )



1时60分



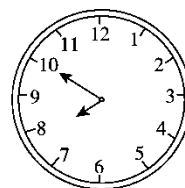
( )



6时50分



( )

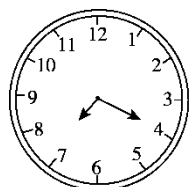


8时50分

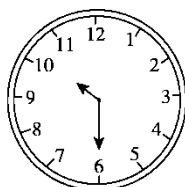


( )

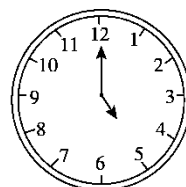
八、我会按要求写时间。(8分)



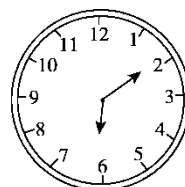
过 10 分是



过 5 分是



过一刻是



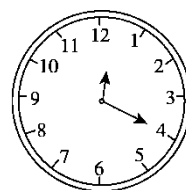
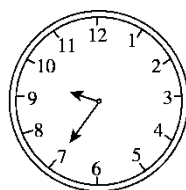
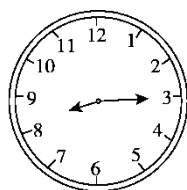
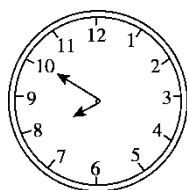
过半小时是

九、(变式题)他们可能在什么时间去图书馆看书? 圈一圈。(5分)



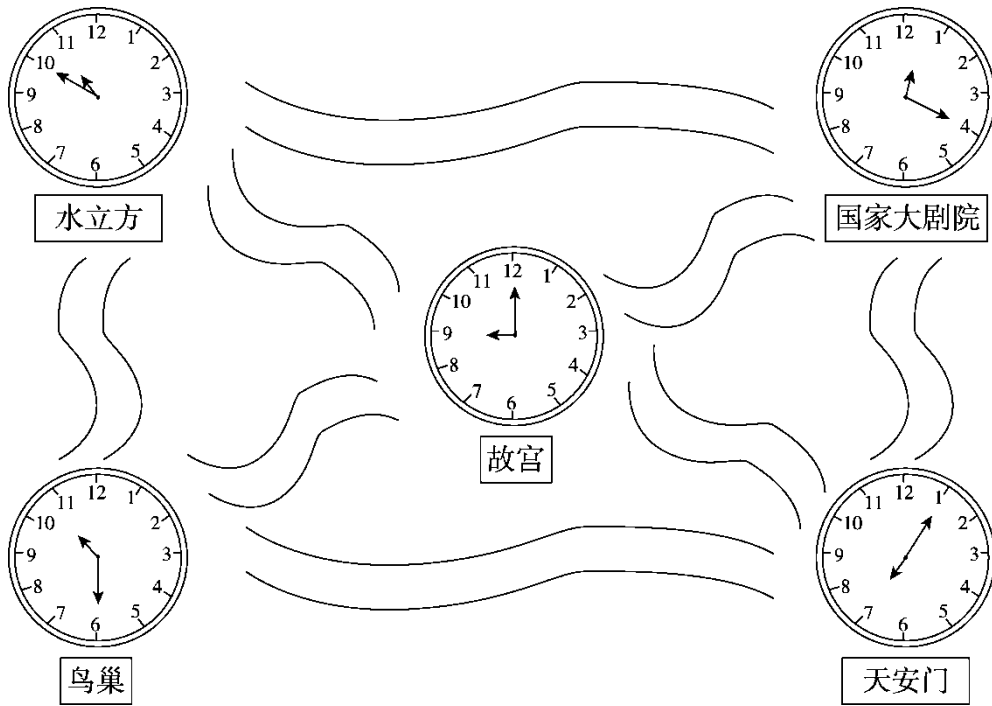
咱们8:10开始写作业, 然后去图书馆看书。

我12:00再回家看少儿频道播出的《动漫世界》。





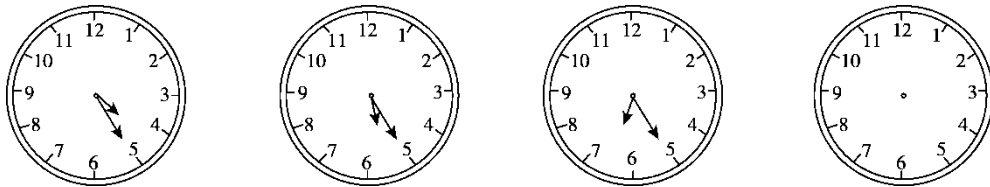
十、小明的周末。(10分)



小明的参观路线是：

( ) → ( ) → ( ) → ( ) → ( )。

十一、按规律画出最后一个钟面的分针和时针。(5分)





### 答案

一、1. 8时 2. 4时35分 3. 30 15 4. 60

5. 35 7 6. 127. (1)分 (2)时 (3)时 分(4)分

8. 7: 00 9. 3 9

二、1.② 2.③ 3.② 4.② 5.③

三、6: 15                      1: 45                                      7: 00

6时15分                      1时45分                                      7时


3: 05                              8: 20                                      10: 55

3时5分                              8时20分                                      10时55分

四、1. 在明明下面画√

2. 在小红下面画√

五、略。



六、

七、× 6时

× 12时5分

× 10时30分

× 7时50分

八、7: 30 10: 35 5: 15 6: 40





九、圈第3个图。

十、天安门 故宫 鸟巢 水立方 国家大剧院

十一、

