



一年级期中检测卷(A)

班级: _____ 姓名: _____ 满分: 100分 考试时间: 90分钟

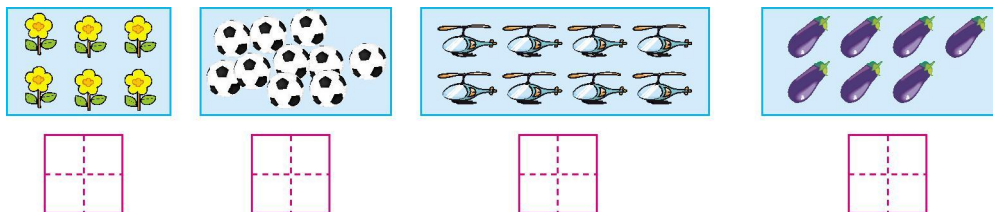
题序	第一题	第二题	第三题	第四题	第五题	第六题	第七题	总分
得分								

一、看谁算得对又快。(8分)

$10-9=$ $6+2=$ $8-5=$ $2+1+7=$
 $9-8=$ $7-5=$ $4+5=$ $6+4-5=$

二、想一想, 填一填。(34分)

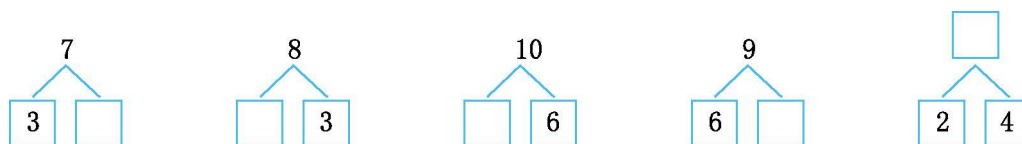
1. 看图写数。(4分)



2. 在 里填上合适的数。(6分)



3. (5分)



4. (4分)



一共有()只小猫;从左边数,小黑猫排第();它前面有()










只小猫,后面有()只小猫。

5. 把 2、8、0、6、10、5、9 这些数,按从大到小的顺序写一写。(7分)

--	--	--	--	--	--	--	--

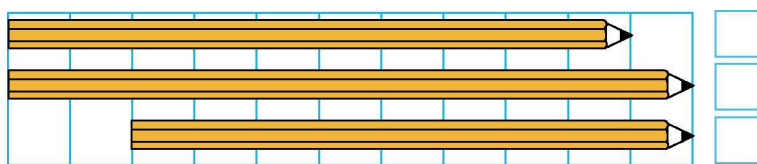
6. (4分) 

把右边的 7 串葡萄圈起来,在从左边数第 8 串葡萄下面画 “ ”。


7. (4分)   比  少 _____ 个;
 比  多 _____ 个。

三、比一比,分一分。(12分)

1. 在最长的后面画 “○”,最短的后面画 “×”。(4分)




2. 在最高的下面画 “○”,最矮的下面画 “×”。(4分)




3. 把每行中不同类的圈出来。(4分)





四、小鱼儿吐泡泡。(9分)



$4+1 \bigcirc 7$

$6+4 \bigcirc 10$

$9-7 \bigcirc 4$

$6+0 \bigcirc 4+4$

$7-1 \bigcirc 0+6$

$7-4 \bigcirc 8-5$

$4+2 \bigcirc 10-2$

$10-4-4 \bigcirc 1$

$2+7-3 \bigcirc 5$

五、看一看, 填一填。(6分)

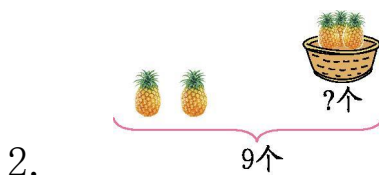



1. 丫丫的前面是(), 右边是()。

2. ()在丁丁的左边, ()在丁丁的右边。

3. 圆圆的后面是(), 左边是()。

六、看图列式计算。(15分)

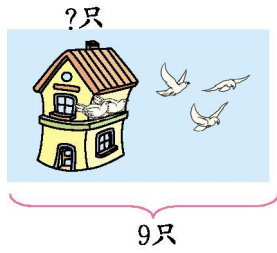


$\square \bigcirc \square = \square$






3.



$$\square \bigcirc \square = \square$$

4. 还剩多少根黄瓜?



$$\square \bigcirc \square \bigcirc \square = \square$$


5. 现在有多少个小朋友?



$$\square \bigcirc \square \bigcirc \square = \square$$

七、解决问题。(16分)

1. (5分)



每只小猴摘一个桃,树上还有几个桃?

$$\square \bigcirc \square = \square$$





2. 幼儿园小朋友排队打预防针,从前面数小林是第3个,从后面数小林是第5个。打预防针的共有几个小朋友?(5分)

$$\square \bigcirc \square \bigcirc \square = \square$$

3. 小兔的生日。(6分)



(1)演奏的小动物一共有多少只?

$$\square \bigcirc \square \bigcirc \square = \square$$

(2)篮子里还剩几个萝卜?

$$\square \bigcirc \square \bigcirc \square = \square$$

(3)根据图中的信息,你还能提出什么数学问题?用算式表示出来。





参考答案

一、 1 8 3 10 1 2 9 5

二、 1.6 10 8 7 2.0 4 6

7 9 10

3.4 5 4 3 6 4.10 8 7

2

5.10 9 8 6 5 2 0

6.略 7.3 3

三、 1. × 2. ×

3.略

四、 < = < < = = < > >

五、 1.丁丁 亚宁 2.小红 圆圆

3.亚宁 丁丁

六、 $1.3+7=10$ $7+3=10$ $10-3=7$

$10-7=3$

$2.9-2=7$ $3.9-3=6$ $4.7-3-1=3$

$5.5-2+3=6$

七、 $1.9-7=2$ $2.3+5-1=7$

3.(1) $3+2+2=7$ (2) $8-3-1=4$

(3)答案不唯一,如:一共有多少朵花?

$2+3+2=7$

