



第三单元检测卷（二）

一、算一算。

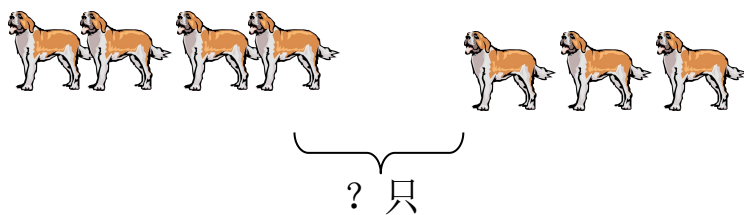
1、直接写得数。（共 20 分）

$2+5=$	$3+4=$	$7-5=$	$8-0=$
$1+9=$	$9-8=$	$10-6=$	$3+5=$
$10-3=$	$5+5=$	$4+1=$	$9-4=$
$2+5=$	$6-3=$	$10-8=$	$0+9=$
$6+4=$	$7-4=$	$3+6=$	$1+8=$


2、括号里填几？（共 18 分）

$() + 4 = 6$ $7 - () = 0$ $10 = () + 5$
 $() - 4 = 3$ $9 - () = 2$ $() + 4 = 8$
 $2 + () = 2$ $() - 3 = 3$ $() + 7 = 10$

二、看图写算式。（共 16 分）




$\square \bigcirc \square = \square$ (只)



$\square \bigcirc \square = \square$ (只)



?





⎵
? 个

$$\square \bigcirc \square = \square \text{ (个)}$$

(张)

⎵

8 张

$$\square \bigcirc \square = \square$$

三、在○里填上“>”、“<”或“=”。(共 10 分)

$10 \bigcirc 9$

$1 \bigcirc 0$

$3 \bigcirc 4$

$7 \bigcirc 7$

$2+3 \bigcirc 3+2$

$8+1 \bigcirc 7+1$

$7-7 \bigcirc 3-3$

$9-3 \bigcirc 9-2$

$7+3 \bigcirc 5+4$

$6-0 \bigcirc 6+0$

四、计算。(共 18 分)

$2+3-5=$

$4+3+3=$

$10-3-6=$

$9-1+1=$

$0+7-7=$

$6+4-4=$

$4-1+7=$

$6-3+3=$

$7-3-2=$

五、完成一图四式。(共 8 分)



$\square \bigcirc \square = \square$

$\square \bigcirc \square = \square$

$\square \bigcirc \square = \square$

$\square \bigcirc \square = \square$

六、看图列式计算。(共 10 分)

1、



? 个





$$\square \bigcirc \square \bigcirc \square = \square$$

2、▲▲▲ ▲▲ (? 个)

9 个

$$\square \bigcirc \square \bigcirc \square = \square$$

3、



(? 只)

8 只

$$\square \bigcirc \square \bigcirc \square = \square$$





参考答案：

1、直接写得数。（共 20 分）

$2+5=7$	$3+4=7$	$7-5=2$	$8-0=8$
$1+9=10$	$9-8=1$	$10-6=4$	$3+5=8$
$10-3=7$	$5+5=10$	$4+1=5$	$9-4=5$
$2+5=7$	$6-3=3$	$10-8=2$	$0+9=9$
$6+4=10$	$7-4=3$	$3+6=9$	$1+8=9$

2、括号里填几？（共 18 分）

$(2) + 4 = 6$	$7 - (7) = 0$	$10 = (5) + 5$
$(7) - 4 = 3$	$9 - (7) = 2$	$(4) + 4 = 8$
$2 + (0) = 2$	$(6) - 3 = 3$	$(3) + 7 = 10$

二、看图写算式。（共 16 分）

1、 $4+3=7$ 2、 $7-4=3$ 3、 $4+5=9$ 4、 $8-3=5$

三、在○里填上“>”、“<”或“=”。（共 10 分）

$10 < 9$	$1 > 0$	$3 < 4$	$7 = 7$
$2+3 = 3+2$	$8+1 > 7+1$	$7-7 = 3-3$	
$9-3 < 9-2$	$7+3 > 5+4$	$6-0 = 6+0$	

四、 $2+3-5=2$ $4+3+3=10$ $10-3-6=0$

$9-1+1=9$ $0+7-7=0$ $6+4-4=6$

$4-1+7=10$ $6-3+3=6$ $7-3-2=3$

五、 $5+4=9$ $9-4=5$ $4+5=9$ $9-5=4$

六、1、 $3+2+4=9$ 2、 $9-3-2=4$ 3、 $8-3-2=3$

