



周测培优卷 8

一、我会填。(每空 1 分, 共 21 分)

1. $9+9+9$ 可以写成的乘法算式是()和()。
2. 根据“六九五十四”写出的乘法算式是()、
()。
3. 在()里填上合适的数。
(1) $14 \quad 21 \quad () \quad 35 \quad ()$ 。
(2) $27 \quad () \quad 45 \quad 54 \quad ()$ 。
(3) $60 \quad 54 \quad () \quad 42 \quad ()$ 。
4. 2 个 8 相加, 和是(); 2 与 8 相加, 和是(); 2 个 8 相乘, 积是()。
5. 两个一位数的积是 48, 这两个一位数是()和()。
6. 口诀接龙:

$\boxed{\text{四} () \text{二十八}} \rightarrow \boxed{\text{七} () \text{六十三}} \rightarrow \boxed{\text{五} () \text{四十五}}$
 $\rightarrow \boxed{() \text{九五十四}} \rightarrow \boxed{\text{六} () \text{四十八}} \rightarrow \boxed{\text{三八} ()}$

二、计算闯关。(共 69 分)


1. 直接写出得数。(每题 1 分, 共 10 分)

$$\begin{array}{ccccc} 8+4= & 9 \times 5= & 9-3= & 4 \times 7= & 8 \times 3= \\ 8 \times 7= & 7 \times 6= & 42-18= & 8 \times 5= & \times 4= \end{array}$$







2. 细心算一算。(每题 2 分, 共 18 分)



$$\begin{aligned} 6 \times 7 + 7 &= \\ 8 \times 3 + 8 &= \\ 7 \times 9 + 2 &= \end{aligned}$$



$$\begin{aligned} 6 \times 9 + 7 &= \\ 9 \times 5 - 25 &= \\ 7 \times 8 - 20 &= \end{aligned}$$



$$\begin{aligned} 8 \times 9 + 24 &= \\ 5 \times 8 - 27 &= \\ 3 \times 7 + 9 &= \end{aligned}$$

3. 在括号里填上合适的数。(每空 2 分, 共 12 分)

$6 \times (\quad) = 54 \quad 3 \times (\quad) = 21 \quad (\quad) \times 9 = 45$

$(\quad) \times 2 = 16 \quad (\quad) \times 8 = 56 \quad 7 \times (\quad) = 49$

4. 在○里填上“>”“<”或“=”。(每题 1 分, 共 4 分)

$4 \times 8 \bigcirc 28 \quad 8 \times 9 \bigcirc 17 \quad 6 + 8 \bigcirc 48 \quad 3 \times 8 \bigcirc 24$

5. 在○里填上“+”“-”或“×”。(每题 1 分, 共 4 分)

$7 \bigcirc 6 = 42 \quad 8 \bigcirc 3 = 11 \quad 6 \bigcirc 9 = 54 \quad 9 \bigcirc 2 = 7$

6. 括号里最大能填几。(每题 2 分, 共 12 分)

$8 \times (\quad) < 70 \quad 6 \times (\quad) < 29 \quad 9 \times (\quad) < 50$


$(\quad) \times 9 < 55 \quad (\quad) \times 7 < 65 \quad (\quad) \times 5 < 48$

7. 看得数写乘法算式。(至少写 3 道)(每题 3 分, 共 9 分)





三、我会应用。(1 题 4 分, 2 题 6 分, 共 10 分)

1. 二(3)班 2 名老师和 38 名学生观看《小兵张嘎》，下面这些座位，能坐下吗？





2.

 雪碧	 酸奶	 冰淇淋	 饼干
5 元/瓶	8 元/盒	4 元/个	6 元/盒

(1)买一盒饼干和一盒酸奶，需要多少元钱？

(2)买 9 瓶雪碧，需要多少元钱？

(3)你还能提出其他用乘法解决的问题并解答吗？





答案

一、 1.3×9 9×3

2. $6 \times 9 = 54$ $9 \times 6 = 54$

3. (1)28 42 (2)36 63

(3)48 36

4. 16 10 64

5. 6 8(或8 6)

6. 七 九 九 六 八 二十四

二、 1.12 45 6 28 24 56 42 24 40 36

2. 49 32 65 61 20 36 96 13 30

3. 9 7 5 8 7 7

4. $>$ $>$ $<$ $=$

5. \times $+$ \times $-$

6. 8 4 5 6 9 9

7. 36: $4 \times 9 = 36$ $6 \times 6 = 36$ $9 \times 4 = 36$

12: $3 \times 4 = 12$ $6 \times 2 = 12$ $4 \times 3 = 12$

18: $2 \times 9 = 18$ $3 \times 6 = 18$ $6 \times 3 = 18$ (答案不唯一)

三、 $1.2 + 38 = 40$ (名)

$2 \times 7 + 4 \times 6 + 3 = 41$ (个)(列式不唯一)

$40 < 41$, 能 答: 这些座位能坐下。

2. (1) $6 + 8 = 14$ (元)

答: 需要 14 元钱。





[点拨] 应该用加法列式就别用乘法列式。

(2) $9\times 5=45$ (元)或 $5\times 9=45$ (元)

答：买 9 瓶雪碧，需要 45 元钱。

(3)买 6 个冰淇淋需要多少元钱？

$6\times 4=24$ (元)或 $4\times 6=24$ (元)

答：买 6 个冰淇淋需要 24 元钱。(答案不唯一)

