



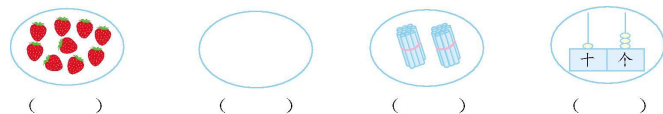
# 一年级上册期末检测卷 (A)

班级: \_\_\_\_\_ 姓名: \_\_\_\_\_ 满分: 100 分 考试时间: 90 分钟

题序	第一题	第二题	第三题	第四题	第五题	第六题	第七题	第八题	总分
得分									

## 一、想一想, 填一填。(15 分)

1. 看图写数。



2. 18 里面有( )个十和( )个一; 20 里面有( )个十。



3. 一共有( )颗星, 从左起第( )颗星是红色。

4. 一只蚂蚁有 6 只脚, 两只蚂蚁有( )只脚。



5. 苹果比梨多( )个; 桃比苹果少( )个; 梨比桃多( )个; 去掉( )个苹果, 苹果和梨同样多。

6. 同学们做操, 小红前面有 8 个同学, 后面有 4 个同学, 这一队一共有( )个同学。

## 二、按要求做一做。(10 分)

1. (4 分)




(1) 把上图中不同类的划掉。

(2) 把右边的 3 个圈出来; 从左边数, 在第 3 个物体的下面画“√”。


2. 比一比, 猜一猜。(6 分)

(1) 小动物们要到小猫家玩, 谁走得路最短? 在  里画“√”。



(2) 在最多的下面画“√”。

(3) 在最短的下面画“×”。




## 三、算一算。(12 分)

$10-8=$	$9+7=$	$13-3=$	$4+9=$
$7-6+5=$	$10-4-4=$	$2+7+6=$	$2+6-4=$
$13-4=$	$8+5=$	$5+6=$	$14-9=$

## 四、在 里填上“>”“<”或“=”。(12 分)

$16-5 \bigcirc 10$	$5+9 \bigcirc 15$	$6+8 \bigcirc 8+6$
$14 \bigcirc 8+7$	$12+0 \bigcirc 12-0$	$11-5-2 \bigcirc 9$

## 五、辨一辨, 填一填。(6 分)



在 的( )面; 在 的( )面; 在 的( )面。

班级:

姓名:

准考证号:

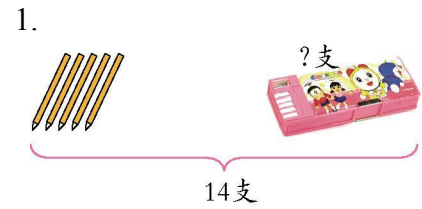




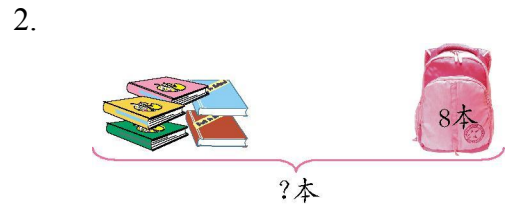
六、数一数,填一填。(8分)



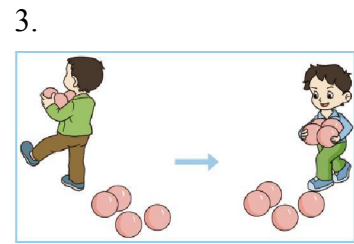
七、看图列式计算。(12分)




$$\square \bigcirc \square = \square \text{ (支)}$$



$$\square \bigcirc \square = \square \text{ (本)}$$



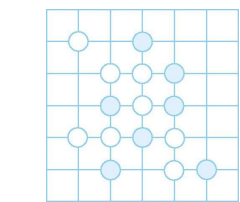
$$\square \bigcirc \square \bigcirc \square = \square \text{ (个)}$$



$$\square \bigcirc \square \bigcirc \square = \square \text{ (只)}$$

八、解决问题。(25分)

1. 一共有多少枚棋子?(5分)



$$\square \bigcirc \square = \square \text{ (枚)}$$

2. 小黄猫钓了几条鱼?(5分)



$$\square \bigcirc \square = \square \text{ (条)}$$

3. (5分)



$$\square \bigcirc \square = \square \text{ (个)}$$

4. 两个花坛一共有多少朵花?(5分)



$$\square \bigcirc \square = \square \text{ (朵)}$$

5. (5分)



$$\square \bigcirc \square \bigcirc \square = \square \text{ (人)}$$



○ : : : : : 密 : : : : : 封 : : : : : 线 : : : : : 内 : : : : : 不 : : : : : 要 : : : : : 答 : : : : : 题 : : : : : ○



## 参考答案

一、1. 9 0 20 13

2. 1 8 2

3. 14 9

4. 12

5. 4 5 1 4

6. 13

二、1. (1)提示:划掉茄子。

(2)提示:把草莓、梨、西瓜圈起来,在菠萝下面画“√”。

2. (1)从上到下:

(2)    (3)

三、2 16 10 13 6 2 15 4 9 13 11 5

四、> < = < = <

五、左 下 左

六、1 8 3 8

七、1.  $14-5=9$

2.  $8+5=13$  或  $5+8=13$

3.  $7-3+4=8$

4.  $7-2+3=8$

八、1.  $7+8=15$  或  $8+7=15$

2.  $17-9=8$

3.  $18-9=9$

4.  $8+8=16$

5.  $9-3+5=11$

班级: \_\_\_\_\_

姓名: \_\_\_\_\_

准考证号: \_\_\_\_\_

题

答

要

不

内

线

封

密

