



周测培优卷 11

20 以内的进位加法应用能力检测卷

一、我会填。(每空 4 分, 共 24 分)

1. 逛超市, 买玩具。

mǎi liǎng zhǒng wán jù, zuì shǎo yào ()
yuán zuì duō yào () yuán.
买两种玩具, 最少要()元, 最多要()元。

2. 小动物们搬椅子。

yòu bān lái 7 bǎ
又搬来 7 把。

已经搬了()把椅子, 现在一共有()把椅子。

3. 聪聪爱吃苹果。

wǒ yǐ jīng chī le yí bàn
我已经吃了一半。

还剩()个苹果, 原来一共有()个苹果。

二、我会看图列式计算。(每题 8 分, 共 16 分)

1. ?支
9支

$$\square \bigcirc \square = \square \text{ (支)}$$

2. ?个

$$\square \bigcirc \square = \square \text{ (个)}$$






三、我会解决有趣的生活问题。(每题 12 分，共 60 分)

1. 现在有多少只蚂蚁?

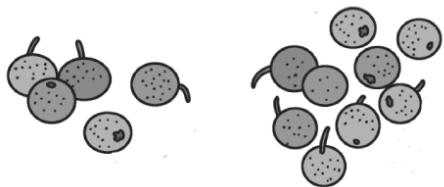
$$\square \bigcirc \square = \square \text{ (只)}$$



2.

一共有多少个果子?

$$\square \bigcirc \square = \square \text{ (个)}$$




3.

车上原来有多少人?

$$\square \bigcirc \square = \square \text{ (人)}$$



4.



还能怎样解答?



一共有多少只羊?

$$\square \bigcirc \square = \square \text{ (只)}$$

$$\square \bigcirc \square = \square \text{ (只)}$$

5.



一共有多少个南瓜?

$$\square + \square = \square \text{ (个)}$$

你还能提出其他数学问题并解答吗?





答案

一、1. 10 17 [点拨] 最少要多少元，就选价格便宜的，列式是 $3+7=10$ (元)；最多要多少元，就选价格高些的，列式是 $8+9=17$ (元)。

2. 9 16

3. 8 16 [点拨] 吃了一半，说明吃的和还剩的同样多。

二、1. $9-4=5$ 2. $9+4=13$

三、1. $4+8=12$ 2. $5+9=14$ 3. $3+8=11$

4. $7+6=13$ $5+8=13$

5. $5+6=11$

一共有几个小朋友？ $2+6=8$ (个)(所提问题不唯一)

