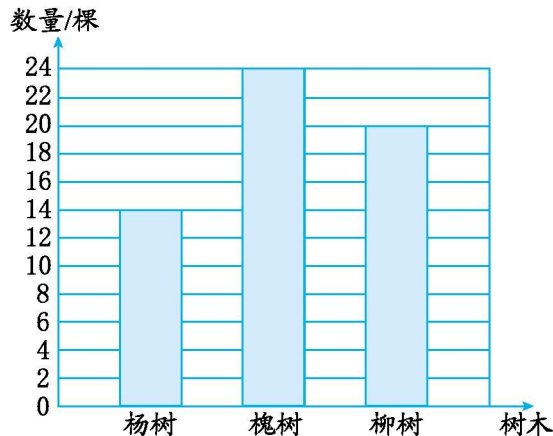




第八单元测试卷(B)

一、根据统计图,完成下面各题。



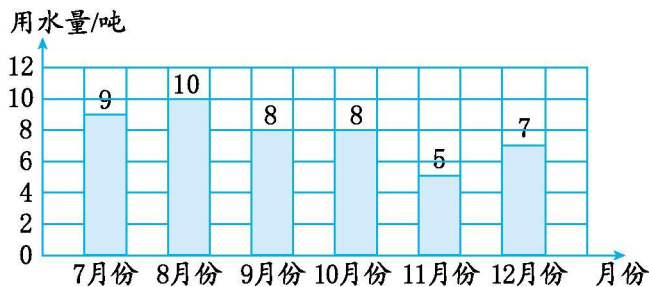
1. 将图中的数据填入统计表。

树木	杨树	槐树	柳树
数量/棵			

2. ()树最多,()树最少,这两种树相差()棵。

3. 再种()棵柳树,就和槐树一样多。

二、下面是明明家 2016 年下半年的用水量情况统计图。



1. 根据统计图,完成统计表。

月份	7月份	8月份	9月份	10月份	11月份	12月份
用水量/吨						

2. 纵轴上每格代表()吨。

3. 明明家下半年一共用水多少吨?

4. 明明家平均每个月大约用水多少吨?

5. 哪个月的用水量最少?哪个月的用水量最多?你能分析一下原因吗?






三、下面是四(1)班同学喜欢的水果统计表。

水果	苹果	香蕉	菠萝	西瓜
人数	25	5	15	10

1. 将下面的统计图补充完整。



- 纵轴上每格表示()人。
- 四(1)班一共有多少人?如果每 11 人分为一组,可以分成几组?
- 学校组织春游,每辆客车可以坐 17 人,四(1)班要租几辆车?


四、下图是上海某个月的天气情况记录。

晴天 ☀️			阴天 ☁️			雨天 🌧️			
1	2	3	4	5	6	7	8	9	10
☁️	☁️	☀️	☀️	☁️	☁️	☁️	☁️	☀️	☀️
☀️	☀️	☀️	☁️	☁️	☀️	☀️	☀️	☁️	☁️
☁️	☀️	☁️	☁️	☁️	☀️	☁️	☁️	☁️	☀️

1. 根据记录,将统计表补充完整。

天气	晴天	阴天	雨天
天数			

2. 完成下面的统计图。



- 上面的条形统计图纵轴上每格代表()天比较合适。
- 这个月,上海()最多,()最少。





第八单元测试卷(B)答案

一、1.

树木	杨树	槐树	柳树
数量/ 棵	14	24	20

2. 槐 杨 10

3. 4

二、1.

月份	7月份	8月份	9月份	10月份	11月份	12月份
用水量/ 吨	9	10	8	8	5	7

2. 2

3. $9+10+8+8+5+7=47$ (吨)

答:明明家下半年一共用水 47 吨。

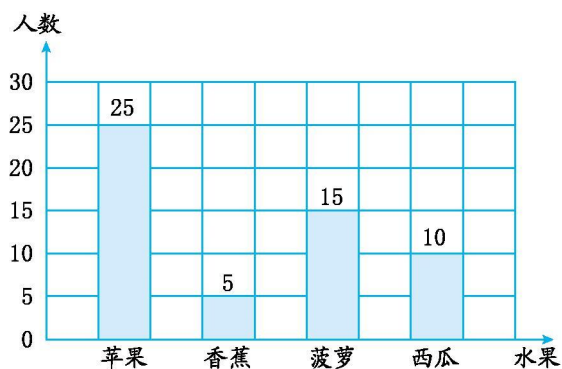
4. $47 \div 6 \approx 8$ (吨)

答:明明家平均每个月大约用水 8 吨。

5. 11 月份的用水量最少,8 月份的用水量最多。

原因:(答案不唯一)与天气气温高低有关,8 月份正是炎热的夏季,经常洗澡、洗衣服等,所以用水量比其他月份多。

三、1.



2. 5

3. $25+5+15+10=55$ (人) $55 \div 11=5$ (组)

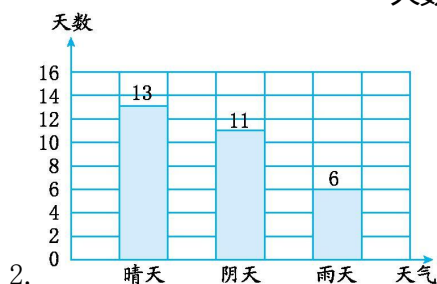
答:四(1)班一共有 55 人,可以分成 5 组。

4. $55 \div 17=3$ (辆).....4(人) $3+1=4$ (辆)

答:四(1)班要租 4 辆车。

四、1.

天气	晴天	阴天	雨天
天数	13	11	6



2.

3. 2

4. 晴天 雨天

