

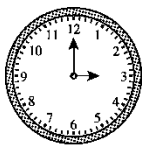


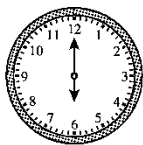
第七、八单元检测卷

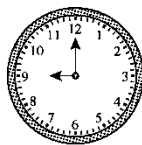
时间：40分钟 满分：100分


题号	一	二	三	四	五	六	七	八	总分
得分									

一、用两种方法写出钟面上的时刻。(8分)









二、小动物们说得对吗？对的画“√”，错的画“×”。(8分)

1.



快9时了。



()

2.



5时过一点儿。



()

3.



8时。



()

4.



快4时了。



()

三、算一算。(1题20分，2题8分，共28分)

$$\begin{aligned} 7+7= \\ 5+8= \\ 8+6= \end{aligned}$$

$$\begin{aligned} 4+8= \\ 8+9= \\ 7+5= \end{aligned}$$

$$\begin{aligned} 5+6= \\ 9+7= \\ 13-10= \end{aligned}$$

$$\begin{aligned} 15+3= \\ 14-4= \\ 3+8= \end{aligned}$$


1.

$$\begin{aligned} 3+8+3= \\ 18-8-7= \end{aligned}$$

$$\begin{aligned} 9-6+9= \\ 9+0-7= \end{aligned}$$

$$\begin{aligned} 4+9-3= \\ 15-5+9= \end{aligned}$$

$$\begin{aligned} 3+4+7= \\ 7+9-5= \end{aligned}$$

2. 在  里填上合适的数。

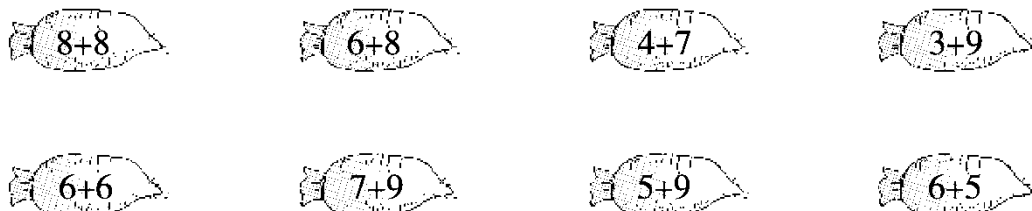




$$5 + \text{Apple} = 14 \quad \text{Apple} + 4 = 14 \quad \text{Apple} + 9 = 12 \quad \text{Apple} + 6 = 12$$

$$3 + \text{Apple} = 11 \quad 7 + \text{Apple} = 13 \quad 8 + \text{Apple} = 16 \quad 6 + \text{Apple} = 11$$

四、把得数相同的连一连。(8分)



五、请照样子写出不同的算式。(4分)

$$8 + 6 = \begin{cases} 7 + 7 \\ \square + \square \\ \square + \square \end{cases} \quad 5 + 7 = \begin{cases} 8 + 4 \\ \square + \square \\ \square + \square \end{cases}$$

六、在○里填上“>”“<”或“=”。(8分)

$$6 + 9 \bigcirc 16 \quad 14 \bigcirc 3 + 8 \quad 8 + 9 \bigcirc 15 \quad 5 + 6 \bigcirc 12 - 2$$

$$7 + 7 \bigcirc 16 \quad 11 \bigcirc 9 + 2 \quad 4 + 7 \bigcirc 14 \quad 6 + 7 \bigcirc 7 + 6$$

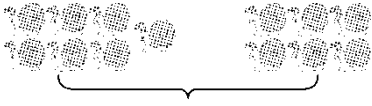
七、填一填。(6分)

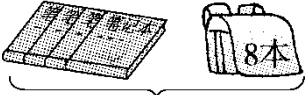
	原来	又买来	一共有
	7 把	6 把	() 把
	4 个	8 个	() 个
	() 盒	5 盒	9 盒

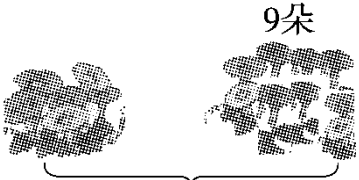
八、看图列式计算。(8分)







1.  $\square \bigcirc \square = \square$ (只)

2.  $\square \bigcirc \square = \square$ (本)

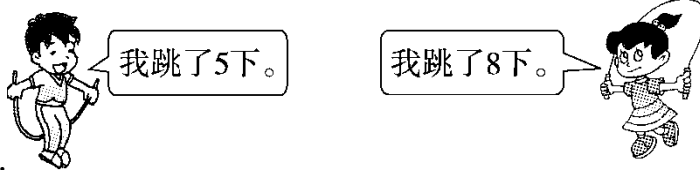
3.  $\square \bigcirc \square = \square$ (朵)

4.  $\square \bigcirc \square = \square$ (颗)

九、解决问题。(1~3题每题3分，4、5题每题4分，6题5分，共22分)

1.  $\square \bigcirc \square = \square$ (朵)

他们一共做好了多少朵?

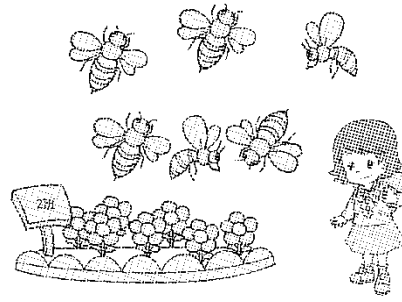

2.  $\square \bigcirc \square = \square$ (下)

他们一共跳了多少下?

3. 原来有多少个  ?

 $\square \bigcirc \square = \square$ (个)





4.

一共有多少只蜜蜂？

$$\square \bigcirc \square = \square \text{ (只)}$$

一共有多少朵花？


$$\square \bigcirc \square = \square \text{ (朵)}$$

5. 一共有多少个小朋友在做游戏？



方法一： $\square \bigcirc \square = \square \text{ (个)}$

方法二： $\square \bigcirc \square = \square \text{ (个)}$



6元



9元



7元



我从上面三种中选了两种。

6.

文文

文文可能花了多少钱？





答案

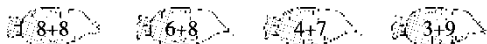
一、3: 00 3时 6: 00 6时 9: 00 9时 1: 00 1时

二、1. × 2. × 3. √ 4. √

三、1. 14 13 14 12 17 12 11 16 3 18 10 11 14 3

12 2 10 19 14 11

2. 9 10 3 6 8 6 8 5



四、

$$8+6 = \begin{cases} 7+7 \\ 9+5 \\ 10+4 \end{cases} \quad 5+7 = \begin{cases} 8+4 \\ 9+3 \\ 11+1 \end{cases}$$

五、 (答案不唯一)

六、< > > > < = < =

七、13 12 4

八、1. $7+6=13$ (只)

2. $4+8=12$ (本)

3. $6+9=15$ (朵) 4. $7+4=11$ (颗)

九、1. $8+8=16$ (朵)

2. $5+8=13$ (下)

3. $8+7=15$ (个)

4. $5+6=11$ (只) $8+7=15$ (朵)

5. $10+3=13$ (个) $5+8=13$ (个)

6. $6+9=15$ (元)(答案不唯一)

