





## 第一单元过关检测卷


一、圈出正确的答案。(每题3分，共15分)

1.  树叶在毛毛虫的(上 下)面。

2.  英语老师的(左 右)边是字母E。

3.  舞蹈家(左 右)脚抬向空中。

4.  在7名选手中，叔叔的前面有2人，他后面有(5 4 3)人。

5.  鱼在小猫的(左 右 前 后)面。

二、在正确说法的后面画“√”，在错误说法的后面画“×”。(每题3分，共15分)



1. 小明在奶奶的前面。 ( )

2. 石头的前面只有篮子。 ( )

3. 篮子的后面有石头，奶奶和小明。 ( )


4. 石头的前面是奶奶。 ( )


5. 小明的左手落在奶奶背上。 ( )

三、想一想，填一填。(每空2分，共28分)





1.  我说的数在10的前面,8的后面。  
这个数是( )。

2.  我家住3楼,我家楼上是( )楼,楼下是( )楼。

3. 小朋友做作业时, ( )手按住本子, ( )手拿笔写字。

4. 两人手拉手, 小乐用的是右手, 小笑用的是( )手。



5.



(1)花盆在书本的( )边, 书本在花盆的( )边。

(2)笔筒的右边有( )和( )。

(3)桌子的上面有( )。

(4)猫和球都在( )的下面。

(5)球在猫的( )面, 猫在球的( )面。

四、选一选。(每题4分, 共12分)

1. 下面描述正确的是( )。





- A. 《童话故事》在《智力游戏》的下面
  - B. 《作文大全》在《童话故事》的下面
  - C. 《智力游戏》的上面有2本书，下面有1本书
2. 路口的交通信号灯，红灯在黄灯的上面，绿灯在黄灯的下面，交通信号灯的颜色从上到下排列正确的是( )。
- A. 红绿黄
  - B. 黄红绿
  - C. 红黄绿

3.




- 下列说法不正确的是( )。
- A. 小男孩的右边是老爷爷
  - B. 小男孩牵着老爷爷的右手
  - C. 老爷爷在小男孩的左边


五、按要求圈一圈。(每题5分，共15分)

1. “上下楼，靠右走”，请圈出走错的那位小朋友。





2. 请圈出左手拿花的小朋友。

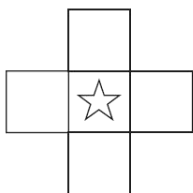


3. 请圈出桌子左边的物体。



六、动手解决问题。(1题4分, 2题5分, 3题6分, 共15分)

1.



在☆的左边画☀，右边画☾，上边画🚩，下边画⊕。

2. 按要求给下面的图形排排队。





☆在正中间。

☆的左边是▲，右边是△。

□在▲的左边。

○在△的右边。

3.



一共有 10 个小朋友，从右往左数，小军排第( )，从左往右数，小军排第( )。





## 答案

一、1. ④ 2. ③ 3. ③ 4. ④ 5. ③

二、1. × 2. √ 3. √ 4. × 5. ×

三、1. 9 2. 4 2 3. 左 右 4. 左

5. (1)右 左

(2)书本 花盆

(3)笔筒、书本、花盆

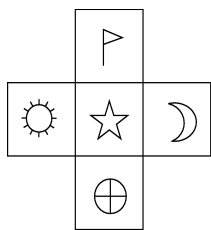
(4)桌子(答案不唯一)

(5)前 后

四、1. B 2. C 3. A

五、略

六、1.



2. □▲☆△○

3. 5 6

