





## 第四单元跟踪检测卷

一、我会找出同类的。(每题 5 分, 共 15 分)

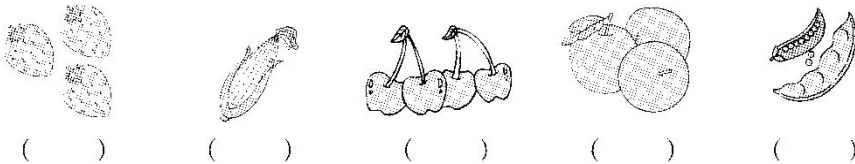
1. 在动物下面画“√”。




2. 在蔬菜下面画“√”。



3. 在水果下面画“√”。



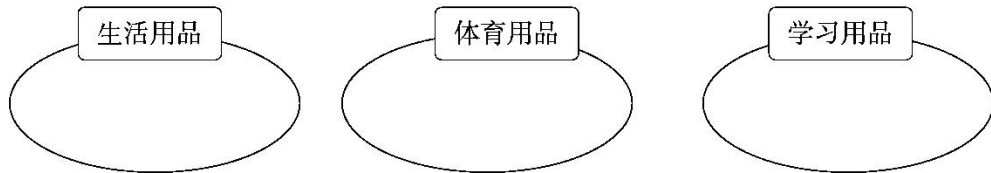
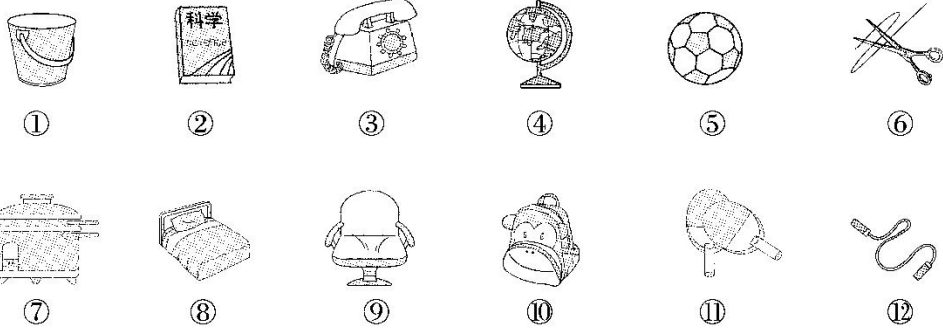
二、我会找出不同类的。(找出不同的圈起来)(每题 2 分, 共 6 分)



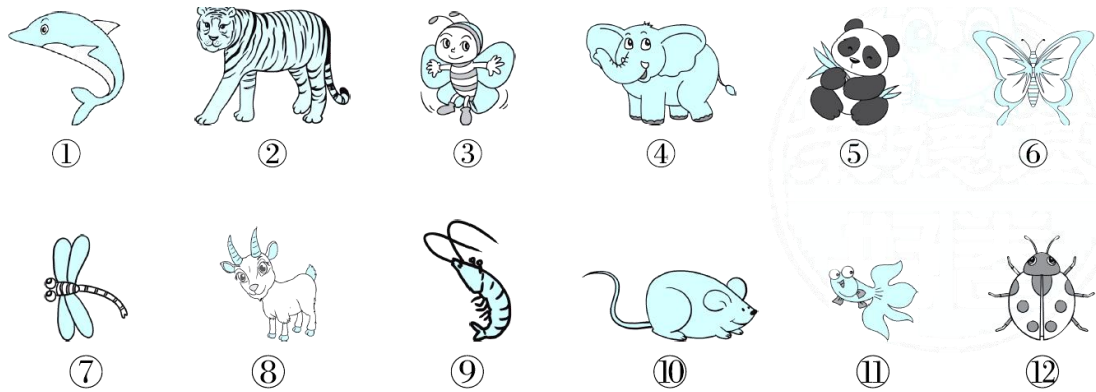
三、我会按不同的标准分类。(填序号)(共 65 分)

1. 物品分类。(12 分)





2. 动物分类。(12分)




天上飞的

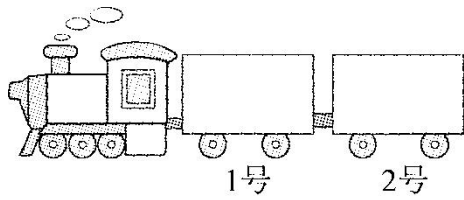
地上跑的

水里游的

3. 食物分类。(7分)

请将蔬菜放入1号车厢，水果放入2号车厢。





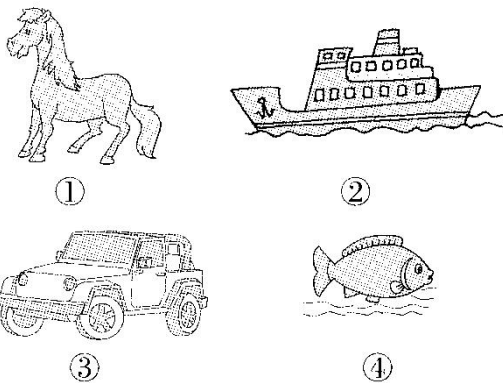
4. 服装分类。(12分)



我这样分：  
 长袖          短袖

我这样分：  
 有扣子的      没扣子的

5. 如何分呢？(4分)



分法一：

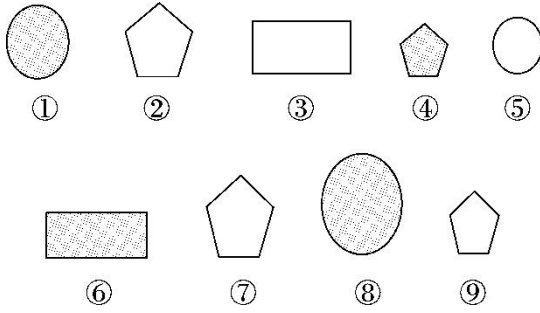
--	--

分法二：

--	--

6. 图形分类。(18分)





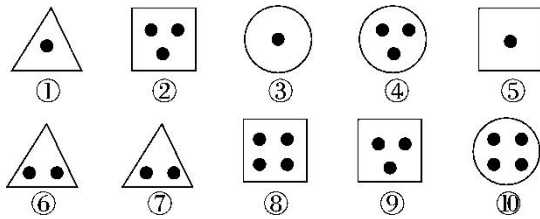
分成两类: 

--	--

分成三类: 

--	--	--

四、按提示将下面的图形分一分。(14分)



(1)把它们分成四组，请把同组的序号写在一起。

一	
二	
三	
四	

(2)把它们分成三组，请把同组的序号写在一起。

一	
二	
三	






## 答案



一、1. (√) ( ) (√) ( ) (√)



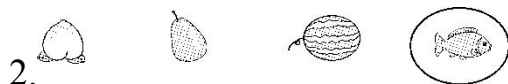
2. (√) (√) ( ) ( ) (√)



3. (√) ( ) (√) (√) ( )



二、1.

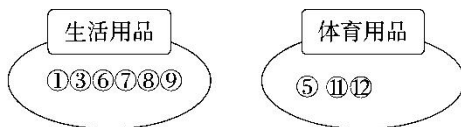


2.



3.

【点拨】长方形是平面图形，其余的都是立体图形。



三、1.




天上飞的

地上跑的



2. 水里游的



3.





我这样分：  
 长袖      短袖  
 ①③④      ②⑤⑥

我这样分：  
 有扣子的      没扣子的  
 ③④      ①②⑤⑥

4.

5. 分法一：

①③	②④
----	----

分法二：

①④	②③
----	----

6. 分成两类：

①④⑥⑧	②③⑤⑦⑨
------	-------

分成三类：

①⑤⑧	②④⑦⑨	③⑥
-----	------	----

四、(1)

一	①③⑤
二	⑥⑦
三	②④⑨
四	⑧⑩

(2)

一	①⑥⑦
二	②⑤⑧⑨
三	③④⑩

**【点拨】**分成四组，是按图形里面的点数分类的；分成三组，是按图形的形状分类的。注意，别找漏了。

