




第五单元过关检测卷

一、连一连。(每题 7 分，共 21 分)


1. 下面右边的三幅图分别是谁看到的？



2. 下面右边的三幅图分别是谁看到的？




3. 他们看到的小熊分别是怎样的？



二、填一填。(每题 7 分，共 21 分)

1. 下面右边的数字分别是谁看到的？填一填。





2. 下面右边的这三幅图分别是谁看到的？把名字写在()里。




3. 下面右边的这四幅图分别是谁看到的？把名字写在()里。



三、选一选。(每题 6 分，共 18 分)

1. 下面右边的照片是()拍的。

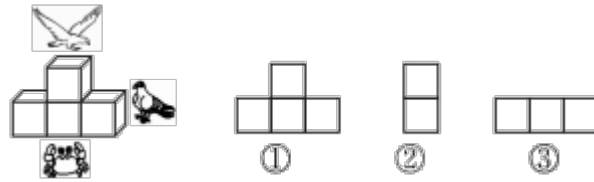


2. 小光看到的是()。

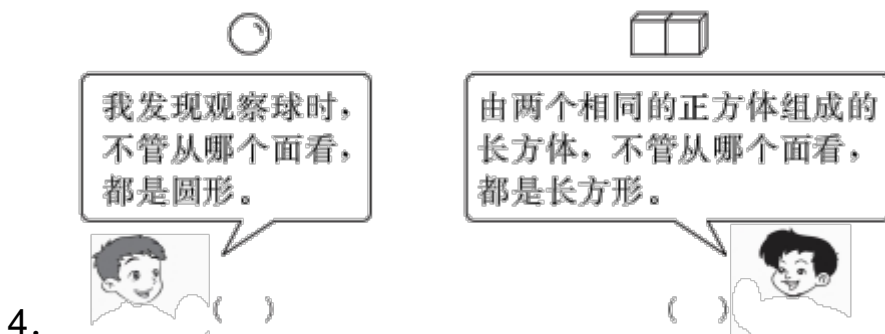
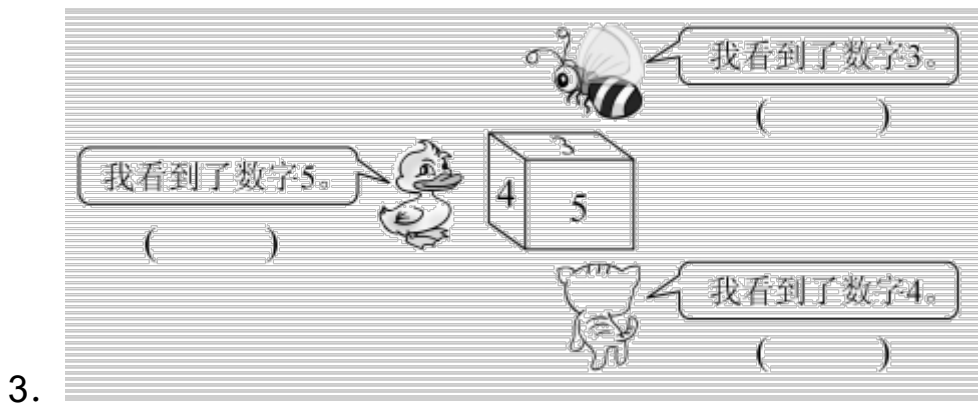




3.  看到的是()。





四、辨一辨。(对的画“√”，错的画“×”。)(每题6分，共24分)



五、想一想，选一选。(每题4分，共16分)

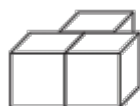




①



②

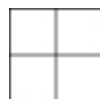


③





④

- 1.从前面看是图 A 的有()。 A
- 2.从前面看是图 B 的有()。 B
3. 从右面看是图 B 的有()。 C
4. 从上面看是图 C 的有()。





答案



二、1.猴 鸟 熊 2.小芳 小明 小刚

3. 小华 小亮 小刚 小明

三、1.③ 2.③ 3.①

四、1.× 2.× √ 3.鸭子× 蜜蜂√ 猫× 4.√ ×

五、1.① 2.②③④ 3.②③④ 4.④

