

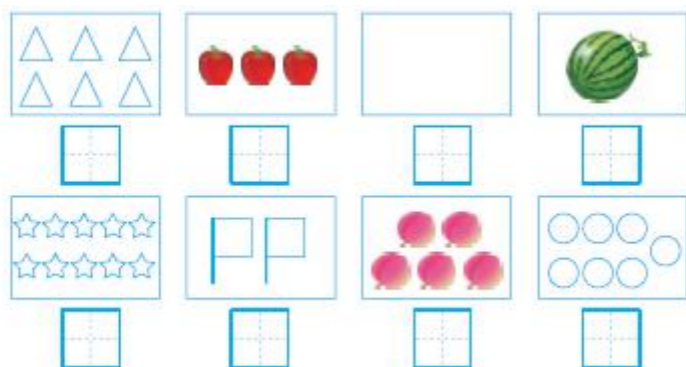


一年级上册期中检测卷 (B)

班级：_____ 姓名：_____ 满分：100分 考试时间：90分钟


题序	第一题	第二题	第三题	第四题	第五题	第六题	第七题	第八题	第九题	第十题	总分
得分											

一、看图写数字。(8分)



二

二、把同样多的连起来。(8分)



三、我会比较。(12分)

1. 在多的下面的括号里画“ ”，在少的下面的括号里画“○”。(2分)





()



()

2. (1)在最短的后面的括号里画“ ”。(2分)(2)在长的后面的□里画“ ”。(2分)




3. (1)在最高的下面的□里画“ ”，在最矮的下面的□里画“○”。(2分)



□ □ □

(2)在最大的下面的□里画“ ”，在最小的下面的□里画“○”。(2分)



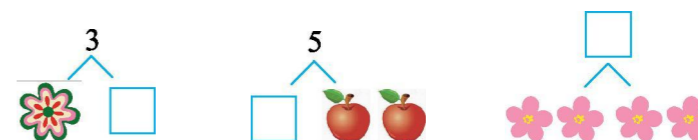
□ □ □

4. 在最轻的右面的□里画“○”，在最重的右面的□里画“ ”。(2分)



□
□
□

四、填一填。(8分)



班级：_____

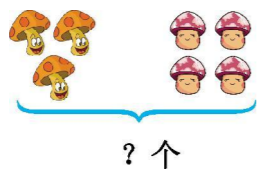
姓名：_____

准考证号：_____






五五、看图计算。(8分)



$\square \bigcirc \square = \square$ (个)



$\square \bigcirc \square = \square$ (只)


六六、直接写得数。(20分)

- $7+3=$ $9-4=$ $4+5=$ $0+4=$ $9-8=$
 $6+1=$ $2+8=$ $7-0=$ $9-9=$ $10-3=$
 $5-3=$ $10-5+4=$ $8-4+3=$ $5+1+2=$ $6+4-4=$
 $7-5+2=$ $8+1-3=$ $7-$ $6+4=$ $3+2+5=$ $10-2-8=$

七七、在○里填上“>” “<” 或 “=”。(10分)

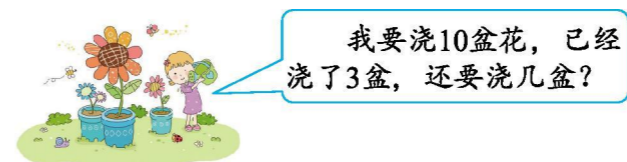
- $4-3 \bigcirc 4$ $6-2 \bigcirc 7$ $0+5 \bigcirc 5$ $7+3 \bigcirc 10$ $2-2 \bigcirc 2+2$
 $5+5 \bigcirc 8$ $10-4+3 \bigcirc 8$ $3+6 \bigcirc 5$ $7 \bigcirc 3+3$ $8-3 \bigcirc 6$

八八、把每行中不同类的圈起来。(10分)



九九、解决问题。(12分)

1. (6分)



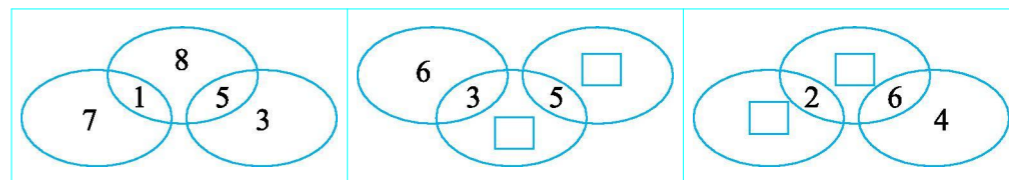
$\square \bigcirc \square = \square$ (盆)

2. (6分)



$\square \bigcirc \square \bigcirc \square = \square$ (人)

十十、找规律,在□里填数。(4分)



参考答案

- 一、
 $\begin{array}{|c|} \hline 6 \\ \hline \end{array}$ $\begin{array}{|c|} \hline 3 \\ \hline \end{array}$ $\begin{array}{|c|} \hline 0 \\ \hline \end{array}$ $\begin{array}{|c|} \hline 7 \\ \hline \end{array}$
 $\begin{array}{|c|} \hline 10 \\ \hline \end{array}$ $\begin{array}{|c|} \hline 2 \\ \hline \end{array}$ $\begin{array}{|c|} \hline 5 \\ \hline \end{array}$ $\begin{array}{|c|} \hline 7 \\ \hline \end{array}$

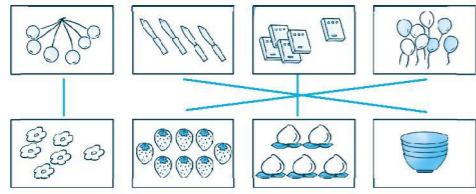
二、

班级: _____

姓名: _____


准考证号: _____






三、1. () (0)


2. (1)



(2)



3. (1)



4.



四、

(最后两空答案不唯一)


五、 $3+4=7$ $5+4=9$

六、10 5 9 4 1 7 10 7 0 7 2 9 7 8

6 4 6 5 10 0

七、< < = = < > > > > <

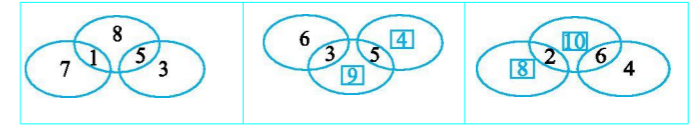
八、



九、1. $10-3=7$

2. $8-2+3=9$

十、



准考证号：_____ 姓名：_____ 班级：_____

密 封 线 内 不 要 答 题

