



周测培优卷 9

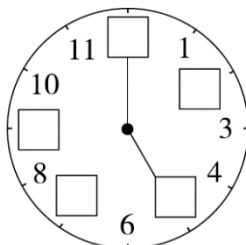
认识钟表的能力检测卷

一、想一想，填一填。(1题4分，其余每空4分，共20分)

1. 了解钟面。

(1)按照顺序在钟面上填数。

(2)钟面上有()针和()针。



2. 龟兔赛跑的故事。



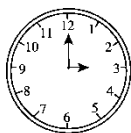
(1)乌龟和兔子是()时开始比赛的。

(2)兔子到达终点的时间是()时，而乌龟到达终点的时间是()时。

(3)这次赛跑，()赢了。

二、认一认，辨一辨。(共46分)

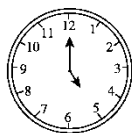
1. 看钟面写时刻。(每题4分，共16分)



□ : □



□ : □



□ : □




□ : □

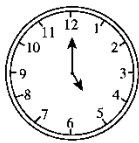




2. 写出 1 小时前的时刻。(每题 5 分，共 20 分)



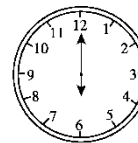
()



()




()




()

3. 选出正确的说法，在 里画“√”。(每题 5 分，共 10 分)



快 7 时了

7 时刚过



快 12 时了

快 9 时了

三、我会解决趣味时间问题。(共 34 分)

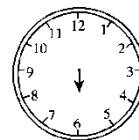
1. 我会画缺少的时针或分针。(每题 4 分，共 12 分)



10 时


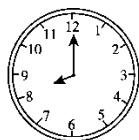
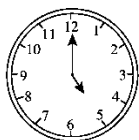



8 时




6:00

2. 我会按规律画出最后一个钟面的时针和分针。(6 分)



3. 红红快乐的一天。(连一连)(16 分)



①



②



③

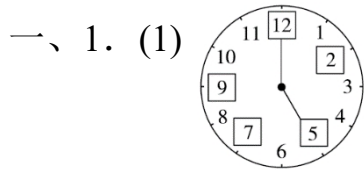


④





答案



(2) 时 分

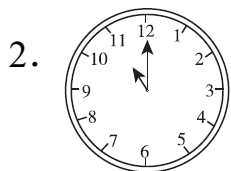

2. (1) 11 (2) 1 2 (3) 兔子

二、1. 3: 00 9: 00 5: 00 10: 00

[点拨] 养成好的思考顺序，先观察时针，再观察分针。

2. 2: 00 4: 00 3: 00 5: 00

3. $\left\{ \begin{array}{l} \square \\ \checkmark \end{array} \right.$ $\left\{ \begin{array}{l} \square \\ \checkmark \end{array} \right.$



[点拨] 可用加法找规律：2+3=5，5+3=8，8+3=11。

3.

