



### 第七单元过关检测卷

一、填一填。(每题2分, 共8分)

1.

钟面上共有( )个数, ( )根针,  
分别是( )针和( )针。



2.



3时整, 时针指向( ), 分针指向( )。

3.

分针指向12, 时针指向9, 是( )时。

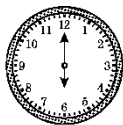


4.



12时整, 时针和分针都指向( )。

二、用两种方法写出下面的时间。(8分)



\_\_\_\_\_

\_\_\_\_\_

\_\_\_\_\_

\_\_\_\_\_

\_\_\_\_\_

\_\_\_\_\_

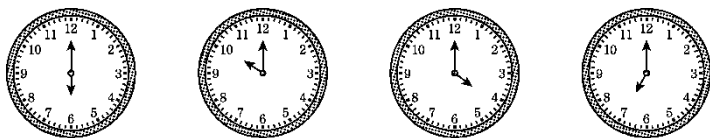
\_\_\_\_\_

\_\_\_\_\_

三、连一连。(1题8分, 2题12分, 共20分)

1.





7:00

4:00

6:00

10:00

2. 小明的周末。

起床	放风筝	回家	吃午饭


9:00

11:00

12:00

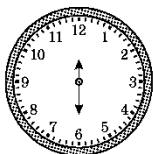
8:00

四、哪个钟表坏了？在下面的( )里画“×”。(4分)



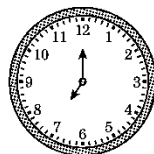
1时

( )



12时


( )



7时

( )


五、圈出正确的答案。(每题4分，共12分)



快10时了  
1.10时过一点儿




快5时了  
2.5时过一点儿




快1时了  
3.12时过一点儿

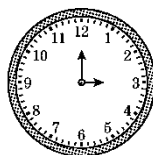
六、写出1小时后的时间。(12分)




:



:



:



:





七、动物认时间。(对的在括号里画“√”, 错的改过来)(每题 3 分, 共 12 分)

1.		2.		3.		4.	
	( )		( )		( )		( )

八、请你画出钟面上的时针和分针。(12 分)

4:00	3:00	10:00	9:00

九、解决问题。(每题 6 分, 共 12 分)


1.

(1)请按照规律, 画出最后一个钟面上的时针和分针。

(2) 最后一个钟面上的时针应该指向( ), 分针应该指向( )。

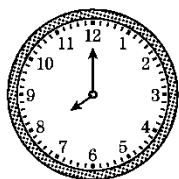
2. 学校举行唱“爱国歌曲”比赛。





比赛( )时开始, 11时结束,  
比赛进行了( )小时。

开始:



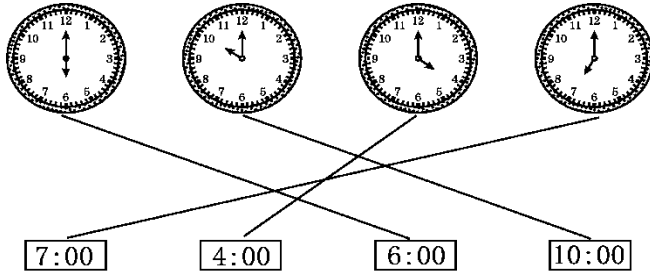


### 答案

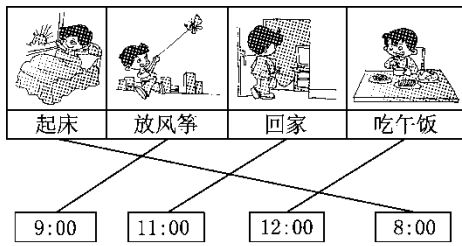
一、1.12 两分 时 2.3 12 3.9 4.12

二、3时,3:00) 6时,6:00) 9时,9:00) 1时,1:00)

三、1.



2.



四、( ) (×) ( )

五、1. 10时过一点儿 2. 快5时了 3. 快1时了

六、2:00 11:00 4:00 12:00

七、1.9时过一点儿 2.5时 3.√ 4.√

八、略

九、1.(1)略 (2)7 12 2.8 3

