



第二单元测试卷(2)

时间:60分钟 满分:100分 分数:_____

一、填空。(11分)

1. 5783是由()个千、()个百、()个十和()个一组成的;其中5在()位上,表示()。

2. 用7、4、0、2四个数字,组成的最大四位数是(),最小的四位数是()。(导学号 90692027)

3. 一个四位数,千位上和十位上都是2,其他各位上都是0,这个数写作:(),读作:(),8078中左边的“8”表示()。

二、判断。(对的在括号里画“√”,错的画“×”)(6分)

1. 786读作七百八十六。()

2. 从左边起,第三位是百位。()

3. 算盘是我国的传统计算工具,算盘的1个上珠表示5,1个下珠表示1。()

三、选择。(把正确答案的序号填在括号里)(6分)

1. 与1000相邻的两个数是()。

A. 1001和1002

B. 998和999

C. 999和1001

2. 5069这个数中的“5”表示()。

A. 千

B. 千位

C. 5个千

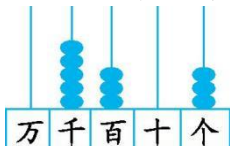
3. 用1个3,1个2和两个0组成的四位数,不需要读出零的是()。

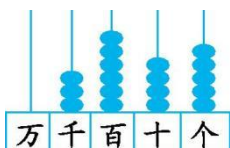
A. 2030

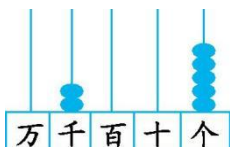
B. 2300

C. 3002

四、读、写出下列各数,并说出它们的组成。(18分)

1.  写作:() 读作:()

2.  写作:() 读作:()

3.  写作:() 读作:()

五、直接写出得数。(9分)

$650+80=$

$7400-900=$

$7000+3000=$

$460+70=$

$1500-900=$

$4600-600=$

$2000+5000=$

$80+70=$

$480-80=$





六、按顺序写数。(12分)

- 3760、3770、3780、()、()、()。
- 5900、()、()、6200、6300、()。
- 2980、2985、()、()、()。
- 6000、5500、()、()、()。

七、连线。(8分)



八、解决问题。(30分)

1. 小红家和小明家都在红旗路上,小红说:“我家离学校大约有3000米。”小明说:“我家离学校大约有4000米。”他们两家之间的路程大约有多少米?(8分)

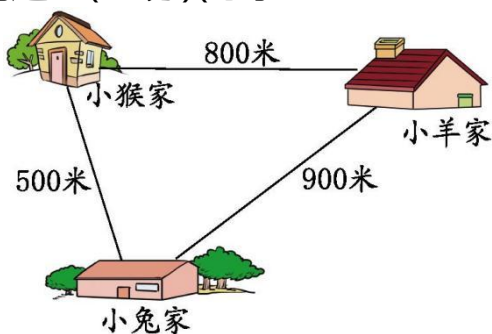
2. 估一估大约有多少个字。(8分)

北京奥运会吉祥物是福娃——5个可爱的亲密小伙伴,分别叫“贝贝”“晶晶”“欢欢”“迎迎”“妮妮”,谐音为“北京欢迎你”。福娃色彩来源于奥林匹克五环,造型分别融入了鱼、大熊猫、奥林匹克圣火、藏羚羊和燕子的形象,蕴涵着其与海洋、森林、火、大地和天空的联系。贝贝祝福繁荣,晶晶传递快乐,欢欢象征激情,迎迎象征健康,妮妮象征好运。福娃向世界各地的人们传递友谊、和平、积极进取的精神和人与自然和谐相处的美好愿望。





3. 看图解决问题。(14分)(导学号 90692031)



(1)小羊先去小猴家玩,再去小兔家玩,一共要走多少米?(7分)

(2)小猴要经过小兔家,去小羊家玩,一共要走多少米?(7分)





答案

一、1. 5 7 8 3 千 5 个千 2. 7420 2047

3. 2020 二千零二十 8 个千

二、1. \checkmark 2. \times 3. \checkmark

三、1. C 2. C 3. B

四、1. 5303 五千三百零三 由 5 个千、3 个百和 3 个一组成

2. 3645 三千六百四十五 由 3 个千、6 个百、4 个十和 5 个一组成

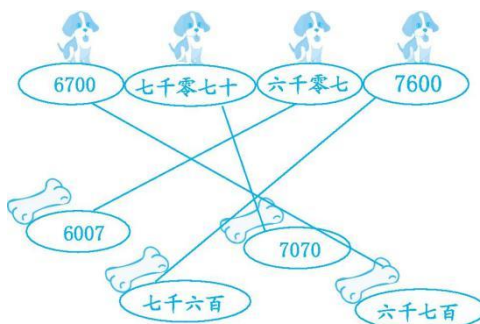
3. 2005 二千零五 由 2 个千和 5 个一组成

五、730 6500 10000 530 600 4000 7000 150 400

六、1. 3790 3800 3810 2. 6000 6100 6400

3. 2990 2995 3000 4. 5000 4500 4000

七、连线如下:



八、1. (1)小红家与小明家分别在学校的两侧,那么两家之间的路程为

$$3000+4000=7000(\text{米})$$

(2)小红家与小明家在同一侧,那么两家之间的路程为

$$4000-3000=1000(\text{米})$$

答:他们两家之间的路程大约有 7000 米或 1000 米。

2. 答:大约有 150 个字。

3. (1) $800+500=1300(\text{米})$

答:一共要走 1300 米。

$$(2)900+500=1400(\text{米})$$

答:一共要走 1400 米。

