



第七单元达标测试卷

一、用两种方法写出钟面上的时间。(8分)

□ : □	□ : □	□ : □	□ : □
_____	_____	_____	_____

二、连一连。(12分)

a	① 3时过一点儿	d
	② 4:00	
b	③ 快8时了	e
	④ 8:00	
c	⑤ 10时	f
	⑥ 2时	

三、小动物们说得对吗？对的在()里画“√”，错的画“×”，并改正。

(12分)

 ()改正: _____	 ()改正: _____
----------------------	----------------------

 ()改正: _____	 ()改正: _____
----------------------	----------------------





四、我会正确选择。(在正确答案下面的○里画“√”)(每题3分，共12分)

1. 下面哪个钟表是好的?



shí
6 时



kuài shí
快 7 时



shí gāng guò
12 时 刚 过



2.

10 时

3 时


6 时



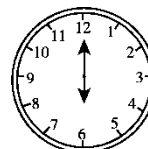

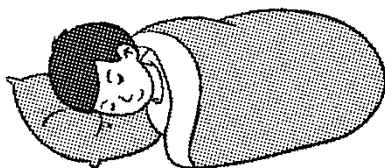
3.



下面两个图中，哪个是晚上10时?




4. 选出合适的时刻。



五、根据时间的先后顺序连一连。(8分)





①



②






③



④

六、圈出正确的答案。(6分)



快 10 时了

10 时刚过

快 5 时了

5 时刚过

快 1 时了

1 时刚过


七、想一想，填一填。(8分)



再过 1 小时
是 ()



两个小时前
是 ()




两个小时前
是 ()



两个小时前
是 ()

八、我会画漏掉的时针或分针。(12分)



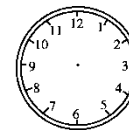
shí
11时



4:00



shí
12时



shí
6时



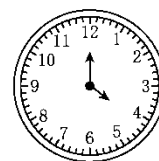
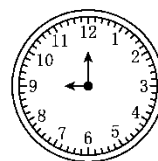
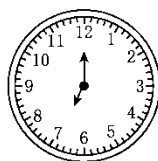




九、根据规律画出最后一个钟面的时针和分针。(7分)



十、解决问题。(1题10分，2题5分，共15分)

1. (变式题)填一填，连一连。



qǐ chuáng
7:00 起床

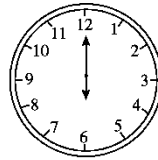

xué xí
10:00 学习

chī wǔ fàn
_____ 吃午饭

zhuō mí cáng
_____ 捉迷藏

shuì jiào
_____ 睡觉

2. 下面是鸭子和公鸡起床的时间。



() 起得晚。

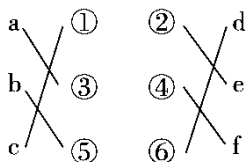




答案

一、9: 00 3: 00 12: 00 6: 00

9时 3时 12时 6时



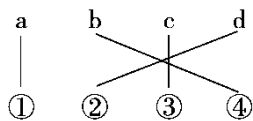
二、

三、× 7时 √ × 快2时了

× 10时过一点儿

1. ○○ 2. ○○

四、3. ○ 4. ○○



五、

快10时了

10时刚过

快5时了

5时刚过

快1时了

六、 1时刚过


七、12: 00 5: 00 2: 00 5: 00

[点拨]第1个钟面上显示的是11: 00，再过1小时是12: 00；第2个钟面上显示的是7: 00，2小时前是5: 00；第3个钟面上显示的是4: 00，2小时前是2: 00；第4个钟面上显示的是3: 00，2小时后是5: 00。

八、略。

九、画时针指向7，分针指向12





十、1. 7:00 起床 10:00 学习 12:00 吃午饭 4:00 捉迷藏 9:00 睡觉

2. 鸭子

