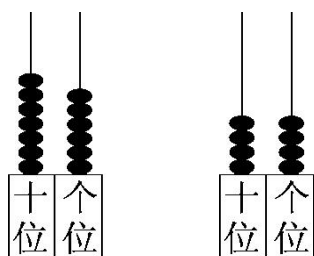




教材过关卷(3)

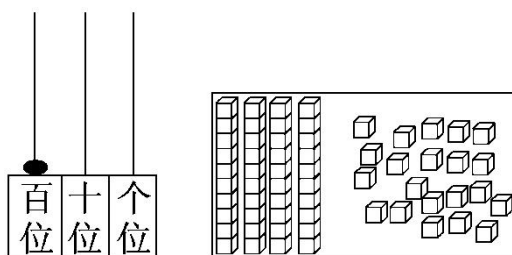
一、想一想，填一填，写一写。(1题16分，3题9分，其余每题8分，共41分)

1. 看图填空。



写作：() 写作：()

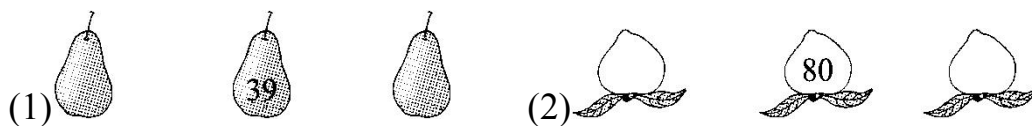
读作：() 读作：()



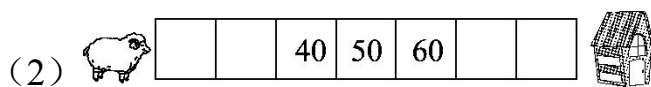
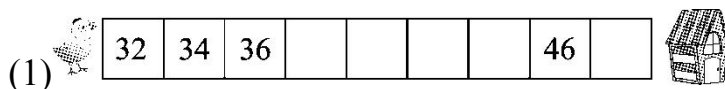
写作：() 共有()个□

读作：() 读作：()

2. 给它们找邻居。



3. 找规律填数。






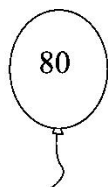

4. 按要求写数。






(1)写出十位是5的所有两位数。(2)写出100以内个位是5的数。

二、连一连。(8分)



三、看一看，比一比，填一填。(每空2分，共24分)



$$40 < \square \quad 95 > \square$$

2. 在 里填上“>”“<”或“=”。

$$39 \bigcirc 35$$

$$78 \bigcirc 68$$

$$100 \bigcirc 89$$

$$56 \bigcirc 57$$

$$80 \bigcirc 90$$

$$57 \bigcirc 57$$

3. 猜一猜，花朵下面可能藏着几？

$$25 < \text{flower} < 1$$


$$7 < \text{flower} < 82$$

$$\text{flower} > 6 > \text{flower}$$

四、想一想，画一画。(1题8分，2题6分，共14分)

1. 大家一起来拍球。



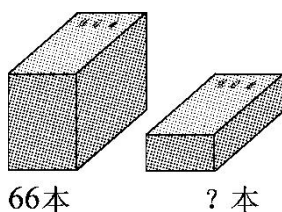


小亮可能拍了多少下？（画“√”）

小芳可能拍了多少下？（画“△”）

9 下	37 下	45 下	82 下

2. 在你认为合适的答案下面画“√”。



5 本	21 本	40 本	50 本

五、根据百数表想一想，填一填。(13 分)

	23	
32		34
	43	

	77	





答案

一、1. 76, 七十六 44, 四十四 100, 一百 61, 六十一

2. (1) 38 40 (2) 79 81

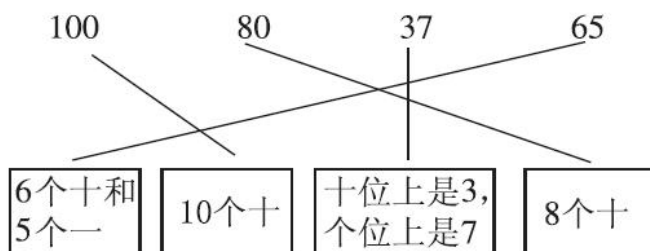
3. (1) 38 40 42 44 48

(2) 20 30 70 80

4. (1) 50 51 52 53 54 55 56 57 58 59

(2) 5 15 25 35 45 55 65 75 85 95

二、



三、1. 50 85

点拨：答案不唯一。找 40 右边的数，95 左边的数分别填空。

2. > > > < < =

3. 3(或 4, 5, 6, 7, 8, 9)

0(或 1, 2, 3, 4, 5, 6, 7, 8, 9)

前一个数十位上填 6 时，后一个数个位填 5, 4, 3, 2, 1, 0

均可；前一个数十位上填 7, 8, 9 时，后一个数个位填 0~9

任何数字都可以。

四、1.





9 下	37 下	45 下	82 下
	△		√

2.

5 本	21 本	40 本	50 本
	√		

五、

22	23	24
32	33	34
42	43	44

66	67	68
76	77	78
86	87	88

