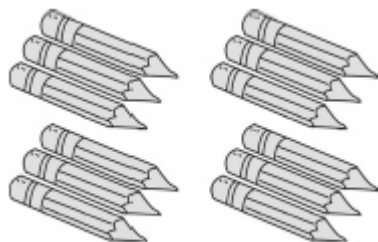




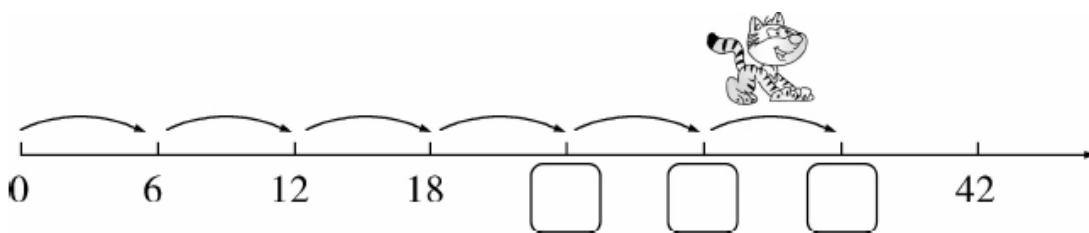
周测培优卷5 表内乘法2~6的计算能力检测卷

一、我会填。(每题4分, 共24分)

1. 根据下图可列式为() ; 口诀是()。



2. 小猫跳。



3.



4个6相加, 和是()。

一个乘数是3, 另一个乘数也是3, 积是()。



4. 4乘5是(), 如果再加上3是()。

5. 计算“ 5×3 ”“ 3×5 ”用同一句口诀是()。

6. 把下面的加法算式改写成乘法算式, 乘法算式改写成加法算式。

(1) $4 + 4 + 4 = () \times ()$

(2) $0 + 0 + 0 + 0 + 0 = () \times ()$

(3) $7 \times 3 = () + () + ()$





(4) $4 \times 5 = (\quad) + (\quad) + (\quad) + (\quad)$

二、我会辨。(每题3分, 共9分)



7+7可以写成 7×7 。


()



2个3相加是 $2+3$ 。

()

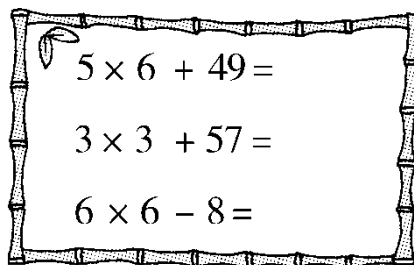
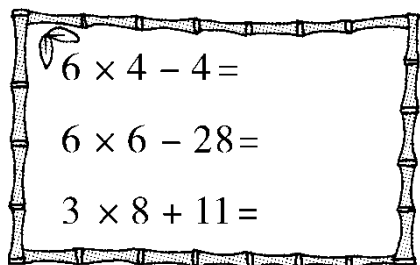
5个3相加与3个5相加的结果相同。



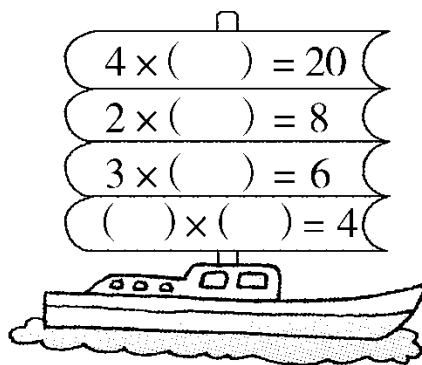
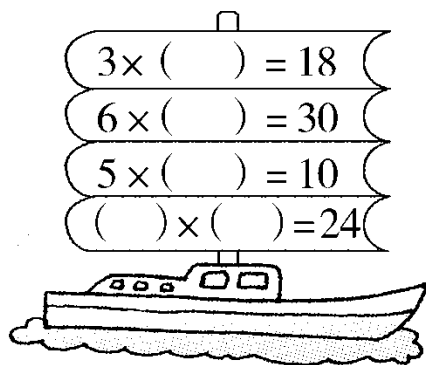
()

三、计算闯关。(共44分)

1. 快乐答题卡。(每题2分, 共12分)



2. 在括号里填上合适的数。(每空2分, 共20分)



3. 在括号里填上最大的数。(每空2分, 共12分)

$5 \times (\quad) < 32$

$(\quad) \times 5 < 23$

$4 \times (\quad) < 18$

$3 \times (\quad) < 19$

$(\quad) \times 2 < 11$

$(\quad) \times 1 < 6$

四、我会应用。(1题10分, 2题13分, 共23分)





1. 一共有多少只鸭子？



2. 手工课上，缝一个沙包要用 6 块布，缝 4 个沙包要用多少块布？
缝 6 个沙包准备 35 块布够吗？





答案

一、 $1.3 \times 4 = 12$ (支)或 $4 \times 3 = 12$ (支) 三四十二

2. 24 30 36

3. 24 9 4.20 23

5. 三五十五

6. (1)3 4(或 4 3) (2)0 5(或 5 0)

(3)7 7 7 (4)5 5 5 5

[点拨] 先数出个数, 再确定相同的加数。

二、 \times \times $\sqrt{\quad}$

三、1.20 8 35 79 66 28

2. 6 5 2 4 6(最后两空答案不唯一)

5 4 2 2 2(最后两空答案不唯一)

3. 6 4 4 6 5 5

四、 $1.5 \times 6 = 30$ (只)或 $6 \times 5 = 30$ (只)

答: 一共有 30 只鸭子。

2. $6 \times 4 = 24$ (块)或 $4 \times 6 = 24$ (块)

$6 \times 6 = 36$ (块)

$36 > 35$ 不够

答: 缝 4 个沙包要用 24 块布。缝 6 个沙包准备 35 块布不够。

