



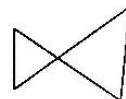
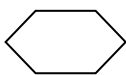
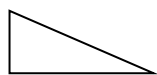

## 第三单元测试卷（二）

班级

姓名

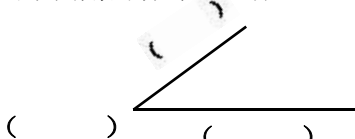
### 一、我会填。（每空1分，共21分）

- 1、一个角是由（ ）个顶点和（ ）条边组成的。
- 2、一把三角板有（ ）个角，其中直角有（ ）个。
- 3、数一数下面图形分别有几个角。



（ ）个角 （ ）个角 （ ）个角 （ ）个角 （ ）个角

- 4、拿一张纸，先上下对折，再（ ）对折可以得到直角。
- 5、写出下面角的各部分名称。



- 6、钟面上三时整，时针和分针成（ ）角。
- 7、手帕有（ ）个角，红领巾有（ ）个角。
- 8、比直角大的角叫（ ）角，比直角小的角叫（ ）角。

### 二、我会判断。（对的打“√”，错的打“×”。）（每题2分，共20分。）

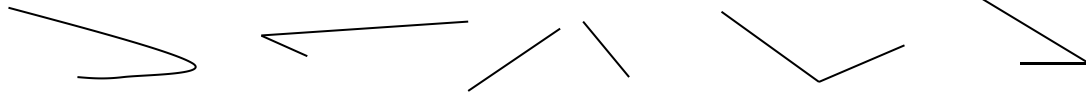
- 1、直角是角中最大的角。 （ ）
- 2、三角板上的直角和黑板上的直角一样大，所有的直角一样大。（ ）
- 3、角有3个顶点和3条边。 （ ）
- 4、直角没有顶点。 （ ）
- 5、扇子有3个角。 （ ）
- 6、直角不是角。 （ ）
- 7、一个角的两条边越长，这个角就越大。 （ ）
- 8、角的大小与边的长短没有关系。 （ ）
- 9、角的两条边张开得大，角就大，角的两得边张开得小，角就小。（ ）
- 10、三角板上的三个角中，最大的一个角是直角。 （ ）






三、操作题。(每个答案 1 分共 17 分)

1、下面图形哪些是角？在下面的 ( ) 里画“√”



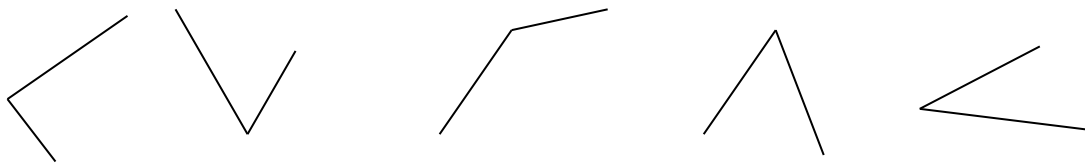
( ) ( ) ( ) ( ) ( )

2、下面哪几个图形是直角？在下面的 ( ) 里画“√”




( ) ( ) ( ) ( ) ( )

3、找出比直角小的角，在它下面的 ( ) 里画“√”



( ) ( ) ( ) ( ) ( )

4、找出比直角大的角，在它下面的 ( ) 里画“√”



( ) ( ) ( ) ( ) ( )

5、数一数。



有 ( ) 个角



有 ( ) 个角



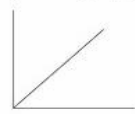
有 ( ) 个角



有 ( ) 个  
直角



有 ( ) 个  
直角

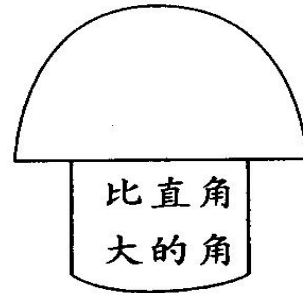
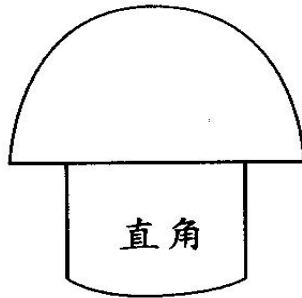
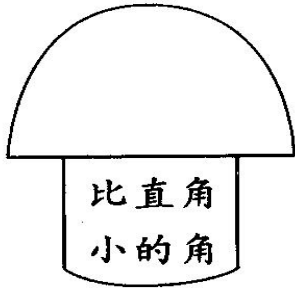
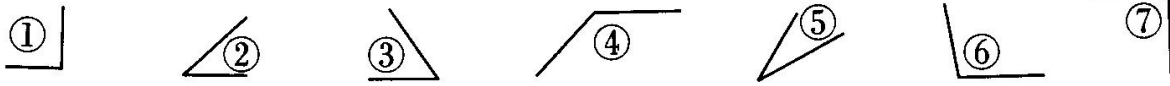


有 ( ) 个  
直角





四、选一选（把序号填在蘑菇瓶中）（每个 2 分共 14 分）



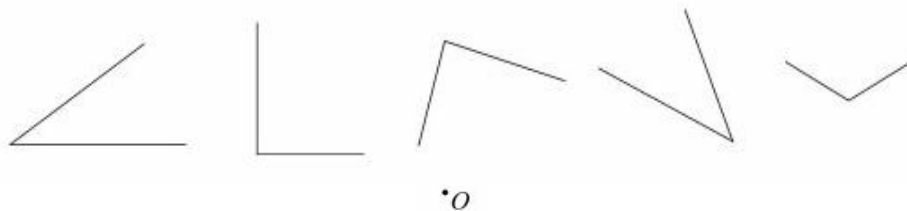
五、连一连（下面的哪些角是锐角，哪些角是直角，哪些角是钝角，用线连一连。10 分）



锐角

直角

钝角



六、画一画（每题 3 分，共 9 分）

1、过点 o 画一个锐角。



2、过点 o 画一个钝角。





3、过点O画一个直角。

•O

七、数一数，算一算（每题3分，共6分。）

1、一个△有（ ）个角，4个△有（ ）个角。

$$\square \bigcirc \square = \square$$

2、一个□有（ ）个角，7个□有（ ）个角。

$$\square \bigcirc \square = \square$$





参考答案：

一、我会填。

1、1,2。2、3,1。3、4,3,6,3,8。4、左右。5、顶点，边，边，边，边，顶点。

6、直。7、4,3。8、钝，锐。

二、我会判断。（对的打“√”，错的打“×”。）每题2分，共20分。

×，√，×，×，×，×，×，√，√，√。

三、操作题。

1、第2、4、5是角。2、第1、3、5是直角。3、第2、4、5是比直角小的角。

4、第2、5是比直角大的角。5、角4,3,4。直角4,2,1。

四、选一选。

②③⑤是比直角小的角。①⑦是直角。④⑥是比直角大的角。

五、连一连。

上面：锐角，钝角，锐角，钝角，直角。

下面：锐角，直角，锐角，锐角，钝角。

六、画图略：提醒画图时顶点要在○点上。

七、算一算：1、3,12,  $3 \times 4 = 12$ （个）。2、4,28,  $4 \times 7 = 28$ （个）

