



一年级上册期中检测卷 (A)

班级: _____ 姓名: _____ 满分: 100 分 考试时间: 90 分钟

题序	第一题	第二题	第三题	第四题	第五题	第六题	第七题	第八题	总分
得分									

一、动物联欢会。(15 分)



1. 小动物们正在高兴地演奏着乐曲, 参加表演的小动物分别有多少只呢? 请数一数, 写一写。(4 分)

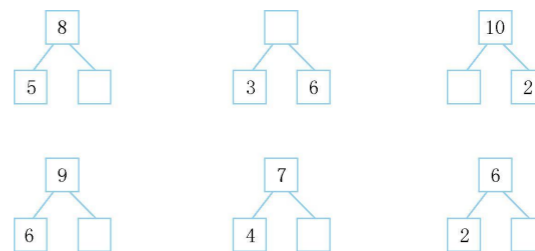


2. 会场布置得非常漂亮, 数出下面物品的数量, 写在下面, 把用得最多的圈起来, 最少的涂色。(8 分)




3. 看节目的小朋友一共有()人, 从左边数小明排第(), 从右边数小明排第()。(3 分)

二、想一想, 填一填。(6 分)




三、考考你的眼力!(8 分)

1. 谁最高? 画“√”。谁最矮? 画“×”。 2. 哪支铅笔最长? 在后面画“○”。



3. 谁先吃到萝卜? 在后面画“○”。 4. 谁最重? 画“√”。谁最轻? 画“○”。



四、算一算。(15 分)

9-4= 0+10= 10-3= 3+5+1= 8-4-2=

7-0= 6-6= 4+6= 6-3+7= 0+6-5=

5+5= 8+2= 8-2= 9-9+4= 8+2-4=

五、在○里填上“>”“<”或“=”。(8 分)

8-7 ○ 0 4+5 ○ 8 6-4 ○ 2 9+1 ○ 10

8-8 ○ 1 7+2 ○ 6 3+5 ○ 5 3+0 ○ 2

六、在○里填上“+”或“-”。(10 分)

10 ○ 4=6 9 ○ 1=10 7 ○ 5=2 3 ○ 5=8

班级: _____

姓名: _____

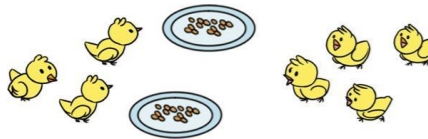
准考证号: _____







4 ○ 1 = 3 9 ○ 2 = 7 8 ○ 2 ○ 3 = 3 3 ○ 2 ○ 1 = 4


七、看图列式计算。(15分)


1.  $\square \bigcirc \square = \square$ (只)

2.  $\square \bigcirc \square = \square$ (只)

3.  $\square \bigcirc \square = \square$ (只)


$\square \bigcirc \square = \square$ (只) $\square \bigcirc \square = \square$ (只)

4.  $\square \bigcirc \square \bigcirc \square = \square$ (条)


5.  $\square \bigcirc \square \bigcirc \square = \square$ (根)

八、解决问题。(23分)

1. 小军投掷得了10分,他可能投中了哪些物品?用算式表示出来。(6分)



2. 每只小猴摘一个桃,树上还有几个桃?(6分)



$\square \bigcirc \square = \square$ (个)

3. 小兔的生日。(11分)



(1)演奏的小动物一共有多少只?

$\square \bigcirc \square \bigcirc \square = \square$ (只)

(2)篮子里还剩下几个萝卜?

$\square \bigcirc \square = \square$ (个)

(3)根据图中的信息,你还能提出什么数学问题?用算式表示出来。



○ : : : : : 密 : : : : : 封 : : : : : 线 : : : : : 内 : : : : : 不 : : : : : 要 : : : : : 答 : : : : : 题 : : : : : ○



参考答案

一、 1. 3 3 3 1

2. 6 8 7 10 提示:圈花,给五角星涂色。

3. 8 4 5

二、 3 9 8 3 3 4

三、 1. (×) (√) ()

2. 从上到下:() (○) ()

3. 从上到下:() (○) ()

4. (○) (√) ()

四、 5 10 7 9 2 7 0 10 10 1 10 10 6 4 6

五、 > > = = < > > >

六、 - + - + - - - - + -

七、 1. $3+4=7$ 或 $4+3=7$

2. $10-3=7$

3. $2+6=8$ $6+2=8$ $8-2=6$ $8-6=2$

4. $3+4-2=5$

5. $8-3-2=3$

八、 1. $2+8=10$ (分) $4+6=10$ (分)

$2+3+5=10$ (分)

2. $9-7=2$

3. (1) $2+2+3=7$ (2) $8-4=4$

(3)答案不唯一,如:一共送了多少朵花?

$2+3+2=7$ (朵)

班级:

姓名:

准考证号:

题
答
要
不
内
线
封
密

