




周测培优卷 8

11—20 各数的认识能力检测卷

一、我会想, 我会填。(每题 6 分, 共 18 分)

1. 猜猜我是谁?



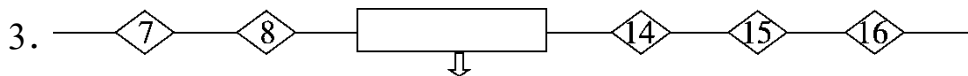
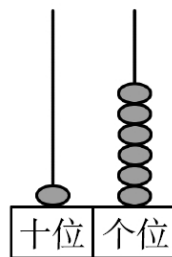
我是()。 我是()。 我是()。 我是()。

2. 计数器上的思考。

(1)右图的数是(), 读作()。

(2)如果只拿走一粒珠子, 那么这个数最小是()。

(3)如果只增添一粒珠子, 那么这个数最小是()。



中间有()个数。

二、计算大闯关。(共 46 分)

1. 细心算, 别粗心!(每题 1 分, 共 14 分)

$18 - 8 =$ $17 - 5 =$ $10 + 1 =$ $19 - 3 =$

$19 - 8 =$ $4 + 12 =$ $20 - 10 =$ $2 + 10 =$

$4 + 3 + 10 =$ $19 - 9 + 6 =$ $17 - 10 - 7 =$

$16 - 6 - 6 =$ $2 + 8 + 10 =$ $12 - 10 + 0 =$

2. 勤劳的小蜜蜂。(每题 2 分, 共 12 分)



$10 + 2 \bigcirc 20$

$16 - 3 \bigcirc 16 + 3$

$17 - 2 \bigcirc 10 + 5$





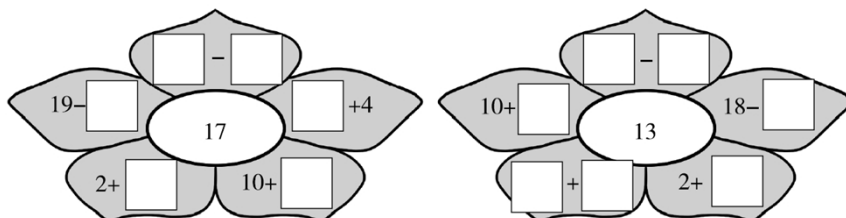
$20 - 10 \bigcirc 9$

$14 - 4 \bigcirc 14 - 10$

$12 + 4 \bigcirc 19 - 2$

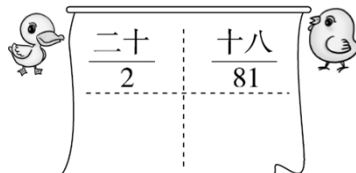
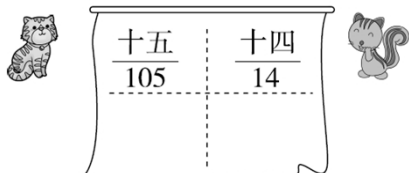
3. 在 里填上合适的数，使花瓣上算式的得数和中间的数相等。

(20 分)

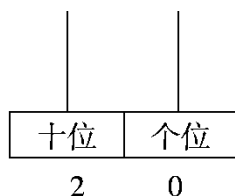
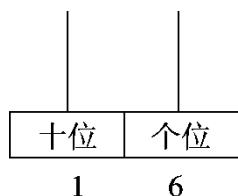


三、我会按要求解决。(每题 12 分，共 36 分)

1. 小动物写数，对的画“√”，错的画“×”，并帮它改正过来。

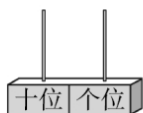
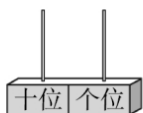
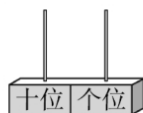


2. 看数画珠子。



3.

wó néng yòng kē "○" biǎo shì chū gè bù tóng de shù nǐ xíng ma?
我 能 用 2 颗 “○” 表 示 出 3 个 不 同 的 数，你 行 吗？





答案

一、1. 12 16 19 18

2. (1)16 十六

(2)6

(3)17 [点拨] 拿走一粒珠子, 要使这个数最小, 就只能拿走十位上的一粒珠子; 而增添一粒珠子, 也要使这个数最小, 就在个位上增添一粒珠子。

3. 5

二、1. 10 12 11 16

11 16 10 12

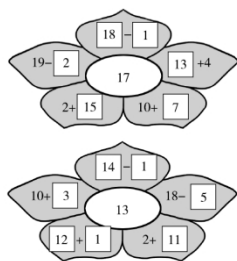
17 16 0

4 20 2

2. $<$ $<$ $=$

$>$ $>$ $<$

3.

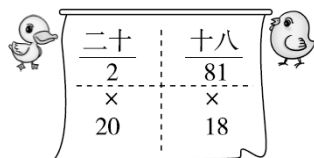
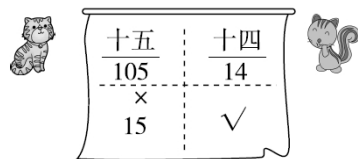


(个别空答案不唯一)

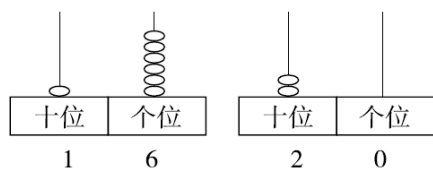




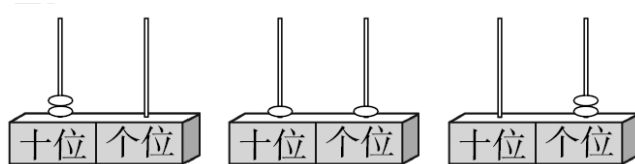
三、1.



2.



3.



[点拨] 按顺序思考，先把 2 颗珠子都放在十位，再每次拿一颗珠子放在个位。

