



## 西师版数学二下期末测试题(5)

### 一、填空。

- 由 5 个千和 8 个一组成的数是 ( )。
- 最大的三位数与最小的四位数的和是 ( )，差是 ( )。
- 8965 的最高位是 ( )，这个数位的计数单位是 ( )，9 在 ( ) 位上，表示 ( )。
- $570+240$  是 ( ) 个十加上 ( ) 个十得 ( ) 个十，也就是 ( )。
- 把 7080、7800、8000、8001、7999 这几个数排顺序排列。  
( )  $>$  ( )  $>$  ( )  $>$  ( )  $>$  ( )
- 12 时 30 分时，时针和分针所成的角是 ( )。
- 按规律填上合适的数、算式或图形。
  - 15、5、12、5、9、( )、( )、( )。
  - $1+4=3$ ， $3+8=11$ ， $5+12=17$ ，( )，( )，( )。
  - ( ) 、、、\_\_\_\_\_、\_\_\_\_\_。
- 在括号里填上合适的单位。

我们的数学书厚 15 ( ) 小华身高 130 ( )  
火车每小时行驶 120 ( ) 小丁跑 50 米大约需 12 ( )
- 想一想，填一填。

$4\text{m}=( )\text{dm}$        $6\text{km}=( )\text{m}$       ( )  $\text{mm}=8\text{cm}$   
3 分 = ( ) 秒      1 时 30 分 = ( ) 分
- 张师傅锯一段木头需 4 分钟，照这样的速度，他锯完 4 段需要 ( ) 分钟。
- 4008 读作 ( )。
- 最接近一千的数是 ( ) 和 ( )。
- 用 5、2、7 三张数字卡片，可以组成 ( ) 个不同的三位数。
- 用 2、3、0、7 组成一个最大的四位数是 ( )。
- 量较长的距离通常用 ( ) 做单位，测量身高常用 ( ) 作单位。
- 被减数不变，减数增加 10，差 ( )。
- 小玲 给小芳 4 支铅笔，两人的铅笔就一样多，小玲原来比小芳多 ( ) 支铅笔。





## 二、判断。

- 1、两位数加两位数的结果一定是两位数。（      ）
- 2、分针从3走到8，走了5分钟。（      ）
- 3、迎面走来3个人，有可能都是男生，也可能都是女生。（      ）
- 4、2时55分也可以说是3时差5分。（      ）
- 5、长方形的对边相等。（      ）

## 三、计算。

1、直接写出得数。

$$300+260= \quad 740-160= \quad 506+194= \quad 6 \times 7 =$$

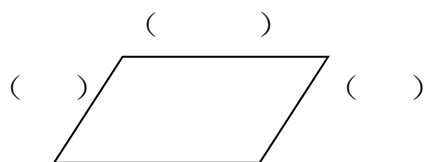
$$54 \div 9 = \quad 7 \times 8 - 49 = \quad 63 \div 7 + 28 = \quad 600 - 50 =$$

2、竖式计算。

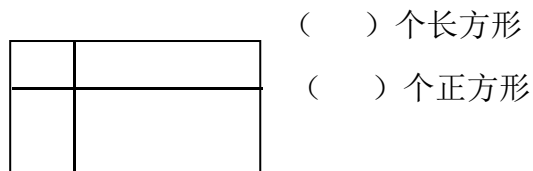
$$678+174= \quad 521-384= \quad 524-328+672=$$

## 四、动手做一做。

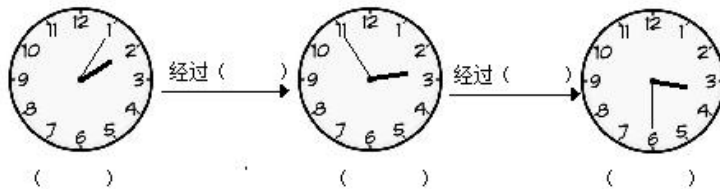
1、量一量。



2、数一数。



3、填一填。



## 五、解决问题。

- 1、一件上衣 278 元，一条裤子 245 元妈妈 500 元钱买这件上衣和这条裤子，够吗？如果不够，还差多少钱？





2、小熊骑车到小兔家，要行 48km，开始每小时行 14km，以后每小时比前一小时快 2 千米，小熊到小兔家要用多长时间？

3、李老师带着全班 35 名同学去参观植物园，他可以怎样租车？

中巴车：10 人/车  
 出租车：3 人/车

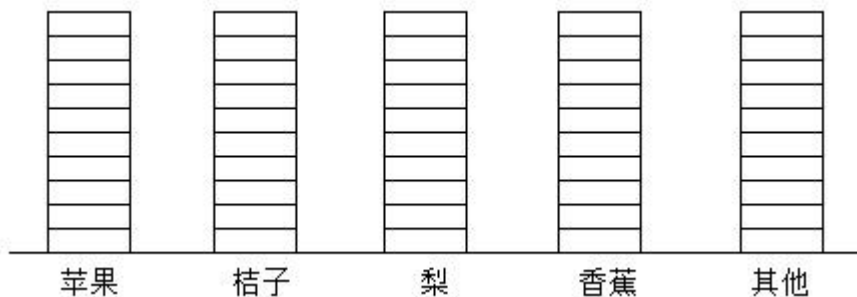
4、下面是二年级（1）班小朋友最喜欢的水果，请看图回答问题。

苹果      桔子      梨      香蕉      其他  
 正 正      正 丁      正      正 正      正

(1) 根据以上信息，完成下面统计表。

水果名称	苹果	桔子	梨	香蕉	其他	合计
喜欢人数						

(2) 根据统计表，完成下面的统计图。



(4) 喜欢吃（      ）和（      ）的人数一样多。

(5) 二（1）班一共有（      ）人。





## 附参考答案

### 一、填空。

1、5008, 2、1999, 1; 3、千, 千, 百, 9个百; 4、57, 24, 81, 810;

5、 $8001 > 8000 > 7999 > 7800 > 7080$ ; 6、钝角; 7、(1) 5, 6, 5;

(2)  $7+16=23$ ,  $9+27=31$ ;  $11+31=42$ ; (3)

8、毫米, 厘米, 千米, 秒; 9、40, 6000, 80, 180, 90; 10、12; 11、四千零八;

12、999, 1001; 13、6; 14、7320; 15、千米或米, 厘米; 16、8;

### 二、判断。×, ×, ×, √, √;

### 三、计算。

1、直接写出得数。560, 580, 700, 42, 6, 7, 37, 550;

2、竖式计算。852, 137, 868;

### 四、动手做一做。1、略, 2、5, 1; 3、2: 05, 经过 50 分, 2: 55, 经过 35 分, 3:30;

### 五、解决问题。

1、 $278+245=523$  (元)  $523$  元  $>$  500 元,  $523 - 500=223$  (元)

答: 不够, 还差 23 元。

2、 $14+2+14+2+2+14=48$ (千米) 答: 小熊到小兔家要 3 小时。

3、 $10 \times 3 + 3 \times 2 = 36$  (人) 答: 他中巴车租 3 辆, 出租车租 2 辆。

4、(1) 填表。10, 7, 4, 10, 5 (2) 略 (3) 苹果和香蕉, 梨。 (4) 苹果, 香蕉。

(5) 36 人

