




### 第六单元过关检测卷

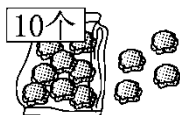
一、填一填。(6、7题每题4分, 其余每题2分, 共18分)

1. 一个两位数从右边起, 第一位是( )位, 第二位是( )位。
2. 1个十和8个一组成的数是( ), 它比( )多1。
3. 19读作( ), 它的个位上是( ), 表示( )个( )。
4. ( )里面有20个一, ( )里面有1个十。
5. 与16相邻的两个数是( )和( )。


6. 看图写数。



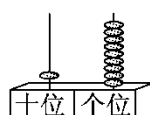
( )



( )



( )



( )

7. 把12、15、9、20、18、6按从大到小的顺序排一排。

二、算一算。(1题12分, 2题6分, 共18分)

1.  $10+6=$      $12+4=$      $15+4=$      $14-10=$

$11+8=$   $17-7=$   $19-7=$   $15-3=$

$2+7=$   $18-10=$   $10+10=$   $14+4=$

2.  $4+6+7=$      $19-4-5=$      $14-4+5=$

$17-6+8=$      $10+5-2=$   $11+6-2=$

三、在○里填上“>”“<”或“=”。(每空1分, 共6分)

$12$  ○  $13$      $17-4$  ○  $14$      $14+5$  ○  $20$

$12+3$  ○  $15$      $10+7$  ○  $18$      $17-2$  ○  $17$

四、在□里填上合适的数。(每空1分, 共9分)





$$10 + \square = 17 \quad 13 + \square = 15 \quad 14 > \square$$


$$18 - \square = 16 \quad 5 + \square = 19 \quad \square < 18$$

$$\square - 4 = 12 \quad \square + 2 = 14 \quad \square > 19$$

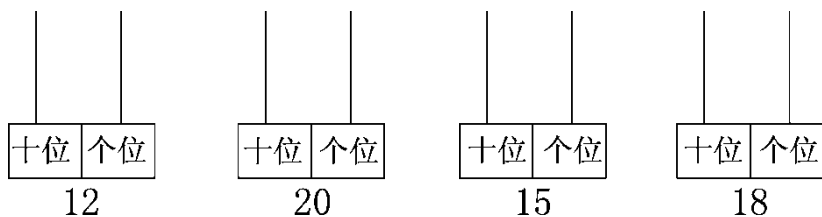
五、圈出正确的答案。(每题2分，共10分)

1. 从12数到17，共数了( )个数。(5 6 7)
2. 从16起，后面的第3个数是( )。(17 18 19 20)
3. 在5、17、15、19中，个位上是5的数有( )个。(1 2 3)
4. 最大的一位数是( )。(9 10 20)
5. 从星期三到星期五，天一直在下雨，下了( )天的雨。(2 3 4)

六、连一连。(4分)



七、画珠子。(8分)




八、看图列式计算。(1题4分，2题2分，其余每题3分，共12)





分)

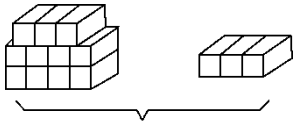


1.

$$\square \bigcirc \square = \square \quad \square \bigcirc \square = \square$$

$$\square \bigcirc \square = \square \quad \square \bigcirc \square = \square$$

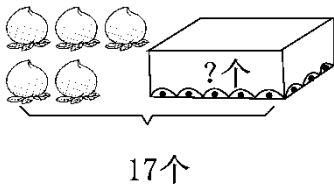
2



. ?块

$$\square \bigcirc \square = \square \text{ (块)}$$

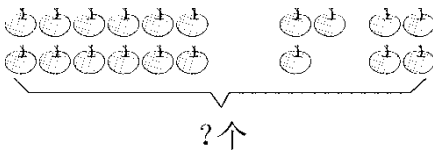
3.



17个

$$\square \bigcirc \square = \square \text{ (个)}$$

4.




?个

$$\square \bigcirc \square \bigcirc \square = \square \text{ (个)}$$

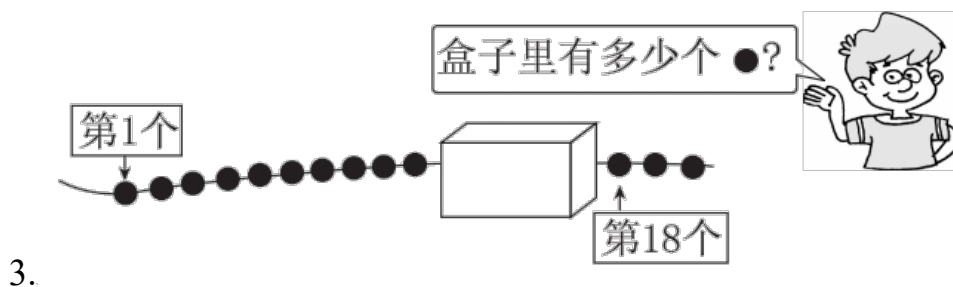
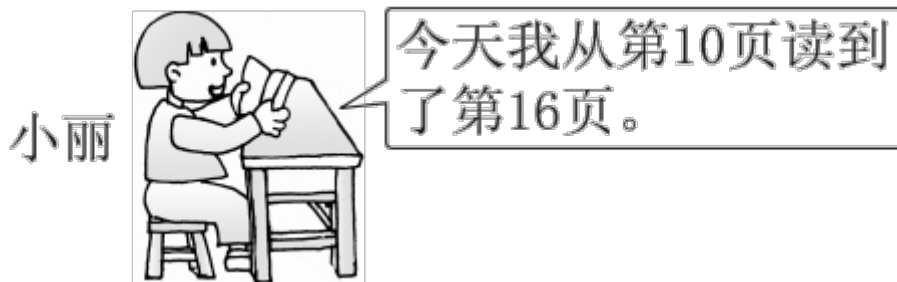
九、解决问题。(每题 5 分，共 15 分)

1. 王明和李晓之间有几?





2. 小丽在看《西游记》。你知道她今天看了多少页吗？



3.





### 答案

一、1.个 十 2.18 17

3. 十九 9 9 一

4. 20 10 5.15 17 6.12 14 14 19

7.  $20 > 18 > 15 > 12 > 9 > 6$

二、1.16 16 19 4 19 10 12 12 9 8 20 18

2. 17 10 15 19 13 15

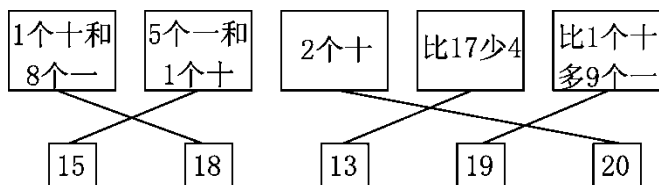
三、 $< < < = < <$

四、7 2 13 2 14 17 16 12 20

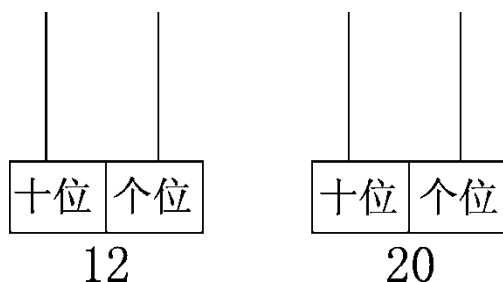
(个别空答案不唯一)

五、1.⑥ 2.⑱ 3.② 4.⑨ 5.③

六、



七、



八、1.  $10 + 5 = 15$   $5 + 10 = 15$   $15 - 5 = 10$   $15 - 10 = 5$

2.  $11 + 3 = 14$

3.  $17 - 5 = 12$





4.  $12+3+4=19$



九、1.王明

李晓

有4人。



2.第10页

第16页

她今天看了7页。

3.  $17-10=7$ (个)

