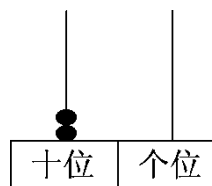
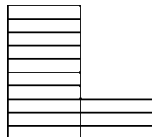
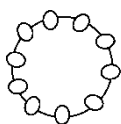




6 单元跟踪检测卷

一、我会写数和读数。(6分)



写作: _____

写作: _____

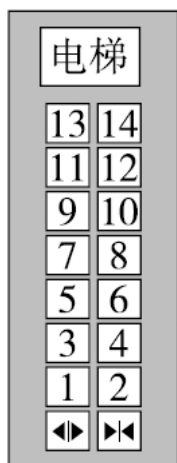
写作: _____

读作: _____

读作: _____

读作: _____

二、我会填。(每题4分, 共24分)



1. 乘电梯。

(1)右图的 14 读作 (), 在电梯中表示 ()。

(2)14 中的 1 在 () 位, 表示 ()。

(3)比 14 层低一层是 () 层。

(4)14 比 () 多 2。

2. 猜猜我是几。



我比8多10。

()



我有2个十。

()




我有1个十和2个一。

()



被减数是16, 减数是3, 我是差。

()

3. 一共有() 个小动物,  排第()。





4. 把下面苹果中的数从小到大排排队。



5.



比 多_____。

6. 你知道下面各是哪些数吗?

(1) 十位上是 1, 个位上是 8 的数是 ()。

(2) 与 11 相邻的两个数是 () 和 ()。

(3) 15 前面的一个数是 (), () 后面的一个数是 17。

三、我会辨。(对的画“√”, 错的画“×”)(每题 1 分, 共 5 分)

1. 一个两位数, 从左边起, 第一位是个位, 第二位是十位。()

2. 只有 18 比 17 大。()

3. 11 的两个 1 的含义一样。()

4. 最小的两位数是 10, 最大的一位数是 9。()

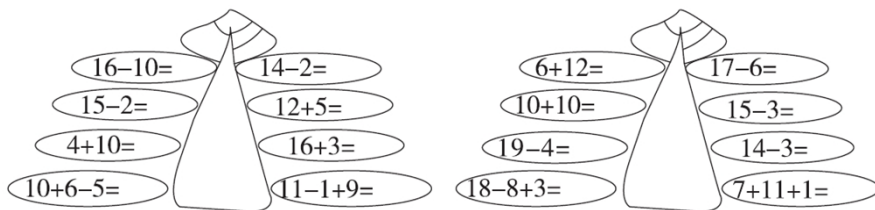
5. 9 比 19 多 10。()

四、计算大闯关。(共 31 分)







1. 细心算，别粗心！（每题 1 分，共 16 分）



2. 在 \bigcirc 里填上“ $>$ ”“ $<$ ”或“ $=$ ”。(每题 1 分，共 4 分)

$10+7$ \bigcirc 18 $14+5$ \bigcirc $15+4$
 $19-10$ \bigcirc $16-6$ $18-3$ \bigcirc $10+3$

3. 勤劳的小蜜蜂。(连一连)(5 分)

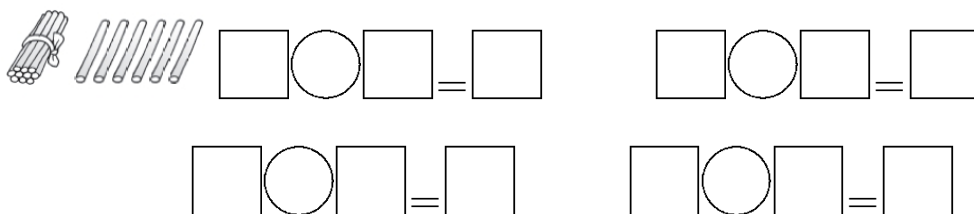


4. “心中”有数。(每题 1 分，共 6 分)

$10 + \heartsuit = 20$ $17 - \heartsuit = 10$ $\heartsuit - 6 = 12$
 $\heartsuit + 3 = 18$ $16 + \heartsuit = 19$ $14 - \heartsuit = 4$

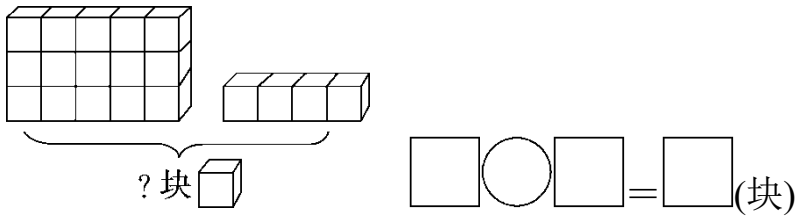
五、我会看图列式计算。(每题 3 分，共 9 分)

1.

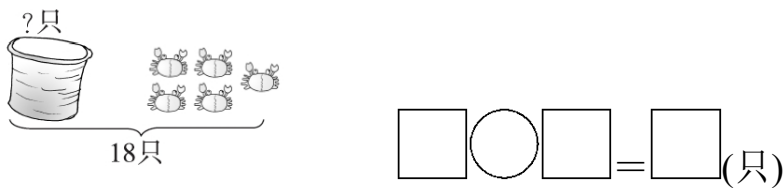




2.




3.



六、我会解决有趣的生活问题。(每题 5 分，共 25 分)

1. 快乐春游。



小红排第 (), 小刚排第 (),
他们之间还有 () 个小朋友。

2.



小明的妈妈 () 月
() 日过生日，那天是星期 ()。





3.



它们一共钓了多少条鱼？

$$\square \bigcirc \square = \square \text{ (条)}$$

4.

宝宝,我们一共捉了17条虫子。



妈妈,我捉了4条,你捉了多少条?

$$\square \bigcirc \square = \square \text{ (条)}$$

5.



小明和小芳之间有几儿人？





答案

一、16 十六 13 十三 20 二十

二、1. (1)十四 第14层 (2)十 1个十 (3)13 (4)12

2. 18 20 12 13

3. 15 14 [点拨] 要求一共有几个小动物, 可以从小猫(12)数起, 一个一个往后数。

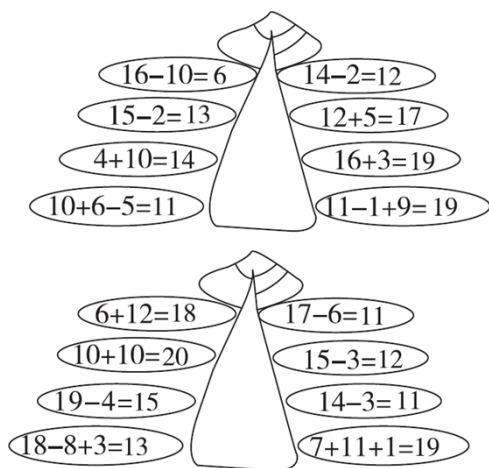
4. $6 < 9 < 10 < 11 < 15 < 17 < 20$

5. 4, [点拨] 采用“一一对应”的方法, 找出多的部分。

6. (1)18 (2)10 12 (3)14 16

三、1. \times 2. \times 3. \times 4. $\sqrt{\quad}$ 5. \times

四、1.



2. $< = < >$



