



北京市名校期末测试卷

一、填一填。(每空 1 分, 共 30 分)

1. 8.39 元 = () 元 () 角 () 分 6 元 2 角 = () 元

5 米 5 厘米 = () 米 7 分 = () 元

闰年全年 = () 天 平年 2 月 = () 天

2. 15.38 元读作()元,

六十点零五元写作()元。

3. (1)明明早上()时()分来到

少年宫, ()时离开。


(2)吃午饭用了()分。

(3)写作业用了 1 时 40 分, 完成时

是下午()时()分。

明明寒假的一天

起床: 7: 30
洗脸刷牙: 7: 40~8: 00
在少年宫: 8: 50~11: 00
吃午饭: 11: 50~12: 30
写作业: 13: 00~?
打球: 15: 00~16: 00



4. 0 和任何数相乘都得(), 1 乘任何数都得()。

5. 比一比, 填一填。(填“>”“<”或“=”)

56×7 ○ 56×6 $3000 + 3000$ ○ 9000 502×5 ○ 205×5

6. $12 \times 6 = ()$

| | | |
|---|----|---|
| × | 10 | 2 |
| 6 | | |





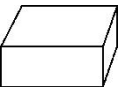
7. (千克是质量单位)
大米580千克



列式计算: _____

8. $37+26=63$, $63\div 9=7$, 写成综合算式是()。
9. 冬冬用一根()厘米长的铁丝围成一个边长是6厘米的正方形。
一个长方形长是8厘米, 宽是5厘米, 周长是()厘米。
10. 同学们去游玩, 每人带一份盒饭, 每份盒饭要含一个荤菜和一个素菜。荤菜有排骨和鱼, 素菜有白菜、黄瓜和油菜, 厨师共有()种不同的配菜方法。

二、辨一辨。(对的在括号里画“√”, 错的画“×”)(每题1分, 共6分)

1. 周长相等的两个正方形, 它们的边长一定相等。 ()
2. $720-720\div 8=0$ ()
3. 10个0.1元是1元。 ()
4. 2017年2月29日, 淘气从北京回到沈阳。 ()
5. 站在不同的位置观察 , 可能看到1个面, 也可能看到2个面, 最多能看到3个面。 ()
6. $(19+25)\times 7$ 先算加法再算乘法; $72-48\div 6$ 先算减法再算除法。 ()





三、选一选。(把正确答案的序号填在括号里)(每题 1 分, 共 6 分)

1. 一个乘数是 294, 另一个乘数是 6, 积大约是()。

- A. 180 B. 1800 C. 1764

2. 每时加工最多的是()。

- A. 3 时加工 360 个 B. 4 时加工 408 个 C. 5 时加工 550 个

3. 如图, 算式 $(100-36)\div 8$ 表示: ()

- A. 100 元买一盒梨还剩多少元。
B. 100 元买一盒梨, 剩下的钱还能买多少
 千克苹果。
C. 用 100 元能买多少千克苹果。

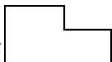



4. 用两个边长是 4 厘米的正方形拼成一个长方形, 这个长方形的周
长是()厘米。

- A. 36 B. 32 C. 24

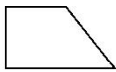
5. 积中间有 0 的竖式是()。

- A.
$$\begin{array}{r} 405 \\ \times 3 \\ \hline \end{array}$$
 B.
$$\begin{array}{r} 176 \\ \times 8 \\ \hline \end{array}$$
 C.
$$\begin{array}{r} 125 \\ \times 4 \\ \hline \end{array}$$

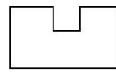
6. 与  周长一样长的是()。



A



B



C

四、计算挑战。(共 28 分)

1. 直接写出得数。(每题 1 分, 共 8 分)

$4 \times 210 =$ $60 \times 7 =$ $28 + 33 =$ $40 \times 0 \div 9 =$

$700 \times 6 =$ $200 \times 6 =$ $5.5 - 4.6 =$ $7 \times 8 - 56 =$





2. 列竖式计算。(每题 2 分，共 8 分)

$$57.6 \text{ 元} + 21.9 \text{ 元} = \quad 35.7 \text{ 元} - 30.8 \text{ 元} =$$

$$520 \times 5 =$$

$$607 \times 7 =$$

3. 用你喜欢的方法计算下面各题。(每题 4 分，共 12 分)

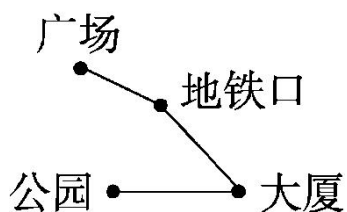
$$400 \div 5 + 642$$

$$8 \times (309 - 175)$$

$$1000 - 326 - 174$$

五、走进生活，解决问题。(每题 5 分，共 30 分)

1.



| | 路程/米 |
|--------|------|
| 广场—地铁口 | 450 |
| 广场—大厦 | 980 |
| 广场—公园 | 1526 |

(1) 地铁口到大厦有多少米?





(2) $1526 - 980$ 求的是哪两个地方之间的路程?

2.



我买了12支笔,
每支5元。

阳阳

我和冬冬、芳芳每人买了2本
笔记本, 一共用了18元。




光光

他们买文具一共用了多少元?

3. 水果店运进 200 盒橙子, 每盒 8 千克, 卖掉 750 千克, 还剩多少
千克?

4.

A城 \longrightarrow B城
14:30出发 18:30到达



每时行120千米

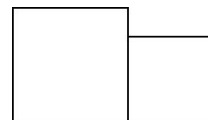
两城相距多
少千米?





5. 新华超市一天卖了 248 千克鸡蛋，上午卖了 106 千克，下午比上午多卖多少千克鸡蛋？

6. 把两个边长分别是 8 厘米和 6 厘米的正方形从大到小排成一行(如图)，排成的图形的周长是多少厘米？





答案

一、1. 8 3 9 6. 2 5. 05 0. 07 366 28

2. 十五点三八 60. 05

3. (1)8 50 11 (2)40 (3)2 40

4. 0 原数

5. > < >

6. 72 60 12 $60+12=72$

7. $580-210+580=950$ (千克)

8. $(37+26)\div 9=7$ 【点拨】别忘了要添上小括号。

9. 24 26 10. 6

二、1. $\sqrt{\quad}$ 2. \times 3. $\sqrt{\quad}$ 4. \times 5. $\sqrt{\quad}$ 6. \times

三、1. B 2. A 3. B 4. C 5. B 6. A

四、1. 840 420 61 0 4200 1200 0.9 0

2. 57.6 元 + 21.9 元 = 79.5 元

$$\begin{array}{r} \text{元 角} \\ 57.6 \\ + 21.9 \\ \hline 79.5 \end{array}$$

35.7 元 - 30.8 元 = 4.9 元

$$\begin{array}{r} \text{元 角} \\ 35.7 \\ - 30.8 \\ \hline 4.9 \end{array}$$

$520 \times 5 = 2600$





$$\begin{array}{r} 520 \\ \times 5 \\ \hline 2600 \end{array}$$

$$607 \times 7 = 4249$$

$$\begin{array}{r} 607 \\ \times 7 \\ \hline 4249 \end{array}$$

3.

$$\begin{aligned} & 400 \div 5 + 642 \\ &= 80 + 642 \\ &= 722 \end{aligned}$$

$$\begin{aligned} & 8 \times (309 - 175) \\ &= 8 \times 134 \\ &= 1072 \end{aligned}$$

$$\begin{aligned} & 1000 - 326 - 174 \\ &= 1000 - (326 + 174) \\ &= 1000 - 500 \\ &= 500 \end{aligned}$$

五、1. (1) $980 - 450 = 530$ (米)

答：地铁口到大厦有 530 米。

(2) $1526 - 980$ 求的是公园与大厦之间的路程。

2. $12 \times 5 + 18$

$$= 60 + 18$$

$$= 78(\text{元})$$

答：他们买文具一共用了 78 元。





3. $200 \times 8 - 750$

$$= 1600 - 750$$

$$= 850(\text{千克})$$

答: 还剩 850 千克。

4. $18 \text{ 时 } 30 \text{ 分} - 14 \text{ 时 } 30 \text{ 分} = 4 \text{ 时}$

$$120 \times 4 = 480(\text{千米})$$

答: 两城相距 480 千米。

5. $248 - 106 = 142(\text{千克})$

$$142 - 106 = 36(\text{千克})$$

答: 下午比上午多卖 36 千克鸡蛋。

6. $(8 + 6 + 8) \times 2$

$$= 22 \times 2$$

$$= 44(\text{厘米})$$

答: 排成的图形的周长是 44 厘米。

