

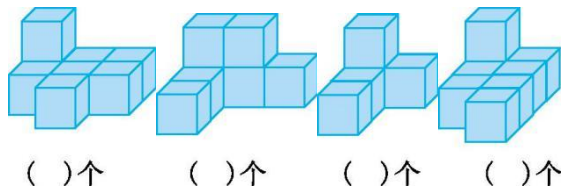


## 第六单元测试卷(2)

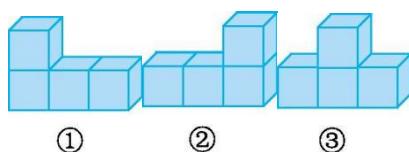
时间:90分钟 满分:100分 分数:\_\_\_\_\_

### 一、填空。(20分)

1. 数一数下面的立体图形各是由几个小正方体搭成的。



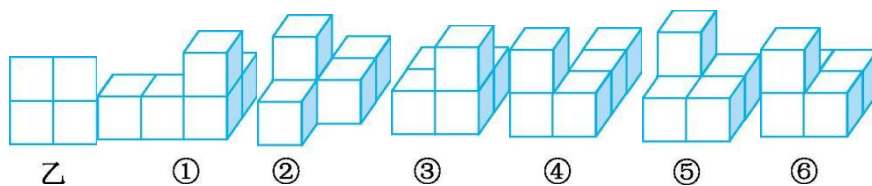
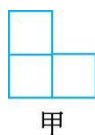
2. 摆一摆,填一填。



(1)观察上面的三个立体图形可以知道:从上面看①,可以看到( )个正方形;从前面看②,可以看到( )个正方形;从侧面看③,可以看到( )个正方形。


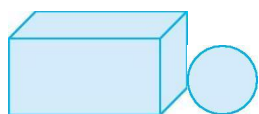
(2)从( )面和( )面看到三个立体图形的形状完全相同;从( )面看到的形状不同。

二、仔细观察下面的立体图形,按照要求填序号。(16分)



1. 从前面看到的形状是甲的有( )。
2. 从上面看到的形状是乙的有( )。
3. 从右面看到的形状是甲的有( )。
4. 从前面和右面看到的形状都是甲的有( )。

三、连线。(15分)



从前面看

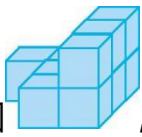
从右面看

从左面看





四、选择。(将正确答案的序号填在括号里)(35分)



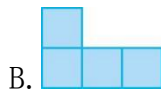
1. 如图,它是由( )个小正方体搭成的。

A. 9

B. 10

C. 11

2.  从侧面看到的是( )。



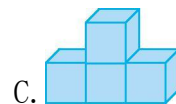
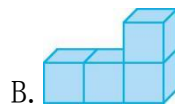
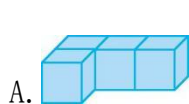
3. 用 4 个同样大的小正方体搭成 , 则从( )看到的是 .

A. 前面

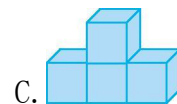
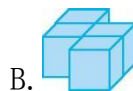
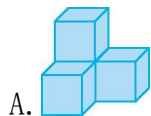
B. 右面

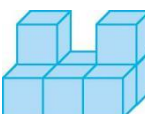
C. 上面

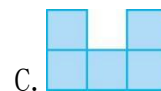
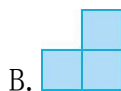

4. 从上面和侧面看,形状完全相同的是( )和( )。



5. ( )从左面看到的形状是 .

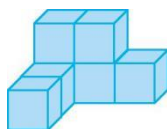


6. ( )是从  的前面看到的。



五、解决问题。(14分)

分别画出从立体图形的前面、右面和上面观察到的图形。





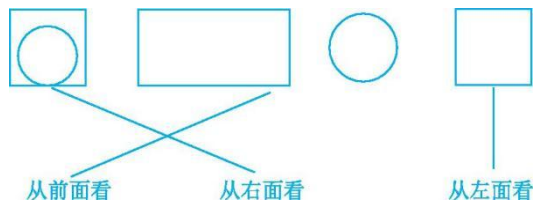
答案

一、1. 8 7 5 8

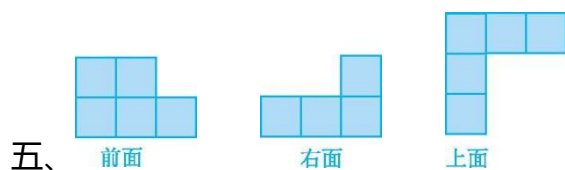
2. (1)3 4 2 (2)上 侧 前

二、1. ②④⑤⑥ 2. ③⑤⑥ 3. ①③⑥ 4. ⑥

三、



四、1. B 2. C 3. B 4. B 5. C 6. C



五、

