



第三单元演练

一、填一填。

1. 计数器上,从右边起,个位是第()位,百位是第()位,十位是第()位。
2. 100 的最高位是()位。
3. 66 是()位数,右边的 6 在()位上,表示()个(),左边的 6 在()位上,表示()个()。
4. 75 里面有()个十和()个一。
5. 比 86 多 3 的数是(),比 85 少 4 的数是()。
6. 79 前面的一个数是(),后面的一个数是()。
7. 一个两位数,十位上的数字与个位上的数字相同,这两个数字的和是 8,这个两位数是()。
8. 最大的两位数是(),最小的两位数是()。

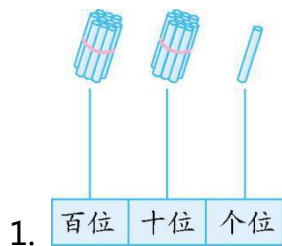
二、选一选。(把正确答案的序号填在括号里)

1. 十位上是 6,个位上是 7,这个数是()。
①97 ②67 ③76
2. 下面的数中,()与 78 最接近。
①25 ②100 ③75
3. 一个数比 56 大,又比 65 小,这个数可能是()。
①48 ②59 ③76
4. 养殖场有鸡 66 只,鸭 63 只,鹅 20 只,兔子 10 只,鸡的只数和鸭的只数(),
鸭的只数比鹅的只数(),兔子的只数比鸡的只数()。
①多得多 ②少得多 ③差不多





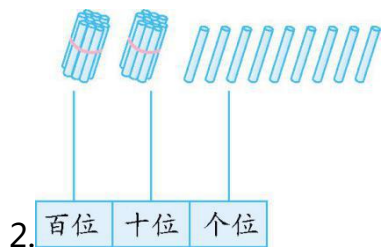
三、在计数器上表示图中的数,再按要求填一填。



写作: _____

读作: _____

由()个十和()个一组成。



写作: _____

读作: _____

由()个十和()个一组成。

四、把卡片上的数正确地放在小圆圈里。

38 58 79 60 98

○ < ○ < ○ < ○ < ○

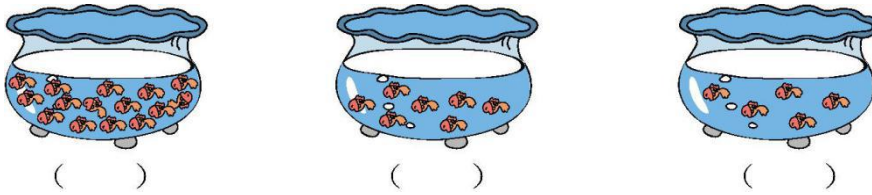
五、在正确的数字上画“√”。

动物园里有  50 只,  比  少得多,  比  多得多,





六、根据小朋友的描述, 在鱼缸的下面填上小朋友的名字。



七、解决问题。

1. 比一比, 谁的年龄最大, 谁的年龄最小。



2. 在 1~50 这 50 个数中, 数字 1 出现过多少次?





第三单元演练答案

一、1. 一 三 二 2. 百

3. 两 个 6 一 十 6 十

4. 7 5 5. 89 81

6. 78 80 7. 44

8. 99 10

二、1. ② 2. ③ 3. ② 4. ③ ① ②

三、画计数器略。1. 21 二十一 2 1

2. 29 二十九 2 9

四、38 58 60 79 98

五、大熊猫 4 只,马 92 匹,狮子 41 头,梅花鹿 59 只。

六、小玲 小军 小明

七、1. 熊猫的年龄最大,松鼠的年龄最小。

2. 15 次

