



## 第2单元过关检测卷

时间: 40分钟 满分: 100分

题号	一	二	三	四	五	六	总分
得分							

一、填一填。(3题每空0.5分, 其余每空1分, 共18分)

1. 笔算两位数加、减两位数时, 应注意( )对齐, 从( )位算起。

2. 56比32多( ), 6比40少( ), 比34多18的数是( )。

3. 按规律填一填。

(1) 14、21、28、35、( )、( )、( )。

(2) 74、70、66、62、( )、( )、( )。

4. 在○里填上“>”“<”或“=”。

$35+12 \bigcirc 57$

$45-8 \bigcirc 55-18$

$70-6 \bigcirc 25+35$

$32+45 \bigcirc 87$

$6+34 \bigcirc 60+4$

$36-9 \bigcirc 36-12$

5. 里藏着几?

$29+23 = \bigcirc 2$

$36-18 = \bigcirc 8$

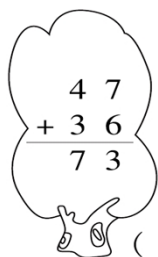
$34+25 = \bigcirc 9$

$59-38 = \bigcirc 1$

二、判断。(对的画“√”, 错的画“×”并改正; 每题3分, 共6分)


1.  $47+36=73$

2.  $80-(48-19)=23$



$$\begin{array}{r} 47 \\ + 36 \\ \hline 73 \end{array}$$

( ) 改正:



$$\begin{array}{r} 80 \quad 42 \\ - 48 \quad - 19 \\ \hline 42 \quad 23 \end{array}$$

( ) 改正:

三、选择。(将正确答案的序号填在括号里; 每题1分, 共5分)

1. 下面算式的结果最接近80的是( )。

①  $36+57$

②  $95-27$

③  $48+33$





2. 与  $54-18$  的结果相等的算式是( )。
- ①  $90-64$                       ②  $82-46$                       ③  $18+28$
3. 计算  $64-38$  时, 个位上的 4 不够减 8, 从十位退 1, 个位上要用( )减 8。
- ① 10                              ② 24                              ③ 14
4. 最大的两位数比最大的一位数多( )。
- ① 10                              ② 9                                ③ 90
5. 笔算两位数加减法时都要从( )位算起。
- ① 个                              ② 十                                ③ 高

四、计算。(26 分)

1. 口算。(每题 1 分, 共 8 分)

$15+25=$                $42-4=$                $36+30=$                $78-8+6=$   
 $5+43=$                $60-7=$                $50+34=$                $87-(40-3)=$

2. 竖式计算。(每题 3 分, 共 18 分)

$56+29=$                        $92-78=$                        $70-37+28=$

$100-76=$                        $81-79=$                        $86-(45+26)=$

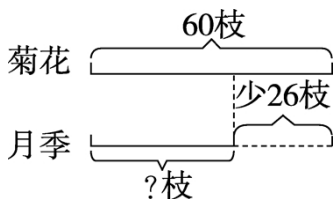
五、看图列式。(每题 2 分, 共 8 分)



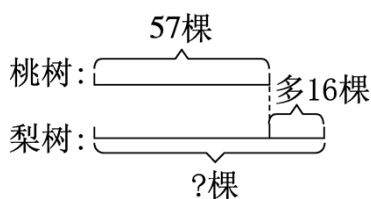
1.  $\square \bigcirc \square = \square$  ( )



2.  $\square \bigcirc \square = \square$  ( )



3.  $\square \bigcirc \square = \square$  ( )



4.  $\square \bigcirc \square = \square$  ( )





六、解决问题。(37分)

1. 菲菲有多少钱?(4分)



我买一个玩具熊还差26元。



70元

2. 新星超市原来有 56 台冰箱, 上个月卖了 38 台, 这个月又购进 43 台, 现在新星超市有多少台冰箱?(5分)

3. (1) 红红家交水费多少元?(3分)

我家交水费  
46元。



明明

我家交的水费  
比明明家少9元。



红红

我家交的水费比  
红红家多13元。



军军

(2) 军军家交水费多少元?(3分)

4. 涛涛看《故事书》, 第一天看了 32 页, 第二天看了 36 页, 两天一共看了多少页? 如果他第三天看 30 页, 能看完吗?(7分)



100页

5. 体育室还剩多少个篮球?(用两种方法解答)(6分)

体育室有篮  
球80个。



我们一班  
借走12个。



我们二班  
借走18个。





6. 新阳超市举行十周年店庆活动，满 50 元减 10 元。(9 分)



15元



18元



23元



35元



28元

(1) 小亮买了一把玩具枪和一辆玩具汽车，一共花了多少钱？

(2) 小阳买了一架玩具飞机和一把玩具枪，一共花了多少钱？

(3) 你还能提出一个问题并解答吗？





## 答案

一、1. 相同数位 个

2. 24 34 52

3. (1) 42 49 56 (2) 58 54 50

4. < = > < < >

5. 5 1 5 2

二、1. ×  $47+36=83$  2. ×  $80-(48-19)=51$

$$\begin{array}{r} 47 \\ +36 \\ \hline 83 \end{array}$$

$$\begin{array}{r} 48 \\ -19 \\ \hline 29 \end{array} \quad \begin{array}{r} 80 \\ -29 \\ \hline 51 \end{array}$$

三、1. ③ 2. ② 3. ③ 4. ③ 5. ①

四、1. 40 38 66 76 48 53 84 50

2. 85 14 61 24 2 15

五、1.  $65+13=78$ (元) 2.  $65-44=21$ (元)

3.  $60-26=34$ (枝) 4.  $57+16=73$ (棵)

六、1.  $70-26=44$ (元)

2.  $56-38+43=61$ (台)

3. (1)  $46-9=37$ (元) (2)  $37+13=50$ (元)

4. 一共:  $32+36=68$ (页)

剩下:  $100-68=32$ (页)

$32 > 30$  不能看完

5. 方法 1:  $80-12-18=50$ (个)

方法 2:  $12+18=30$ (个)  $80-30=50$ (个)

6. (1)  $18+23=41$ (元)

(2)  $35+18=53$ (元)  $53-10=43$ (元)

(3) (答案不唯一) 买一个玩具熊、一辆玩具汽车和一个皮球一共多少钱?

$15+23+28=66$ (元)  $66-10=56$ (元)

