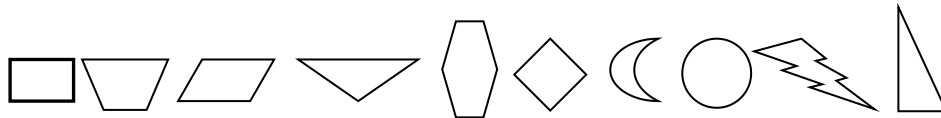


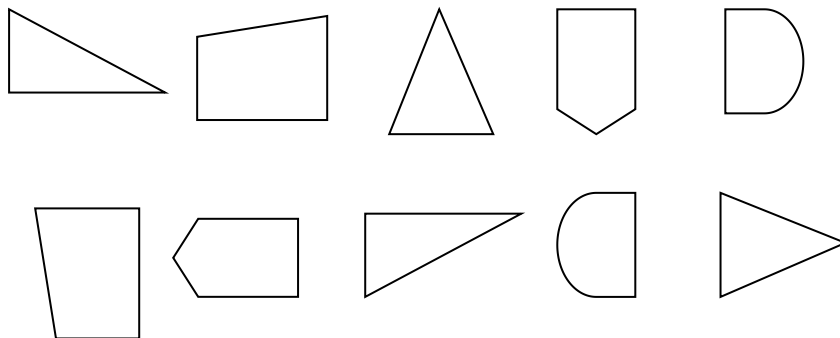


第二单元检测卷

一、下面哪些图形是轴对称图形，如果是轴对称图形请圈出来。（20分）



二、哪两个图形能拼成轴对称图形？把它们连起来。（20分）



三、下面的图案，请在轴对称图形下面的（ ）里打√。（10分）



四、填一填，选一选（18分）

1. 如果从轴对称图形的中间画一条直的线，它的左右两边完全（ ）。

2. 下面的数字中，是轴对称图形的有（ ）。

0 1 3 6 8 9

3. 下面的英文字母，是轴对称图形的有（ ）。

A C M N S X Z

4. 下面的汉字中，是轴对称图形的有（ ）

王 田 品 工 用 中 水 清 甲

5. 下面的交通标志中，是轴对称图形的有（ ）填序号。





6. 下面的国旗中，是轴对称图形的有（ ）填序号。




C



D

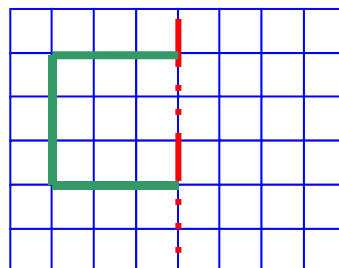
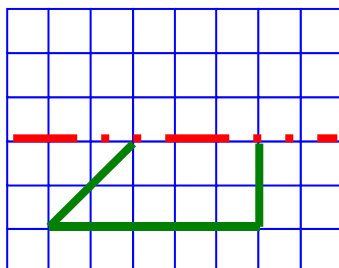
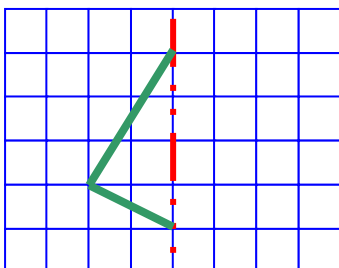


E



A
B

五、画出轴对称图形的另一半。（12分）





答案:

一、第一二四五六七八个是。

二、略

三、第二三五个

四、1. 重合 2. 0 13 8 9 3. A C M X4. 王 田 品 工中甲 5. 2 3 6. CDE

五、略

