



## 小学二年级数学（上）六单元测试题

### 一、填空。

1、 $10 \div 5 = 2$ , 读作 ( ), 除数是 ( ), 被除数是 ( )  
商是 ( )。

2、有 12 个  $\triangle$ , 每 3 个一份, 可以分成 ( ) 份, 算式是 ( )。

3、 $20 \div 4 = 5$  表示把 ( ) 平均分成 ( ) 份, 每份是 ( ); 还表示 20 里面有 ( ) 个 ( )。

4、在  $\bigcirc$  里填上 “ $>$ ”、“ $<$ ” 或 “ $=$ ”

$3 \times 3 \bigcirc 6$

$5 + 6 \bigcirc 5 \times 6$

$1 \times 1 \bigcirc 1 + 1$

$8 \div 2 \bigcirc 2 \times 2$

$24 \div 4 \bigcirc 24 \div 6$

$16 \div 4 \bigcirc 4 \times 4$

5、先把口诀补充完整, 再写出两个除法算式。

三六 ( )

( ) 五得五

四 ( ) 二十四

五六 ( )

\_\_\_\_\_

\_\_\_\_\_

\_\_\_\_\_

\_\_\_\_\_

\_\_\_\_\_

\_\_\_\_\_

\_\_\_\_\_

\_\_\_\_\_

### 二、在 ( ) 里填上适当的数。

$( ) \times 5 = 20$

$6 \times ( ) = 18$

$65 + ( ) = 93$

$49 - ( ) = 15$

$16 \div ( ) = 4$

$( ) \div 3 = 4$

$( ) \times 1 = 6$

$( ) \times 2 = 2$

$( ) \div 5 = 1$

$3 \times ( ) = 9$

$20 \div ( ) = 5$

$( ) \times 4 = 8$

### 三、列式计算。

1、被除数是 24, 除数是 6, 商是多少?

2、把 12 平均分成 3 份, 每份是多少?

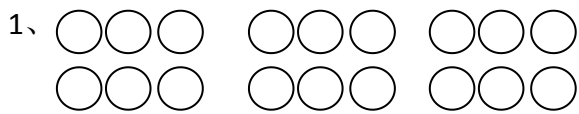
3、20 里有几个 5 ?

4、除数是 2, 被除数是 10, 商是几?

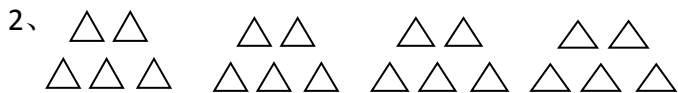




四、看图写一道乘法和一道除法算式。



$\square \times \square = \square$      $\square \div \square = \square$



$\square \times \square = \square$      $\square \div \square = \square$



$\square \times \square = \square$      $\square \div \square = \square$

五、你有几种不同的填法。

(    )  $\div$  (    ) = 4

(    )  $\div$  (    ) = 6

(    )  $\div$  (    ) = 4

(    )  $\div$  (    ) = 6

(    )  $\div$  (    ) = 4

(    )  $\div$  (    ) = 6

(    )  $\div$  (    ) = 4

(    )  $\div$  (    ) = 6

六、填表。

因数	6	5	2	6	2	6
因数	3	2	4	6	6	4
积						

被除数	30	15	12	16	6	18
除数	5	5	6	4	1	6
商						

七、解决问题。

1、把条件和问题连起来，再解答。

(1) 15 个羽毛球，平均分给 5 个班。

一共分了几个小皮球？

(2) 18 个乒乓球，每班分 3 个。

每个班分得几个？

(3) 每班分 6 个小皮球，分给 5 个班。

能分给几个班？

列式: (1) \_\_\_\_\_

(2) \_\_\_\_\_

(3) \_\_\_\_\_





2、有 12 个小朋友参加跳绳比赛。




3、有 20 个皮球。

(1) 平均分给 5 个班，每个班分几个小皮球？

(2) 每个班分 4 个小皮球，可以分给几个班？

4、30 个同学平均分成 5 组去浇树。



5、学校买来 24 本故事书，如果把这些书平均分给 3 个班，每个班分几本？

6、3 张纸可以做 15 朵花。





## 附参考答案

### 一、填空。

1、10 除以 5 等于 2, 5, 10, 2; 2、4,  $12 \div 3=4$ , 3、20, 4, 5, 5 个 4;

4、 $>$ ,  $<$ ,  $<$ ,  $=$ ,  $>$ ,  $<$ ; 5、十八,  $18 \div 6=3$ ,  $18 \div 3=6$ , 一,  $5 \div 1=5$ ,

$5 \div 5=1$ , 六,  $24 \div 4=6$ ,  $24 \div 6=4$ ; 三十,  $30 \div 6=5$ ,  $30 \div 5=6$ ;

### 二、填数。4, 3, 28, 34, 4, 12, 6, 1, 5, 3, 4, 2;

### 三、列式计算。1、 $24 \div 6=4$ , 2、 $12 \div 3=4$ , 3、 $20 \div 5=4$ , 4、 $10 \div 2=5$

### 四、看图列式。1、 $6 \times 3=18$ , $18 \div 3=6$ ; 2、 $5 \times 4=20$ , $20 \div 4=5$ , (3) $3 \times 4=12$ , $12 \div 3=4$

### 五、填算式。 $12 \div 3=4$ , $16 \div 4=4$ , $36 \div 9=4$ , $32 \div 8=4$

$12 \div 2=6$ ,  $18 \div 3=6$ ,  $24 \div 4=6$ ,  $30 \div 5=6$

### 六、填表。表 1: 18, 10, 8, 36, 12, 24; 表 2: 6, 3, 2, 4, 6, 3;

### 七、解决问题。

1、左 1—右 2,  $15 \div 5=3$  (个), 左 2—右 3,  $18 \div 3=6$  (个), 左 3—右 1,  $6 \times 5=30$  (个)

2、 $12 \div 3=4$  (组) 答: 可以分成 4 组。

3、(1)  $20 \div 5=4$  (个) 答: 每班分 4 个小皮球。

(2)  $20 \div 4=5$  (个) 答: 可以分给 5 个班。

4、 $30 \div 5=6$  (个) 答: 每个小组有 6 个同学。

5、 $24 \div 3=8$  (本) 答: 每个班分得 8 本故事书。

6、 $15 \div 3 \times 6=30$  (朵) 答: 6 张纸可以做 30 朵花。

