



第二单元测试卷（一）

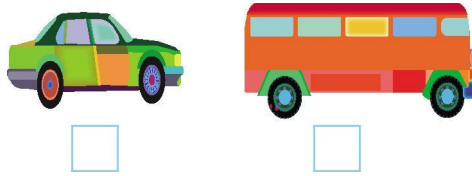
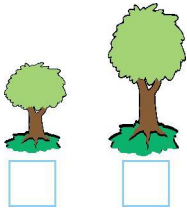
一、在动物下面画“○”，在植物下面画“×”。



二、比一比我能行!

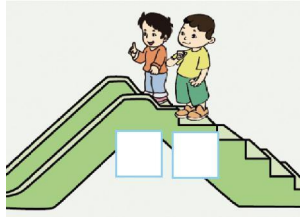

1. 高的画“×”，矮的画“○”。

2. 长的画“+”，短的画“-”。




3. 多的画“ ”，少的画“×”。

4. 高的画“ ”，矮的画“×”。




三、圈出每组中不同类的物品。



四、考考你的眼力!


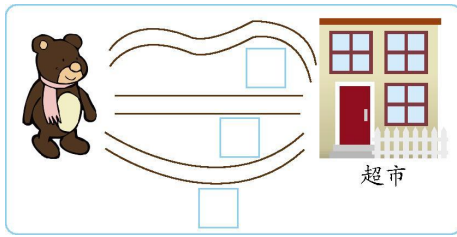
1. 哪盘最多?在下面画“○”。

2. 哪根绳子最长?在后面画“○”。







3. 小熊去超市，走哪条路最近？画“○”。
画“×”。



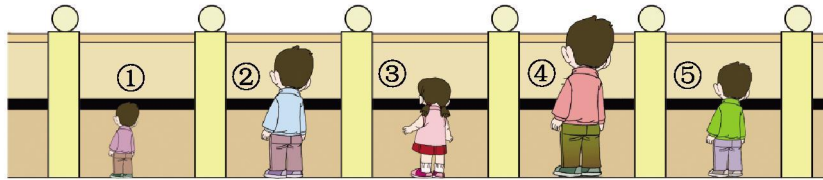
5. 谁最重？画“ ”。谁最轻？画“○”。



五、给下面的小朋友分分组，可以怎样分？(写序号)



六、比一比，按从矮到高的顺序排一排。



七、生活与数学。

1. 兔家族进行拔萝卜比赛，谁是今天的拔萝卜冠军？请奖励给它一个😊。

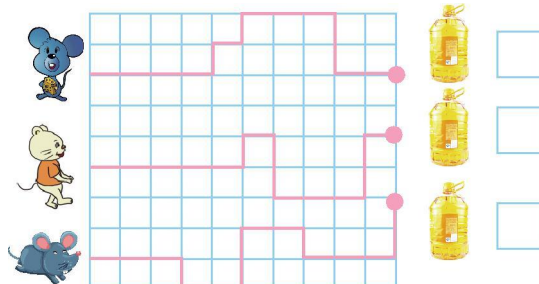


2. 三只小动物分别该睡在哪张床上呢？在它的下面写上床的序号。





3. 三只小老鼠跑得一样快，谁最先喝到油？画“△”。



4. 下雨了，哪个桶里接到的雨水最多？在下面画“△”。





参考答案

一、

二、1.

2. - +

3. ×

4.

三、提示：分别圈苹果、蝴蝶、三角尺、电视机。

四、1.

2. (从上到下)

3. (从上到下)

4. ×

5.

五、答案不唯一，如：按男女分为②③⑤⑦和①④⑥⑧。

六、①③⑤②④

七、1. 提示：第二只小兔。

2. ①③②

3. (从上到下)

4.

