
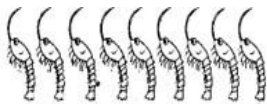










第一单元测试卷（二）

班级\_\_\_\_\_ 姓名\_\_\_\_\_ 分数\_\_\_\_\_

一、数一数，写一写。（16分）

			
<input type="text"/>	<input type="text"/>	<input type="text"/>	<input type="text"/>
			
<input type="text"/>	<input type="text"/>	<input type="text"/>	<input type="text"/>

二、把下面各数从小到大排一排。（18分）


6 1 4 8 0 5 7 2 3

--	--	--	--	--	--	--	--	--

三、在○里填“=”，“>”或“<”。（16分）

706    502    808    805    001

  
1 ○ 2

  
3 ○ 1

  
2 ○ 2

四、填一填。（24）

8	10	10	( )	7	6
^	^	^	^	^	^
7 ( )	6 ( )	( ) 5	3 6	( ) 3	2 ( )
6	( )	7	5	9	( )
^	^	^	^	^	^
3 ( )	3 2	5 ( )	1 ( )	( ) 5	2 8





### 五、填一填，画一画。(14)



从 😊 开始数：

- (1) 第 5 个是 ( )。
- (2) 第 6 个是 ( )。
- (3) 第 7 个是 ( )。
- (4) 第 4 个是 ( )。
- (5) 第 2 个是 ( )。
- (6) 第 3 个是 ( )。
- (7) 第 1 个是 ( )。

### 六、拓展探究：找规律 (12 分)

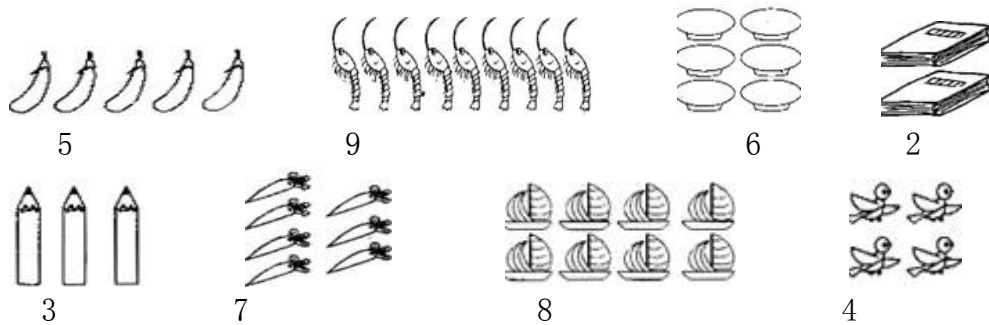
- (1) 1 , 3 , 5 , ( ) , ( )
- (2) 2 , 4 , 6 , ( ) , ( )






参考答案：

一、数一数，写一写。(16分)



二、把下面各数从小到大排一排。(18分)



0    1    2    3    4    5    6    7    8

三、在○里填“=”，“>”或“<”。(16分)

7 > 6    5 > 2    8 = 8    8 > 5    0 < 1



1 ○ 2



3 ○ 1



2 ○ 2

四、填一填。(24)

8      10      10      ( 9 )      7      6  
 ^      ^      ^      ^      ^      ^  
 7 ( 1 )    6 ( 4 )    ( 5 ) 5      3 6    ( 4 ) 3      2 ( 4 )

6      ( 5 )      7      5      9      ( 10 )  
 ^      ^      ^      ^      ^      ^  
 3 ( 3 )    3 2    5 ( 2 )    1 ( 4 )    ( 4 ) 5    2 8

五、填一填，画一画。(14)




从 ☺ 开始数：

(1) 第5个是 ( △ )。 (2) 第6个是 ( ○ )。

(3) 第7个是 ( ⊗ )。 (4) 第4个是 ( ☆ )。





(5) 第 2 个是 (  )。 (6) 第 3 个是 (  )。  
(7) 第 1 个是 (  )。

### 六、拓展探究：找规律（12分）

(1) 1 ， 3 ， 5 ， ( 7 ) ， ( 9 )

(2) 2 ， 4 ， 6 ， ( 8 ) ， ( 10 )

