





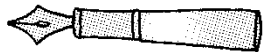
第一单元达标测试卷

一、我会填。(每空 1 分, 共 20 分)

1. 测量笔盒的宽用() 作单位, 测量教室的长用() 作单位。

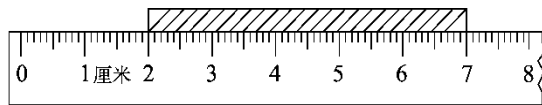
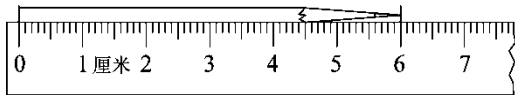
2. 小学生的两臂长大约 1(), 手掌宽大约 7()。

3. 线段有()个端点, 直尺上从刻度 3 到刻度 8 是()厘米。

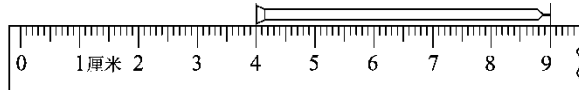
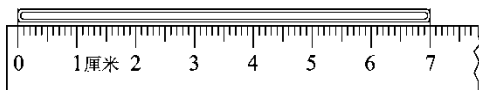


4. 钢笔大约()个 长 树叶大约()个 长

5.



铅笔长()厘米 木条长()厘米




木棍长()厘米 钉子长()厘米

6. 2 米=()厘米 1 米 35 厘米=()厘米

400 厘米=()米 160 厘米=()米()厘米

7. 在()里填上“厘米”或“米”。

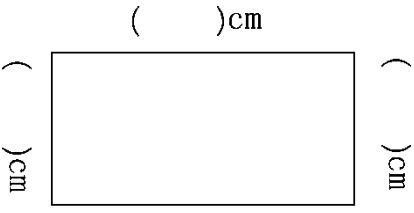
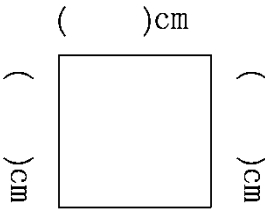



楼房高约 30() 蜜蜂身长约 2() 马高约 2()





二、先估一估，再量一量。(每空 1 分，共 10 分)


1.  

2. 

三、我会比。(6 分)

- 8 厘米 ○ 8 米 1 米 ○ 96 厘米 200 厘米 ○ 2 米
10 米 ○ 100 厘米 6 米 ○ 60 厘米 83 米 ○ 38 米

四、我会画。(4 题 4 分，其余每题 2 分，共 10 分)

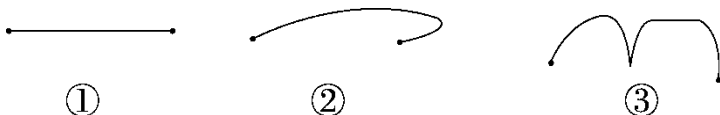
- 画一条比 4 厘米短的线段。
- 画一条比 3 厘米长 2 厘米的线段。
- 画一条和下面线段同样长的线段。

- 在小兔子左边 2 厘米处画一根萝卜，右边 4 厘米处画一朵小花。





五、我会选。(每题 2 分, 共 10 分)

1. 下面三个图形中是线段的是()。



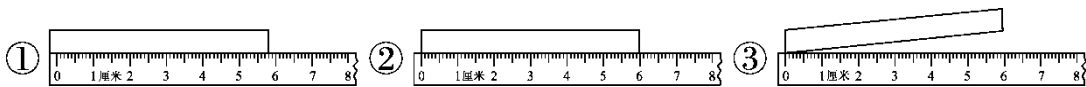
2. 黑板的长大约是()。

- ① 40 厘米 ② 4 米 ③ 15 厘米

3. 笑笑参加短跑比赛用了 18 秒, 她跑完了 100()。

- ① 厘米 ② 元 ③ 米

4. 下面的测量方法正确的是()。



5. 1 米长的绳子和 100 厘米长的铁丝比, ()。

- ① 绳子长 ② 铁丝长 ③ 同样长

六、我会辨, 对的画“√”, 错的画“×”。(每题 2 分, 共 10 分)

1. 10 厘米和 1 米同样长。 ()

2. 小明一拃长 20 米。 ()

3. 教室门高比 1 米高。 ()

4. 方桌边, 书本的边, 黑板的边, 圆桌的边都可以看作是线段。 ()

5. 直尺上从刻度 1 到刻度 10 的长度是 10 厘米。 ()

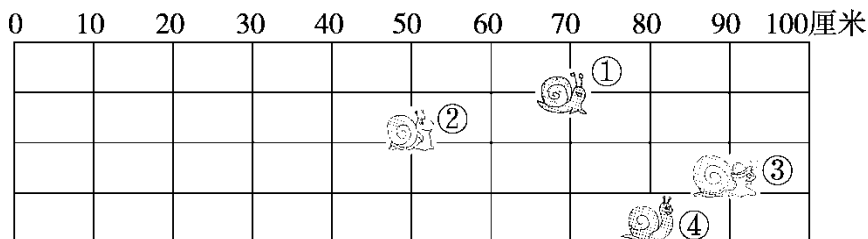
七、我会排。(5 分)





() > () > () > () > ()

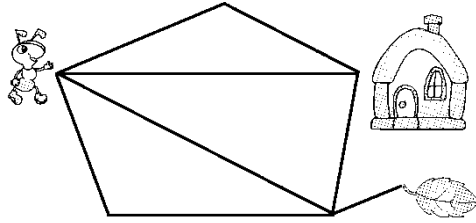
八、蜗牛爬行比赛。(4, 5 题每题 3 分, 其余每空 1 分, 共 11 分)



1. 每只蜗牛都要爬行_____厘米, 也就是_____米。
2. 第①只蜗牛已经爬行了_____厘米, 还要爬行_____厘米才到终点。
3. 第_____只蜗牛得第一名的可能性最大。
4. 第①只蜗牛比第②只蜗牛多爬了多少厘米?
5. 第④只蜗牛比第③只蜗牛少爬了多少厘米?

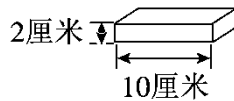
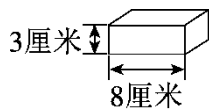
九、(变式题)蚂蚁回家。(3 题 5 分, 其余每空 1 分, 共 9 分)



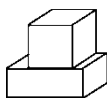


1. 蚂蚁回家一共有()条路可以走，走()条路最近，要爬()厘米。
2. 蚂蚁最近爬()厘米可以吃到树叶。
3. 请你再提一个数学问题并解答。

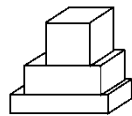
十、玩积木。(9分)



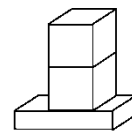
用上面的积木搭成下面的图形，它们各有多高？



()厘米



()厘米



()厘米





答案

一、1. 厘米 米 2. 米 厘米 3. 两 5

4. 5 6 5. 6 5 7 5 6. 200 135 4 1 60

7. 米 厘米 米

二、1. 略。2. 4 2

三、< > = > > >

四、1.略。

2. 略。[点拨]画一条长5厘米的线段。

3. 略。[点拨]画一条长4厘米的线段。

4. 略。

五、1.① 2.② 3.③ 4.② 5.③

六、1.× 2.× 3.√ 4.× 5.×

七、15米>240厘米>2米>1米 50厘米>38厘米

八、1.100 1 2.70 30 3.③

4. $70-50=20$ (厘米)

5. $90-80=10$ (厘米)

九、1. 4 上数第2 4

2. 5 [点拨] $4+1=5$ (厘米)

3.(答案不唯一)蚂蚁走第4条路爬多少厘米可以回家? 7厘米。

[点拨] $2+3+2=7$ (厘米)。

十、9 11 14

