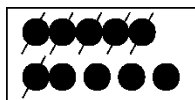




第五单元过关检测卷


一、照样子，划一划。(6分)



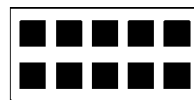
6



9



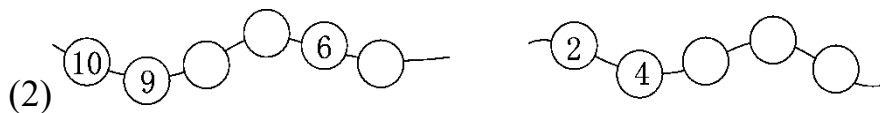
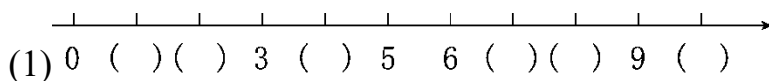
10






8

二、填一填。(1题6分，2题5分，3题8分，4题2分，共21分)

1. 按顺序填数。



2. 动物报数。




(1) 图中一共有()个水果，其中 有()个， 有()个。

(2) 从右边数，第()个、第()个、第()个和第()个都是 。

(3) 把左边的3个水果圈起来。

4. 照样子填数。





三、算一算。(每题 12 分，共 24 分)

$$\begin{array}{llll} 1. 3+6=\square & 10-2=\square & 2+8=\square & 9-4=\square \\ 9+1=\square & 8-4=\square & 7-3=\square & 6+4=\square \\ 10-3=\square & 7-2=\square & 10-5=\square & 8-3=\square \\ 2. 4+4-1= & 10-6+5= & 9-3-2= & \\ 2+6+1= & 9-2+3= & 6-2+3= & \end{array}$$

四、在 \bigcirc 里填上“>”“<”或“=”。(每空 1 分，共 6 分)

$$\begin{array}{lll} 4 \bigcirc 8-5 & 7-2 \bigcirc 5+1 & 4+3 \bigcirc 6 \\ 9 \bigcirc 10-1 & 8-6 \bigcirc 10-8 & 7 \bigcirc 5+3 \end{array}$$

五、 遮住的数字是几？请填一填。(每空 1 分，共 6 分)


$$\begin{array}{lll} 6+\text{cloud}=10 & \text{cloud}-2=7 & 9-\text{cloud}=9 \\ \text{cloud}+3=9 & 9-\text{cloud}=5 & 8+\text{cloud}=10 \end{array}$$

六、按要求解决问题。(1 题 4 分，2 题 8 分，共 12 分)

1. 画一画，填一填。


$$\begin{array}{ll} (1) \bigcirc\bigcirc\bigcirc\bigcirc \underline{\hspace{2cm}} & 4+\square=10 \\ (2) \star \underline{\hspace{2cm}} & 1+\square=7 \end{array}$$


2. 动物会选择哪个篮子？请连一连。






七、看图列式计算。(每题 3 分，共 12 分)


1.  $\square \bigcirc \square = \square$ (只)

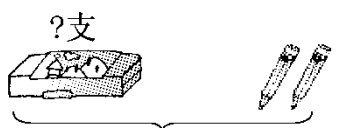
2.  $\square - \square - \square = \square$ (个)


3.  $8 - \square + \square = \square$ (只)

4.  $\square - \square - \square = \square$ (个)

八、解决问题。(1 题 5 分，其余每题 4 分，共 13 分)

1. 
女孩踢了 \square 下，男孩踢了 \square 下，两人一共踢了几下?
 $\square \bigcirc \square = \square$ (下)

2.  $\square \bigcirc \square = \square$ (支)
文具盒里有几支铅笔?

3. 一共有 9 个 .





还剩几个  ?

$$\square \bigcirc \square = \square (\text{个})$$





答案

一、略

二、1. (1)1 2 4 7 8 10 (2)8 7 5 6 8 10

2. (1)5 7 (2)6 4 2

3. (1)10 4 6 (2)4 7 8 10 (3)略

4. 8 5 4 3

三、1. 9 8 10 5 10 4 4 10 7 5 5 5

2. 7 9 4 9 10 7

四、> < > = = <

五、4 9 0 6 4 2

六、1. (1)○○○○○○ 6 (2)☆☆☆☆☆☆ 6

3-3+4 5-3+8 4+2+2 10-2-6
2. 8 2 10 4

七、1. $5+4=9$ 2. $7-1-2=4$

3. $8-5+3=6$

4. $10-3-1=6$

八、1. 3 7 $3+7=10$

2. $10-2=8$

3. $9-3=6$

