



## 第一单元测试卷(2)

时间:60分钟 满分:100分 分数:\_\_\_\_\_

### 一、填空。(11分)

- 5783是由( )个千、( )个百、( )个十和( )个一组成的;其中“5”在( )位上,表示( )。
- 用7、4、0、2四个数字,组成的最大的四位数是( ),最小的四位数是( )。
- 一个四位数,千位上和十位上都是2,其他各位上都是0,这个数写作( ),读作( ),8078中左边的“8”表示( )。

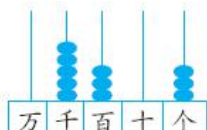
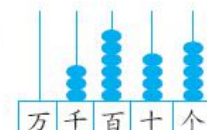

### 二、判断。(对的在括号里画“√”,错的画“×”)(6分)

- 786读作七百八十六。( )
- 从左边起,第三位是百位。( )
- 算盘是我国的传统计算工具,算盘的1个上珠表示5,1个下珠表示1。( )

### 三、选择。(把正确答案的选项填在括号里)(6分)

- 与1000相邻的两个数是( )。  
A. 1001和1002      B. 998和999      C. 999和1001
- 5069这个数中的“5”表示( )。  
A. 千      B. 千位      C. 5个千
- 用一个3、一个2和两个0组成的四位数,不需要读出零的是( )。  
A. 2030      B. 2300      C. 3002

### 四、读、写出下列各数,并说出它们的组成。(18分)

1.		2.		3.	
	写作:( )		写作:( )		写作:( )
	读作:( )		读作:( )		读作:( )

### 五、直接写出得数。(9分)

$650+80=$	$7400-900=$	$7000+3000=$
$460+70=$	$1500-900=$	$4600-600=$
$2000+5000=$	$80+70=$	$480-80=$









### 六、按顺序写数。(12分)

- 3760、3770、3780、( )、( )、( )
- 5900、( )、( )、6200、6300、( )
- 2980、2985、( )、( )、( )
- 6000、5500、( )、( )、( )





### 七、连线。(8分)

 6700	 七千零七十	 六千零七	 7600
 6007	 七千六百	 7070	 六千七百

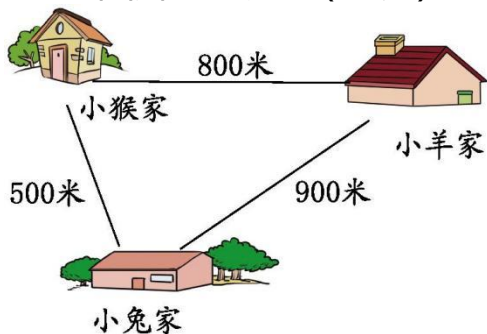
### 八、解决问题。(30分)

1. 小红家和小明家都在红旗路上,小红说:“我家离学校大约有 3000 米。”小明说:“我家离学校大约有 4000 米。”他们两家之间的距离大约有多少米?(8分)

### 2. 估一估大约有多少个字。(8分)

北京奥运会吉祥物是福娃——5个可爱的亲密小伙伴,分别叫“贝贝”“晶晶”“欢欢”“迎迎”“妮妮”,谐音为“北京欢迎你”。福娃色彩来源于奥林匹克五环,造型分别融入了鱼、大熊猫、奥林匹克圣火、藏羚羊和燕子的形象,蕴涵着其与海洋、森林、火、大地和天空的联系。贝贝祝福繁荣,晶晶传递快乐,欢欢象征激情,迎迎象征健康,妮妮象征好运。福娃向世界各地的人们传递友谊、和平、积极进取的精神和人与自然和谐相处的美好愿望。

### 3. 看图解决问题。(14分)



(1)小羊先去小猴家玩,再去小兔家玩,一共要走多少米?(7分)

(2)小猴要经过小兔家,去小羊家玩,一共要走多少米?(7分)





### 参考答案

一、1. 5 7 8 3 千 5个千

2. 7420 2047

3. 2020 二千零二十 8个千

二、1.  $\checkmark$  2.  $\times$  3.  $\checkmark$

三、1. C 2. C 3. B

四、1. 5303 五千三百零三 由5个千、3个百和3个一组成

2. 3645 三千六百四十五 由3个千、6个百、4个十和5个一组成

3. 2005 二千零五 由2个千和5个一组成

五、730 6500 10000 530 600 4000 7000

150 400

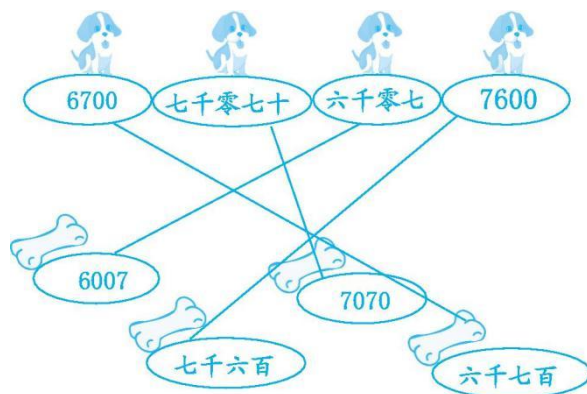
六、1. 3790 3800 3810

2. 6000 6100 6400

3. 2990 2995 3000

4. 5000 4500 4000

七、连线如下:



八、1. (1)小红家与小明家分别在学校的两侧,那么两家之间的距离为  $3000+4000=7000$ (米)。

(2)小红家与小明家在学校的同一侧,那么两家之间的距离为  $4000-3000=1000$ (米)。

答:他们两家之间的距离大约有 7000 米或 1000 米。

2. 答:大约有 150 个字。

3. (1) $800+500=1300$ (米)

答:一共要走 1300 米。

(2) $900+500=1400$ (米)

答:一共要走 1400 米。

