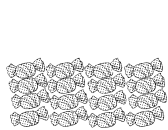


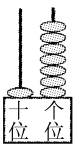


期末测试卷

一、看图写数。(每空 1 分，共 4 分)



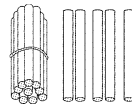
()



()



()



()

二、填一填。(第 4 题 6 分，其余每空 1 分，共 20 分)

- 1 个十和 9 个一合起来是()。
- 11 和 19 中，()接近 10，()接近 20。
- 时针指向 9、分针指向 12 是()时。
- 在 6、0、7、15、20、12 中，
 - (1)最大的数是()，最小的数是()。
 - (2)比 12 大的数有()，比 12 小的数有()个。
 - (3)把它们从大到小排列是()。

5. 在 里填上合适的数。

$16 - \square = 10$

$10 + \square = 12$

$4 + \square = 12$

$9 + \square = 16$

$17 - \square = 13$

$9 - \square = 0$

6. 在 里填上 “>” “<” 或 “=”。

$8 + 4 \bigcirc 11$

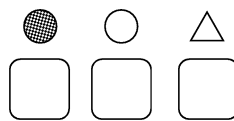
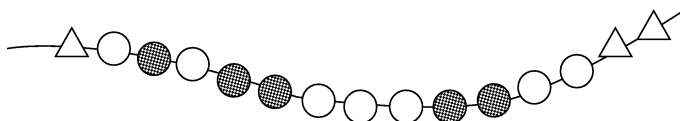
$9 - 0 \bigcirc 0 + 9$

$12 + 4 \bigcirc 17$

$8 \bigcirc 18 - 8$


三、按要求做一做。(每题 3 分，共 6 分)

1. 在最多的下面画 “√”。





2. 蚂蚁皮皮的前面有 3 只蚂蚁，后面有 5 只蚂蚁，把蚂蚁皮皮圈出来。




四、选一选。(把正确答案的序号填在括号里)(每题 2 分，共 8 分)

1. 爸爸()时去睡觉。

① 8

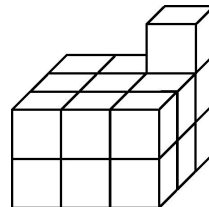
② 9

③ 10



我要去睡觉了，爸爸比我晚睡1时。

2. 要拼成一个大正方体，右面的图形至少还需要()个 。



① 8

② 9

③ 10

3. 一个一个地数，从 10 数到 20 一共数了()个数。

① 10

② 11

③ 12

4. 在 的()面。

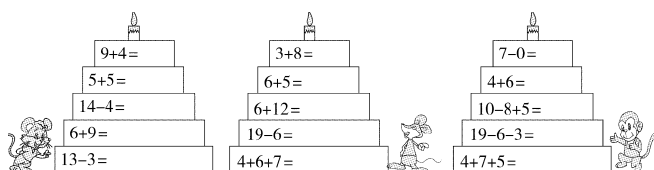
①上

②下

③前

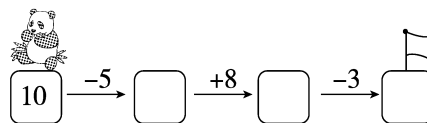
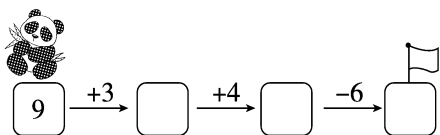
五、算一算。(共 21 分)

1. 小动物比赛上灯台。(每题 1 分，共 15 分)









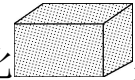
2. 算式接龙。(每空 1 分，共 6 分)




六、数一数，填一填。(每空 1 分，共 6 分)

1. 如图，有()个，有()个，有()个，有()个。



2. 和一共有()个。

3. 比少()个。



七、看图列式计算。(第 1 题 4 分，其余每题 3 分，共 10 分)

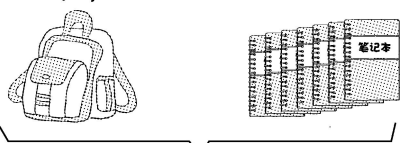
1.



$\square \bigcirc \square = \square$ $\square \bigcirc \square = \square$

$\square \bigcirc \square = \square$ $\square \bigcirc \square = \square$

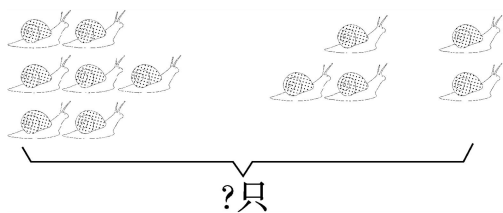
?本



2. 19本

$\square \bigcirc \square = \square$






3.


$$\square \bigcirc \square \bigcirc \square = \square$$

八、解决问题。(第4题10分，其余每题5分，共25分)

1. 小明家来了15位客人，每位客人1个




还需要准备几个



$$\square \bigcirc \square = \square$$

2. 原来有多少块西瓜?



$$\square \bigcirc \square = \square$$

3.



三筐一共有多少个萝卜?



$$\square \bigcirc \square \bigcirc \square = \square$$

4.



我跳了5下。

小乐



我跳了7下。

小林



我跳了11下。

小红

(1) 小红和小乐一共跳了多少下?

$$\square \bigcirc \square = \square$$

(2) 小林和小乐一共跳了多少下?

$$\square \bigcirc \square = \square$$





(3)请再提一个数学问题并解答。





答案

一、16 17 9 15

二、1. 19

2. 11 19

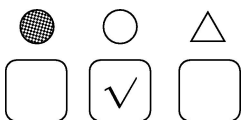
3. 9

4. (1)20 0 (2)15、20 3


(3) $20 > 15 > 12 > 7 > 6 > 0$

5. 6 2 8 7 4 9

6. $> = < <$



三、1.



2.

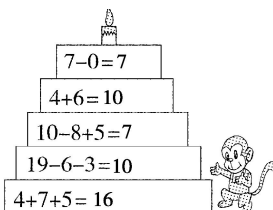
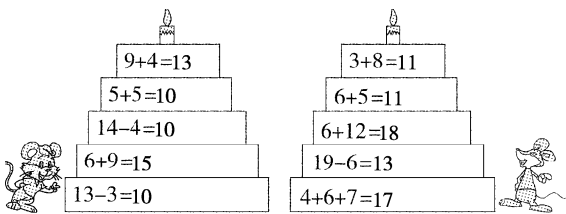
四、1. ②

2. ①【点拨】最上面一层应有9个，已经有1个，还需要8个。

3. ②【点拨】可以直接利用手指数一数，也可以列式计算。

4. ②

五、1.





2. $12\ 16\ 10\ 5\ 13\ 10$

六、1. $4\ 2\ 3\ 1$

2. 6

3. 2

七、1. $6+4=10\ 10-6=4$

$4+6=10\ 10-4=6$

2. $19-7=12\ 3.\ 7+3+2=12$

八、1. $15-5=10$ 【点拨】用减法解决。

2. $5+8=13$ 【点拨】问题是求原来有多少块西瓜，那么就要把吃的块数和还剩的块数合起来。

3. $6+4+7=17$

4. (1) $11+5=16$

(2) $7+5=12$

(3) 小林比小乐多跳了几下？

$7-5=2$ (所提问题不唯一)

