




第三单元过关检测卷

一、小猫钓鱼比赛，它们各钓了几条鱼？请填一填。(8分)





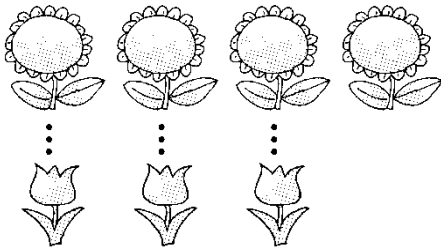




二、填一填。(每空1分，共23分)

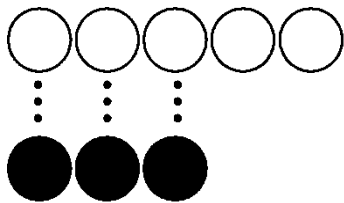
1. 比一比。

(1)



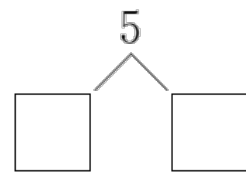
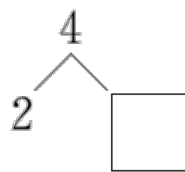
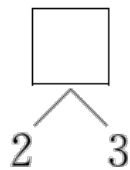
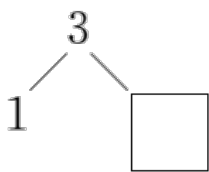
 比  少()朵。

(2)



()比()多()个。

2. 填上合适的数。





3. 按顺序填数。

(1)

5		3		1	
---	--	---	--	---	--

(2)

	1		3		5
--	---	--	---	--	---

4.



(1) 一共有()只动物, 从左数, 排第()。

(2) 从左数排第(), 从右数排第()。

(3) 从右数的第 2 只动物是()。

(4) 小羊的左边有()只动物, 右边有()只动物。

(5) 从左边数, 第 2 只动物离队了, 还剩()只动物。

三、算一算。(12 分)

$5-3=\square$ $4-4=\square$ $0+2=\square$
 $2+3=\square$ $1+1=\square$ $5-2=\square$
 $4-3=\square$ $5-0=\square$ $4+1=\square$
 $0+3=\square$ $2+2=\square$ $5-1=\square$

四、比一比。(1 题 8 分, 2 题 12 分, 共 20 分)

1. 在○里填上“>”“<”或“=”。

$3 \bigcirc 5$ $0 \bigcirc 0$ $2 \bigcirc 1$ $4 \bigcirc 5$





1 ○ 0 5 ○ 24 ○ 33 ○ 2

2. 在 里填上合适的数。

< 4 5 > 3 <

3 > = 2 < 1

五、画一画，圈一圈。(1题6分，2题4分，3题3分，共13分)

1. 在从左数的第2只动物头上画个“○”，把从右数的第2只动物圈起来。



2. 看数补图。

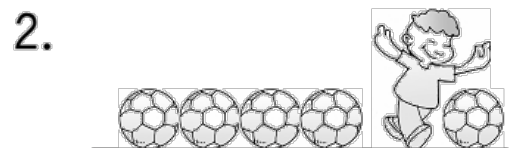
4 : ○○○ _____


5 : △△△ _____

3. 画 ，使 比 多1个。



六、看图列式计算。(每题3分，共18分)

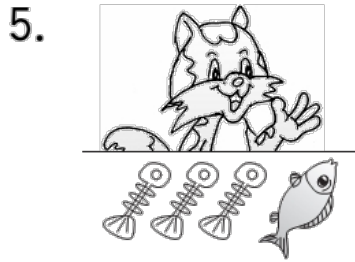




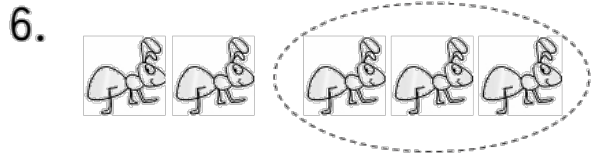
$$\square \bigcirc \square = \square$$



$$\square \bigcirc \square = \square$$




$$\square \bigcirc \square = \square$$



$$\square \bigcirc \square = \square$$

七、细心分析，填一填。(每空 2 分，共 6 分)



草丛遮住的是第()只和第()只 , 一共遮住了()只





答案

一、4 3 0 5

二、1. (1) 1 (2) 2

2. 2 5 2 1 4 (最后两个空答案不唯一)

3. (1) 4 2 0 (2) 0 2 4

4. (1) 5 5 (2) 2 4 (3) 小兔 (4) 13 (5) 4

三、2 0 2 5 2 3 1 5 5 3 4 4

四、1. < = ><>>>

2. 3 2 5 0 2 0 (前四个空答案不唯一)

五、1. 略 2. ○ △△△

3.



六、1. $3+2=5$ 2. $5-1=4$ 3. $3-3=0$ 4. $0+4=4$ 5.

$4-3=1$ 6. $5-3=2$

七、2 3 2

