



## 第十单元演练

### 一、算一算。

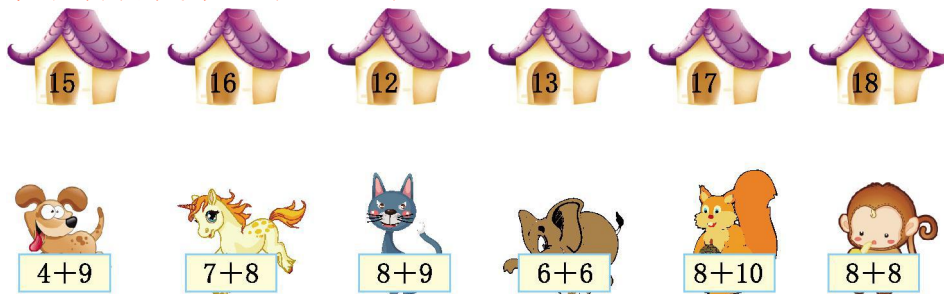
$$\begin{array}{cccccc}
 3+8= & 7+6= & 8+7= & 4+5+7= & 2+4+9= \\
 9+3= & 9+6= & 9+5= & 6+6-10= & 13-3+5= \\
 5+7= & 7+9= & 8+8= & 6-3+8= & 9-4+8=
 \end{array}$$

### 二、在○里填上“>”“<”或“=”。

$$5+7 \bigcirc 6+4 \qquad 2+9 \bigcirc 2+7 \qquad 9+3 \bigcirc 4+8$$

$$8+8 \bigcirc 9-1 \quad 6+8 \bigcirc 7+7 \quad 9+8 \bigcirc 8+9$$

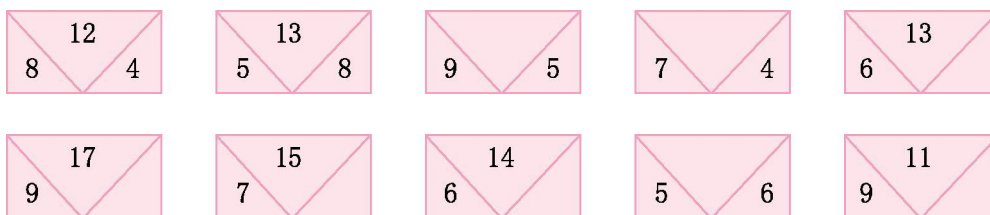
### 三、帮小动物找家。(连一连)






### 四、写出四道得数是14的算式。

$$\square + \square = \square \qquad \square + \square = \square \qquad \square + \square = \square \qquad \square + \square = \square$$

### 五、找规律, 填合适的数。




### 六、填表。

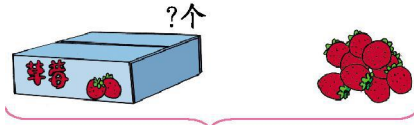
			
上午卖出	8 朵	6 朵	8 朵
下午卖出	9 朵	5 朵	7 朵
一共卖出	( ) 朵	( ) 朵	( ) 朵





### 七、看图列式计算。

1.  ?块

2.  ?个 18个

$\square \bigcirc \square = \square$        $\square \bigcirc \square = \square$

### 八、解决问题。

1. 两个班的花坛中一共有几朵花?



$\square \bigcirc \square = \square$  (朵)

2.



$\square \bigcirc \square = \square$  (个)

3. 苹果树和梨树一共有多少棵?



$\square \bigcirc \square = \square$  (棵)





## 第十单元演练

一、11 13 15 16 15 12 15 14 2 15

12 16 16 11 13

二、> > = > = =

三、提示:得数分别是 13、15、17、12、18、16,连线略。

四、答案不唯一,如:9+5=14、10+4=14、8+6=14、

7+7=14。

五、14 11 7 8 8 8 11 2

六、17 11 15

七、1. 7+6=13 2. 18-9=9

八、1. 9+9=18 2. 6+8=14

3. 7+8=15

