



## 第五单元检测

### 一、算一算。

$$\begin{array}{l} 273+302= \\ 520-340= \\ 7800-900= \\ 3800+700= \end{array} \quad \begin{array}{l} 698-212= \\ 430+500= \end{array} \quad \begin{array}{l} 853-422= \\ 940-60= \end{array}$$

### 二、在○里填上“>”“<”或“=”。

$532-268$ ○ $300$	$236+384$ ○ $600$	$205-106$ ○ $100$
$506-395$ ○ $111$	$627-348$ ○ $355$	$703-154$ ○ $569$

### 三、用竖式计算。(带\*的要验算)

$$*388+217= \quad *804-268= \quad *625-468=$$

$$156+268+574= \quad 1000-267= \quad 369+157+571=$$

### 四、在□里填上合适的数字。

$\begin{array}{r} \square \square 4 \\ - 42 \square \\ \hline 471 \end{array}$	$\begin{array}{r} \square 1 \square \\ - 6 \square 7 \\ \hline 241 \end{array}$	$\begin{array}{r} 6 \square 5 \\ + \square 7 \square \\ \hline 1008 \end{array}$	$\begin{array}{r} 8 \square 0 \\ - \square 2 \square \\ \hline 64 \end{array}$
--	---	--	--





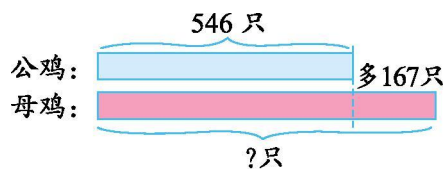
## 五、算一算, 填一填。

加数	324		142
加数	138	189	
和		329	651

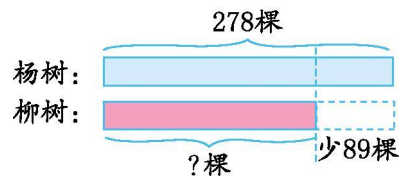
被减数	1000	704	
减数	434		286
差		125	173

## 六、看图列式计算。

1.



2.



## 七、解决问题。

1. 我国现有爬行动物 376 种, 比两栖类动物多 92 种。两栖类动物有多少种?(6 分)

2. 小军踢了多少个毽子?



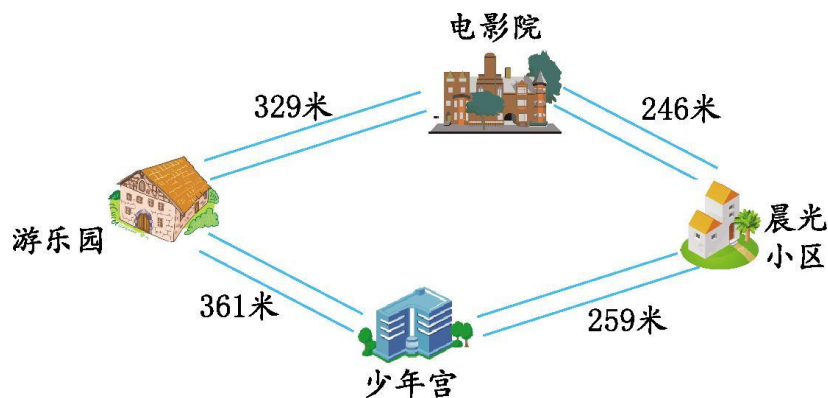


3. 学校举行为困难地区小朋友捐款的活动。三年级一共捐款435元, 四年级比三年级多捐了78元。两个年级一共捐款多少钱?

4. 下面是养鸡场某天鸡蛋产销情况记录。到傍晚时, 养鸡场存有多少个鸡蛋?

上午	产蛋	528个
	售出	480个
下午	产蛋	326个

5. 小强从游乐园到晨光小区, 请你帮助小明设计一下, 走哪条路比较近?





## 参考答案

一、 575 486 431 180 6900 930 880 4500

二、 < > < = < <

三、 605 536 157 998 733 1097 验算略

四、  $894-423=471$   $918-677=241$

$635+373=1008$   $890-826=64$

五、 462 140 509 566 579 459

六、 1.  $546+167=713$ (只)

2.  $278-89=189$ (棵)

七、 1.  $376-92=284$ (种)

2.  $300-116=184$ (个)

3.  $435+78+435=948$ (元)

4.  $528-480=48$ (个)  $48+326=374$ (个)

5.  $329+246=575$ (米)  $361+259=620$ (米)

$575 < 620$ , 走经过电影院这条路近。

