



期末检测卷

一、直接写得数。(12分)

$40+28=$ $100-20=$

$54+14=$ $45+30=$

$43-5=$ $75+20=$

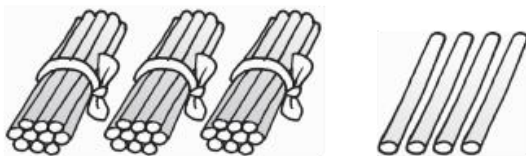
$23+7=$ $56+7=$

$67-9=$ $80-40=$

$63-40=$ $91-5=$

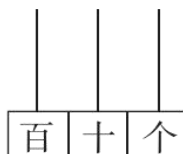
二、想一想，填一填。(2、3、6题各3分，其余每空1分，共23分)

1. 数一数，填一填。



()里面有()个十和()个一。

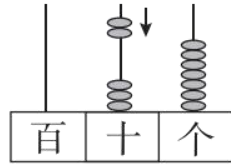
2. 画一画。



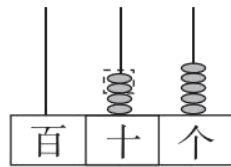
35

3. 想一想，填一填。





$$\square \bigcirc \square = \square$$




$$\square \bigcirc \square = \square$$

4. 100 里面有()个十。
5. 个位上是 7，十位上是 6 的两位数是()；82 是由()个十和()个一组成的。
- 6.



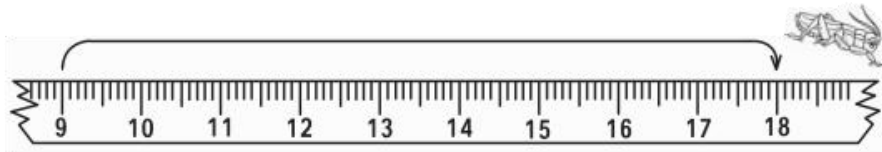
玩具熊：()元()角



书包：()元()角

7. 买一把尺子需要 8 角钱，小亮付了 5 元钱，应找回()钱。
8. 跳了()厘米。





9. 在()里填上“米”或“厘米”。

铅笔长约 17()

课桌高约 70()

学校教学楼高约 10()

10. 一棵小树高 90 厘米, 再长 10 厘米就是 1()。

11. 从 1 写到 20, 一共能写()个两位数。

三、 比一比, 填一填, 圈一圈。(1 题 4 分, 其余每题 6 分, 共 16 分)

1. 在 里填上“>”“<”或“=”。

$$50 + 13 \quad \text{○} \quad 31 + 50$$

$$78 - 70 \quad \text{○} \quad 87 - 70$$

$$100 \text{ 厘米} \quad \text{○} \quad 1 \text{ 米}$$

$$9 \text{ 分} \quad \text{○} \quad 1 \text{ 元 } 2 \text{ 角}$$

2. 找规律填数。

(1) 75, 77, 79, _____, _____。

(2) 96, 86, 76, _____, _____。

(3) ○△□○△□○△□ _____





3. 圈出合适的数字。

(1) 小红和小娟进行跳绳比赛, 小红跳了 40 下, 小娟跳得比小红多得多, 小娟可能跳了()下。

(2) 钟面上显示的时间是

()。



四、用竖式计算。(12分)

$49 + 37 =$

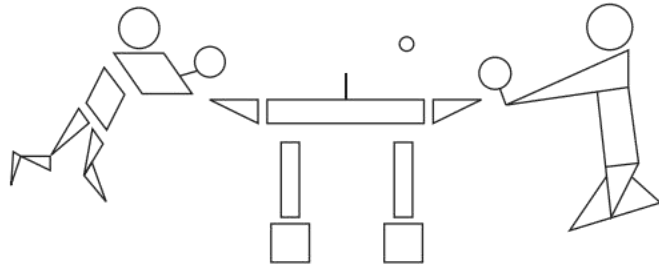
$76 - 58 =$

$91 - 20 - 39 =$

$45 - 17 + 36 =$

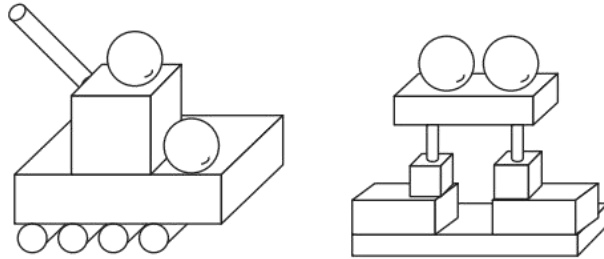
五、乒乓小健将。(每空 2 分, 共 10 分)



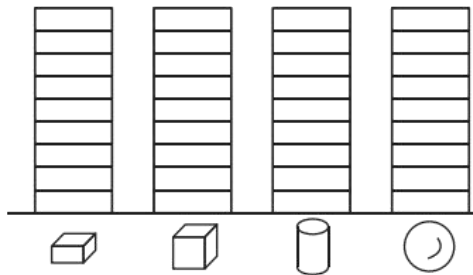


图形					
个数	() 个	() 个	() 个	() 个	() 个

六、小小统计员。(1题4分, 其余每空1分, 共11分)



1. 完成下面统计图。



2. 根据上面的统计图完成下面的表格。

()个	()个	()个	()个



3. 回答下列问题。

(1)个数最多的图形是()。






(2)  比  多()个。

(3)  和  一共有()个。

七、生活中的数学。(每题 8 分, 共 16 分)

1. 一本书一共有 98 页。



(1) 小林看了多少页?

$$\square \bigcirc \square = \square \text{ (页)}$$

(2) 小红还有多少页没有看?

$$\square \bigcirc \square = \square \text{ (页)}$$

2. 布置教室用了 48 只纸鹤, 还剩多少只纸鹤?



$$\square \bigcirc \square \bigcirc \square = \square \text{ (只)}$$



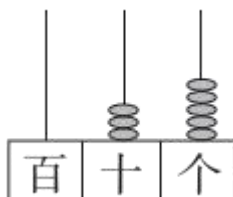


答案

一、68 80 68 75 38 95 30 63 58 40 23 86

二、1. 34 3 4

2.



3. $37+20=57$ $45-20=25$

4. 10

5. 67 8 2

6. 12元5角 55元5角

7. 4元2角

8. 9

9. 厘米 厘米 米

10. 米

11. 11

三、1. $<$ $<$ $=$ $<$

2. (1)81 83 (2)66 56 (3)○ △ □

3. (1)

50

42

97

(2)

快到6时

6时刚过

1时半





四、 $49 + 37 = 86$

$$\begin{array}{r} 49 \\ + 37 \\ \hline 86 \end{array}$$

$76 - 58 = 18$

$$\begin{array}{r} 76 \\ - 58 \\ \hline 18 \end{array}$$

$91 - 20 - 39 = 32$

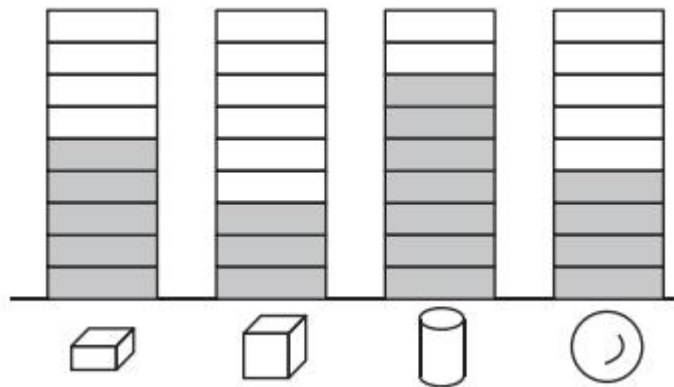
$$\begin{array}{r} 91 \\ - 20 \\ \hline 71 \\ - 39 \\ \hline 32 \end{array}$$

$45 - 17 + 36 = 64$

$$\begin{array}{r} 45 \\ - 17 \\ \hline 28 \\ + 36 \\ \hline 64 \end{array}$$

五、 $4 \quad 2 \quad 5 \quad 11 \quad 2$

六、 1.



2. $3 \quad 5 \quad 7 \quad 4$

3. (1)圆柱 (2)1 (3)10

七、 1. (1) $39 + 12 = 51$ (页) (2) $98 - 39 = 59$ (页)

2. $60 + 24 - 48 = 36$ (只)

