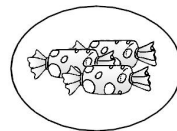


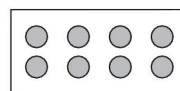
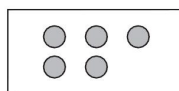
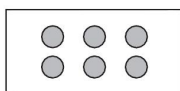
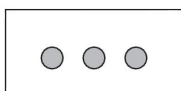

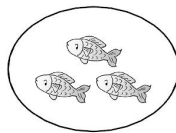
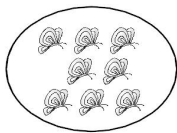
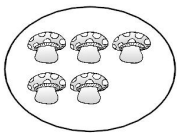





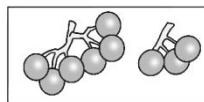

第1单元过关检测卷

一、连一连。(每题8分，共16分)

1. 把同样多的连起来。



2. 把图片和对应的数连起来。



3

7

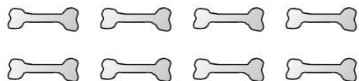
9

8

二、圈一圈。(6分)



我想吃8根 。



我想吃6个 。




我想吃3条 。



三、画一画。(1题9分，5题6分，其余每题3分，共24分)

1. 看数接着画。





2. 画△与☆同样多。




3. 画○比□多。





4. 画□比△少。




5. 哪一堆正合适？画“√”。

每只鸭子 1 条 。

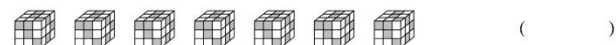


每人 1 杯 。




四、比一比。(1 题 6 分，2 题 3 分，共 9 分)

1. 在少的后面画“√”。






2. 在最多的下面画“√”。



()




()



()

五、填一填。(1题7分，4题5分，5题4分，其余每题8分，共32分)

1. 按规律填数。



2. 在○里填上“>”“<”或“=”。

$7 \bigcirc 5$

$4 \bigcirc 9$

$2 \bigcirc 5$

$10 \bigcirc 9$

$3 \bigcirc 0$

$2 \bigcirc 2$

$4 \bigcirc 3$

$8 \bigcirc 6$

3. 在□里填上合适的数。

$\square < 6$

$8 < \square$

$7 > \square$

$\square < 4$

$2 > \square$

$\square = 0$

$7 < \square$

$9 > \square$

4. 排一排。



() > () > () > () > ()

5. 一共有()只动物，如果小马排第1，大象排第()。



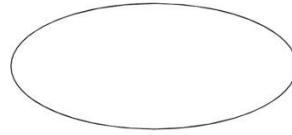
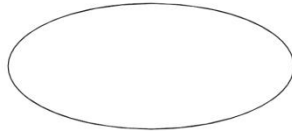
六、分一分。(7分)





大于4的数

小于10大于5的数



七、猜一猜，贝贝做了多少朵花？(6分)

我做了8朵花。



文文

我做了4朵花。



欢欢

我做的比欢欢多，
比文文少。

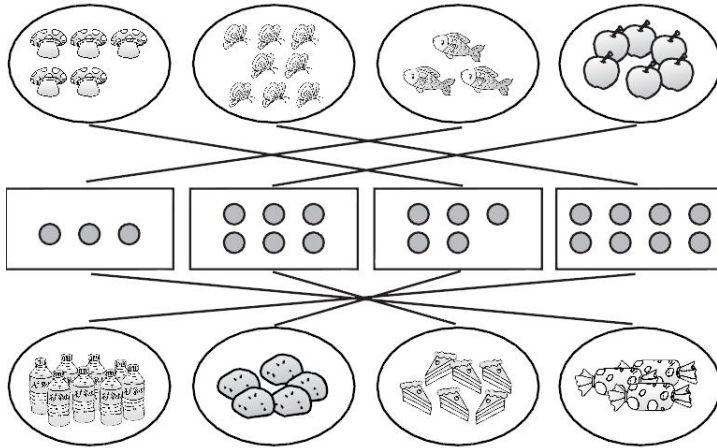


贝贝

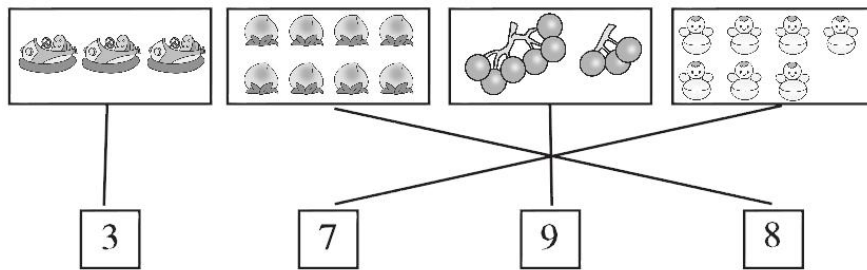




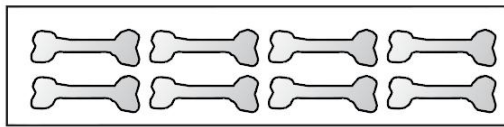
答案



一、1.



2.



二、

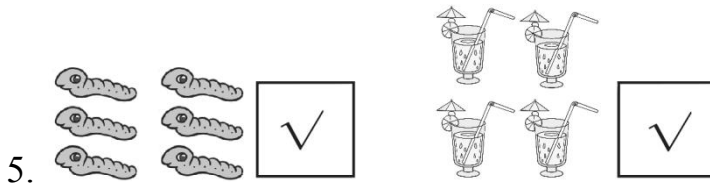
三、1. △△△ ○○○ □□□□

2. △△△△△

3. ○○○○○○○(答案不唯一)

4. □□□□□(答案不唯一)





四、1.(1)在房子后面画“√”

(2)在桃子后面画“√”

2.在兔子下面画“√”

五、1.5 8 9 8 6 5 4

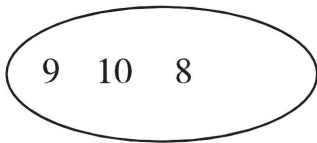
2.> < < > > = > >

3.5 9 6 2 1 0 9 3(除第6个空外，其他空答案不唯一)

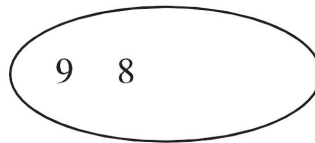
4.10 9 6 3 0

5.9 7

大于4的数



小于10大于5的数



六、

七、贝贝做了5朵花、6朵花或7朵花。

