

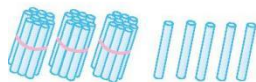


期末检测卷

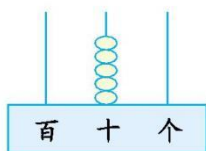
(时间:90 分钟 分数:_____)

一、填一填。(18 分)

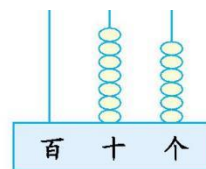
1. 看图写数。



()



()

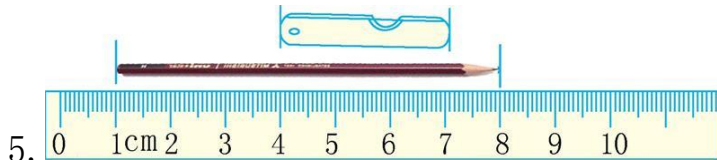


()

2. 78 里有()个十和()个一。

3. 52 前面的第三个数是();69 后面的第三个数是()。

4. 一个数个位上的数字是 3, 十位上的数字比个位上的数字多 4, 这个数是()。



5. 铅笔长()厘米;小刀长()厘米。

6. 56 比 30 多(), 8 比 73 小()。

7. 在括号里填上合适的数。

8 元=()角 35 角=()元()角

40 分=()角 7 元 3 角=()角

8. 92 厘米加()厘米就是 1 米。

二、连一连。(4 分)





8 时刚过

快 8 时

8 时

7 时半

三、括号里应填多少?(6 分)

$8+46=(\quad)+40$

$54+7=50+(\quad)$

$85-10=(\quad)+67$

$25+60=(\quad)-9$

$29+3=(\quad)+20$

$54+7=(\quad)+30$

四、算一算。(24 分)

1. 直接写出得数。(10 分)

$44+8=$

$90-7=$

$16-8=$

$56-7=$

$85-9=$

$30+50=$

$44+5=$

$28+7=$

$82-50=$

$54+6=$

2. 用竖式计算。(14 分)

$44+29=$

$65+25=$

$83-38=$

$90-56=$

$36+29+16=$


$35+55-76=$

$71-35-26=$

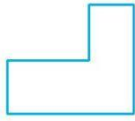




五、下面的图形中各有几条线段?(8分)



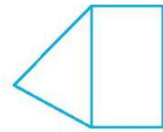
()条



()条

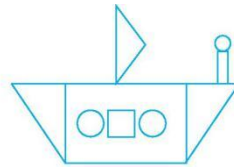
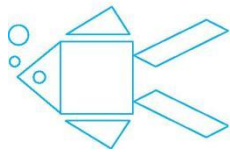


()条

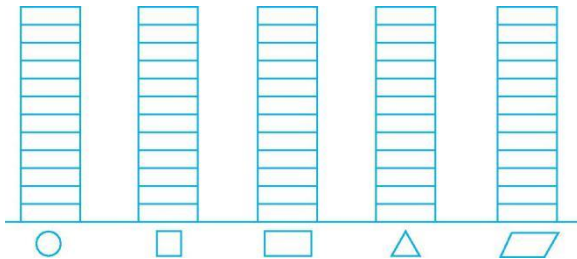


()条

六、做一做。(10分)



1. 完成下面的统计图。(5分)




2. 填写下面的统计表。(5分)

图形	○	□	▭	△	▱
个数					

七、解决问题。(30分)

1. 一共有多少只蚂蚁爬山?(6分)





2. 还剩几个?(6分)



3. (12分)



6元



8角



5元



6角



1元2角

(1) 买一支自动笔和一支铅笔一共要花多少钱?

(2) 一个魔方比一副三角板贵多少钱?

(3) 你还能提出什么数学问题?解答出来。

4. 还剩下多少根?(6分)





期末检测卷

一、1. 35 50 76 2. 7 8 3. 49 72 4. 73 5. 7 3

6. 26 65 7. 80 3 5 4 73 8. 8

二、钟面上的时刻分别是 8 时、8 时刚过、快 8 时、7 时半 连线略

三、14 11 8 94 12 31

四、1. 52 83 8 49 76 80 49 35 32 60

2. 73 90 45 34 81 14 10

五、5 6 4 6

六、1. 提示: ○涂 6 格, □涂 2 格, □涂 2 格, △涂 6 格, ▭涂 2 格。

2. 6 2 2 6 2

七、1. $56+5=61$ (只) 2. $32-25=7$ (个)

3. (1) 1 元 2 角+6 角=1 元 8 角

(2) 6 元-8 角=5 元 2 角

(3) 答案不唯一, 如: 买一副三角板和一支铅笔需要多少钱?

8 角+6 角=1 元 4 角

4. $80-34-18=28$ (根)

