



期末检测卷

(60 分钟 满分 100)

一、填空。(每题 2 分共 20 分)

1. 6 个十和 7 个一组成的数是 ()。

2. 在 98、52、3、19、0、68、57 这七个数中, 个位上的数字相同的数是 () 和 ()。

3. 在 9、36、41、100、38、99 中, 比 38 小得多的数是 ()。

4. 最大的两位数和最小的两位数的差是 ()。

5. 10 个一是 ()。

6. 10 个十是 ()。

7. 48 里面有 () 个十和 () 个一。

8. 写出与 39 相邻的两个数 ()、()。

9. $2m = () \text{ cm}$

10. 早晨, 你面向太阳站立, 你的前面是东方, 你的左面是 ()。

二、比较。(每空 1 共 8 分)

1. 在 () 里填上 “>” “<” 或 “=”。

$28 () 27$

$81 () 91$

$36 + 4 () 40$

$80 () 82 - 7$

2. 在 () 里填上 “>”、“<” 或 “=”。

900 分 () 8 元

30 厘米 () 4 米

40 厘米 () 75 厘米

1 米 () 50 厘米

三、在 () 里填上合适的数。(每空 1 分共 4 分)

$4 + () = 14$

$30 - () = 10$

$60 + () = 68$

$5 + () = 25$

四、找规律, 在 “____” 上填写数或图形:(每空 1 分共 6 分)

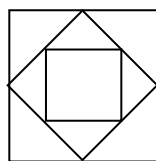
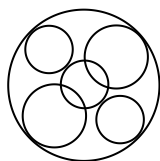
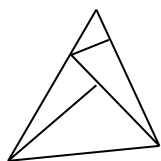
1. 1, 4, 7, 10, _____, _____, 19, _____。

2. $\bigcirc \triangle \square \bigcirc \triangle \square \bigcirc \triangle \square$ _____ _____ _____。





五、数一数填空。(每空 2 分共 6 分)



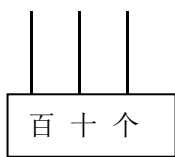
() 个三角形 () 个圆 () 个正方形

六、写出下面各个钟面上的时刻。(每空 2 分共 6 分)

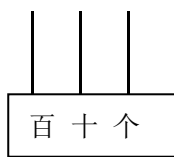


___ 时 ___ 时半 ___ 时刚过

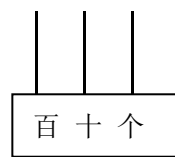
七、画一画：在计数器图中画上珠子，(珠子用○表示) 把图下面的数表示出来。(每空 2 分共 6 分)



21



13



100


八、直接写得数：(每题 0.5 分共共 8 分)


$20+30=$	$50+10=$	$50-30=$	$90-40=$
$50+3=$	$90+5=$	$58-8=$	$89-9=$
$45+3=$	$64+3=$	$13+30=$	$45+30=$
$74+9=$	$56+7=$	$86-50=$	$61-4=$

九、列竖式计算。(每题 3 分共 9 分)

$50-38=$ $80-11-28=$ $73-(18+26)=$

十、在方格纸上画一个正方形和一个平行四边形。(共 4 分)





十一、应用题。(1、2、3 每题 4 分，4 题 6 分共 18 分)

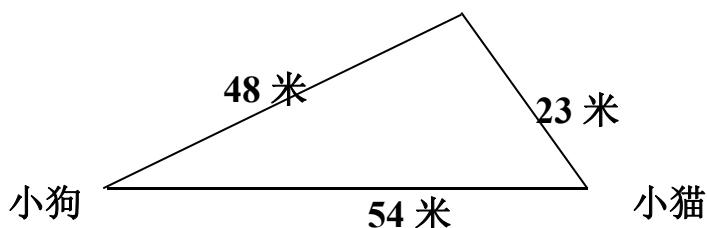
1. 学校图书馆有一些故事书，借出一半后，还剩 30 本。学校原来有故事书多少本？

2. 学校有 100 张彩色纸，其中用 25 张做小花，用 32 张做小旗，其余的用来扎彩球，扎彩球要用多少张彩色纸？

3. 河里有 80 只鸭子，第一次游走 27 只，第二次游走 35 只。两次共游走多少只？

4. (1) 小兔和小猫谁离小狗近？近多少米？

(2) 小狗去找小猫，再去找小兔，一共要走多少米？





十二、统计：光明小学一年级同学做好事件数如下表：（共6分）

班 级	一	二	三	四	五
件数（件）	12	20	10	8	17

在下面图中画“√”，把表格里的数表示出来。

