



## 第三单元测试卷

### 一、填空题。

1. 在□里填数。

$9 \times \square = 36$

$8 \times \square = 48$

$\square \times 7 = 56$

$4 \times \square = 24$

$5 \times \square = 45$

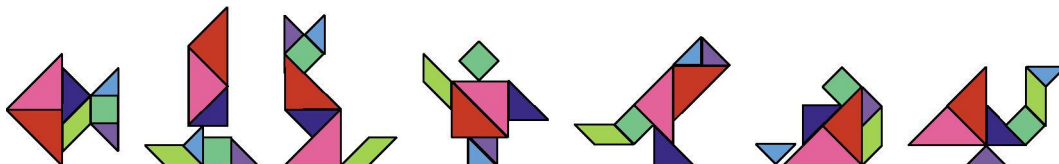
$\square \times 8 = 24$

$6 \times \square = 30$

$7 \times \square = 49$

$\square \times 8 = 16$

2. 看图填空。



|             |   |   |   |   |   |   |   |
|-------------|---|---|---|---|---|---|---|
| 图案个数<br>(个) | 1 | 2 | 3 | 4 | 5 | 6 | 7 |
| 拼板块数<br>(块) |   |   |   |   |   |   |   |

3. 在○里填上“>”“<”或“=”。

$9 \times 2 \bigcirc 3 \times 6$

$1+2+3 \bigcirc 1 \times 2 \times 3$

$5 \times 9 \bigcirc 45$

$9 \times 6 \bigcirc 8 \times 7$

$4 \times 6 \bigcirc 3 \times 8$

$5 \times 8 \bigcirc 42$

4. 在括号里填上合适的数。

(1) 5个8比6个8少( ), 比3个8多( )。

(2) 6个9比5个9多( ), 比7个9少( )。

(3) 5个7比7个7少( ), 比2个7多( )。





(4) 2014年1月第一个星期一是6号,第二个星期一是( )号,20号是第( )个星期一,26号是星期( )。

(5)  $5+6+7+8+9=( )\times( )$       $7+7+8+7+6=( )\times( )$

## 二、直接写出得数。

$4\times 8+8=$

$8\times 1+8=$

$8\times 6+8=$

$5\times 9=$

$6\times 7=$

$4\times 9=$

$56+8=$

$6\times 7-7=$

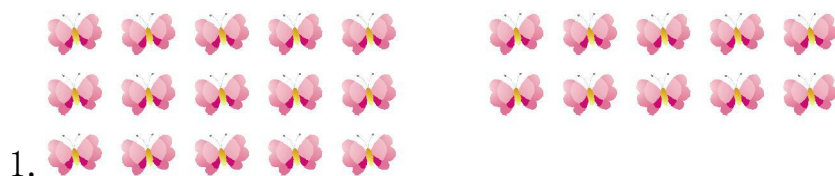
$5\times 9+5=$

$90-70=$



## 三、请你把花插到相应的花瓶里,连一连。



## 四、看图列式。



$\square\times\square=\square$

2. 每只小兔吃 7 个 , 三只小兔吃多少个  ?

$\square\times\square=\square$       $\square\times\square=\square$



$\square\times\square=\square$       $\square\times\square=\square$





4. 买 5 个  要多少钱？



$$\square \times \square = \square \text{ (角)}$$

5. 一共有多少个杯子？



$$\square \times \square = \square \text{ (个)}$$

### 五、解决问题。

1. 停车场有 8 辆卡车, 7 个这样的停车场有多少辆卡车？



2. 元旦要到了, 二(1)班的小朋友在花园帮老师摆花, 他们按要求摆了 4 行, 每行摆 9 盆, 一共摆了多少盆花？





3. 7 个小矮人决定到大街上去做好事。



4. 一把椅子有 3 条腿, 有 25 个椅子腿, 10 个椅子面。工人师傅想做 8 把椅子, 够吗?



5. 坐过山车和动力火车的各有多少人?



6. 小朋友围成一个正方形做游戏, 每边站 5 人, 最少有几人?





## 第三单元测试卷参考答案

一、1. 4 6 8 6 9 3 5 7 2

2. 7 14 21 28 35 42 49

3. = = = < = <

4. (1)8 16 (2)9 9 (3)14 21

(4)13 三日 (5) $7\times 5$   $7\times 5$

二、40 16 56 45 42 36 64 35 50 20

三、略

四、1.  $5\times 5=25$

2.  $7\times 3=21$   $3\times 7=21$

3.  $2\times 9=18$   $9\times 2=18$

4.  $5\times 8=40$

5.  $4\times 8=32$

五、1.  $7\times 8=56$ (辆)

2.  $9\times 4=36$ (盆)

3.  $7\times 7=49$ (件)

4.  $8<10$   $8\times 3=24<25$  够

5. 过山车: $2\times 6=12$ (人)

动力火车: $3\times 4=12$ (人)

6.  $5-1=4$ (人)  $4\times 4=16$ (人)

