



## 西安市名校期末测试卷

一、填一填。(每空 1 分, 共 25 分)

1. 算式  $54 \div 6 = 9$  读作( ), 其中 54 是( )数, 6 是( )数, 计算时用到的乘法口诀是( )。

2.  $6 + 6 + 6 + 6 = ( ) \times ( )$        $3 + 6 + 9 = 3 \times ( )$

3. 比 48 少 19 的数是( ), 48 比( )少 19。

4. 在括号里填上合适的长度单位。

一张床宽约 2( )。 小红身高大约是 140( )。

5. 一本书 26 元, 笑笑手上全是 5 元的人民币, 她至少要付( )张。

6. 一个星期有( )天, 9 个星期有( )天。

7. 找规律, 填一填。

(1) 9, 18, 27, ( ), ( )。 (2) 45, ( ), 25, ( ), 5。

8. 在  $\bigcirc$  里填上“>”“<”或“=”。

8 元  $\bigcirc$  7 元 2 角      35 厘米 + 65 厘米  $\bigcirc$  1 米       $45 \div 9 \bigcirc 54 \div 9$

9. 括号里最大能填几?

( )  $\times 8 < 65$        $47 > 7 \times ( )$        $5 \times ( ) < 28$

10. 一根网线长 100 米, 第一次剪去 25 米, 第二次剪去 30 米, 这根网线短了( )米。

二、辨一辨。(对的在括号里画“√”, 错的画“×”)(每题 1 分, 共 5 分)

1. 8 个 3 的和与 3 个 8 的和一样大。 ( )

2. 把 12 个梨平均分给 4 个人, 每个人一定能分到 3 个。 ( )

3. 二十几加五十几, 得数一定是七十几。 ( )





4. 3个4相加写成乘法算式是  $3 \times 4$ 。 ( )

5.  $3+3+3+6=3 \times 6$ 。 ( )

三、选一选。(把正确答案的序号填在括号里)(每题2分, 共10分)

1.  $7 \times 6 = 42$  表示( )。

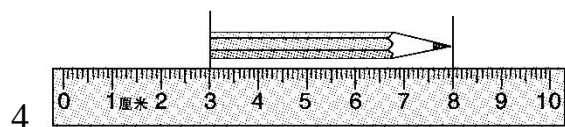
- ① 7与6相加的和 ② 7个6相加的和 ③  $7+7+7+7+7+7+7$

2. 除数和商都是5, 被除数是( )。

- ① 1 ② 5 ③ 25

3. 有20块糖, 明明和三个小伙伴平均分, 每人分得( )块。

- ① 6 ② 5 ③ 2



铅笔长( )厘米。

- ① 5 ② 8 ③ 3

5. 把一根绳子对折, 再对折后的长度是8厘米, 这根绳子长( )厘米。

- ① 16 ② 24 ③ 32

四、计算挑战。(共18分)

1. 看谁算得又对又快。(每题1分, 共10分)

$4 \times 8 =$        $9 \times 2 =$        $1 \times 7 =$        $35 \div 5 =$        $28 \div 7 =$

$5 - 5 =$        $30 \div 5 =$        $26 + 37 =$        $77 - 25 =$        $6 \times 6 =$





2. 用竖式计算。(每题 2 分，共 8 分)

$$46+25+29= \quad 100-44+25= \quad 90-35-25= \quad 58+38-19=$$

五、按要求解决。(每题 3 分，共 9 分)

1. 画一条 5 厘米长的线。

2. ○的个数是△的 3 倍，请把○画在下面的横线上。

△△△

\_\_\_\_\_

3. 根据下面的乘法口诀，按照要求写算式。

口诀：三四十二

加法算式：(                    ) (                    )

乘法算式：(                    ) (                    )

除法算式：(                    ) (                    )


六、走进生活，解决问题。(1 题 6 分，2 题 7 分，其余每题 10 分，共 33 分)

1. 小明一家人吃饭，一共需要多少根筷子？





2. 有 30 位乘客，4 辆车坐得下吗？




3. 玩具之家。



36元



4元



20元

(1) 篮球的价格是毽子的几倍？

(2) 买 6 个毽子和一副球拍，需要多少元？





4. 一本故事书有 60 页。



(1)小明每天看 8 页，3 天看多少页？

(2)余下的计划 6 天看完，平均每天看多少页？





## 答案

一、1.54 除以 6 等于 9 被除 除 六九五十四

2. 4 6 6

3. 29 67

4. 米 厘米

5. 6 6.7 63

7. (1)36 45 (2)35 15

8. > = <

9. 8 6 5

10. 55【点拨】不要认为求这根网线短了多少米，就用减法计算。“100-25-30”求的是网线还剩下多少米，求这根网线短了多少米也就是求一共剪去多少米。

二、1.√ 2.√ 3.× 4.√ 5.×

三、1.② 2.③ 3.② 4.① 5.③

四、1.32 18 7 7 4 0 6 63 52 36

2.  $46 + 25 + 29 = 100$      $100 - 44 + 25 = 81$

$$\begin{array}{r} 46 \\ + 25 \\ \hline 71 \\ + 29 \\ \hline 100 \end{array}$$

$$\begin{array}{r} 100 \\ - 44 \\ \hline 56 \\ + 25 \\ \hline 81 \end{array}$$

$90 - 35 - 25 = 30$      $58 + 38 - 19 = 77$

$$\begin{array}{r} 90 \\ - 35 \\ \hline 55 \\ - 25 \\ \hline 30 \end{array}$$

$$\begin{array}{r} 58 \\ + 38 \\ \hline 96 \\ - 19 \\ \hline 77 \end{array}$$





五、1.  $\text{┌────────── 5 厘米 ─────────┐}$

2. ○○○○○○○○○○

3.  $4+4+4=12$   $3+3+3+3=12$

$3\times 4=12$   $4\times 3=12$

$12\div 3=4$   $12\div 4=3$

六、1.  $6\times 2=12$ (根)

答：一共需要 12 根筷子。

2.  $4\times 7=28$ (位)  $28<30$

答：4 辆车坐不下。

3. (1)  $36\div 4=9$

答：篮球的价格是毽子的 9 倍。

(2)  $4\times 6=24$ (元)

$24+20=44$ (元)

答：需要 44 元。

4. (1)  $3\times 8=24$ (页)

答：3 天看 24 页。

(2)  $60-24=36$ (页)

$36\div 6=6$ (页)

答：平均每天看 6 页。

**【点拨】**先要求出余下的有多少页，再用余下的页数 $\div 6$ ，求出平均每天看的页数。

