

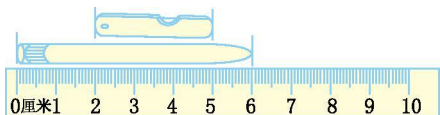


第五单元测试卷

一、填一填。

1. 测量铅笔的长度用()作单位比较合适;测量床的长度用()作单位比较合适。

2.



油画棒长()厘米。

3. 1 米=()厘米 300 厘米=()米

30 厘米-6 厘米=()厘米 45 厘米+20 厘米=()厘米

4. 甜甜身高 90 厘米,再长()厘米,她的身高是 1 米。


二、辨一辨。

1. 下图中哪些图形是线段?在下面画“ ”。(5 分)




() () () () ()


2. 下面的图形中各有几条线段?(8 分)



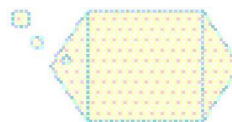
()条



()条



()条



()条

三、在括号里填上合适的长度单位。



亮亮身高 120()。



教室长 10()。



杯子高 10()。



黄瓜长 20()。



课桌高 80()。



跳绳大约长 3()。



床长 2()。



楼高 30()。





四、在○里填上“>”“<”或“=”。

1 米○90 厘米

2 米○2 厘米

100 厘米○1 米

20 厘米○1 米-80 厘米

50 厘米○5 米

1 米 80 厘米○2 米

五、做一做。

1. 画一条长 3 厘米的线段。

2. 画一条比 9 厘米短 4 厘米的线段。

3. 量出下面线段的长度。

() 厘米

六、解决问题。

1. 你知道蚯蚓的身体有多长吗?

我钻出地面的身体长15厘米，地下还藏着4厘米。



2. 选一选,填一填。

我还不到1米呢。

我比丫丫矮一点。



妞妞



小军



丫丫

小树最高呀!






95 厘米 | 1 米 25 厘米 | 1 米 30 厘米 | 3 米

(1) 妞妞的身高是(), 小军的身高是(), 丫丫的身高是(), 小树的高度是()。

(2) 把小树、丫丫、妞妞、小军的身高按从矮到高的顺序排一排。

3. 有一根绳子, 剪去 30 厘米后, 还剩 70 厘米。这根绳子原来长多少米?(6 分)

4. 小动物赛跑。



(1) 蜗牛离终点还有多少厘米?

(2) 蚂蚁比小虫子多爬多少厘米?





第五单元测试卷答案

一、 1. 厘米 米

2. 6 3

3. 100 3 24 65

4. 10

二、 1. () () () () ()

2. 5 1 10 8

三、 厘米 米 厘米 厘米 厘米 米 米 米

四、 > > = = < <

五、 1. 略

2. 提示:画一条长 5 厘米的线段,画图略。

3. 3

六、 1. $15+4=19$ (厘米)

2. (1)95 厘米 1 米 25 厘米 1 米 30 厘米 3 米

(2)95 厘米<1 米 25 厘米<1 米 30 厘米<3 米

3. $30+70=100$ (厘米) 100 厘米=1 米

4. (1)1 米=100 厘米 $100-80=20$ (厘米)

(2) $90-70=20$ (厘米)

