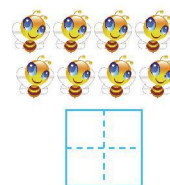
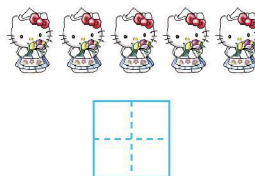
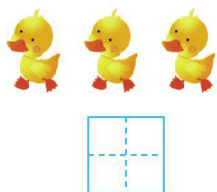
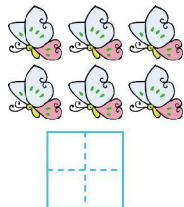




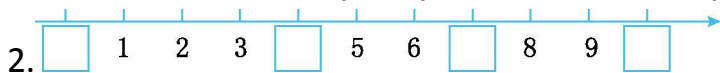
第五单元测试卷

一、看图写数。



二、填一填。

1. 7 和 9 中间的数是(), 比 1 还小的数是()。

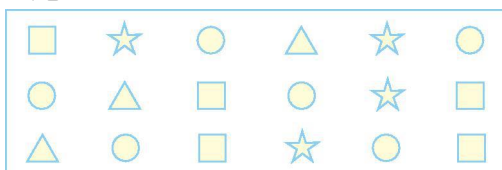


3. 分类, 填数。

1 4 9 5 0 7 6 8 10

比 5 小的数有 _____, 比 5 大的数有 _____。

三、数一数, 圈一圈, 比一比。



() 最多, () 最少。

☆ 比 □ (多, 少) 4 ○ 5

● 比 △ (多, 少) 6 ○ 3

四、在 ○ 内填上 “>” “<” 或 “=”。

7 ○ 5

4 ○ 8

3 ○ 3

10 ○ 7

3 ○ 4

10 ○ 9 4 ○ 4 8 ○ 3 1 ○ 10 0 ○ 9





五、□里可以填几？

$\square = 6$

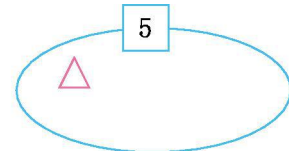
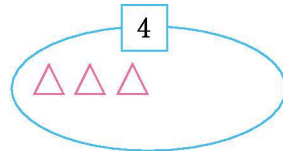
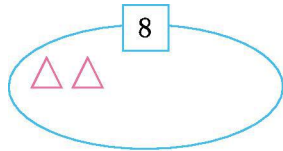
$\square > 6$

$7 < \square$

$5 < \square$

$4 > \square$

六、看数继续画。



七、看图填一填。

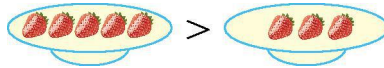


(1)一共有()个水果,其中有()个,有()个.

(2)从左起第()个、第()个、第()个是.

(3)的左边第一个水果是(),右边第一个水果是()。

2.想一想,如何使“>”变成“=”。



3.数一数,填一填。



一共有()只小动物,从左数,排第(),排第()。





第五单元测试卷答案

一、6 3 5 8

二、1.8 0 2.0 4 7 10

三、1、4、0 9、7、6、8、10

三、○ △ 少 < 多 >

四、> < = > < > = > < <

五、6 7、8、9 或 10 8、9 或 10 6~10 中的任意一个数 0、1、2 或 3

六、△△△△△△ △ △△△△

七、1. (1)10 3 6 (2)1 2 6 (3)梨 苹果

2. 从左边拿一个草莓放到右边。 3.7 3 7

