



沈阳市名校期末测试卷

一、填一填。(每空 1 分, 共 34 分)



看上图, 摆一条金鱼需要()根火柴棒, 有()条金鱼, 一共用了 $\square \times \square = \square$ (根)火柴棒。



()元()角

()元

3. 在括号里填写合适的单位。

(1)小明的身高约是 146()。

(2)买一本故事书需要 13()。

(3)房间高约 3()。

(4)黑板长约 3()。

4. $3 \times 9 \xrightarrow{-7} \square \xrightarrow{\div 5} \square \xrightarrow{+12} \square \xrightarrow{\div 8} \square$

5. 找规律, 填一填。

63, 56, (), (), 35, ()。

6. 6 米=()厘米

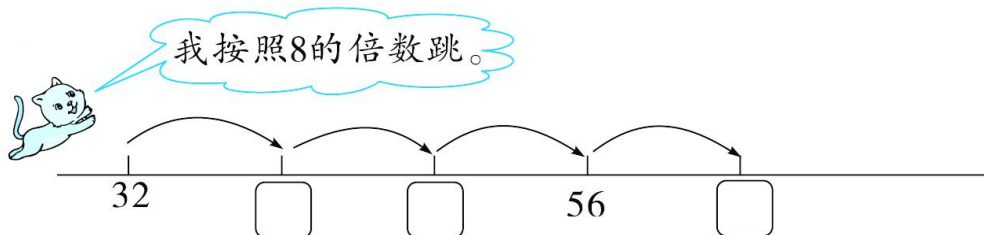
1 元 7 角=()角




27 厘米+73 厘米=()米 1 角=8 分+()分





7.



8. ()张  + ()张  = 1张 

9. 在○里填上“>”“<”或“=”。

$42 \bigcirc 8 \times 5$ 1米 \bigcirc 88厘米 $81 \div 9 \bigcirc 3 \times 3$

$7 \times 8 \bigcirc 7 \times 7$ 9角5分 \bigcirc 1元 $63 \div 9 \bigcirc 18 \div 2$

二、选一选。(把正确答案的序号填在括号里)(每题2分，共12分)

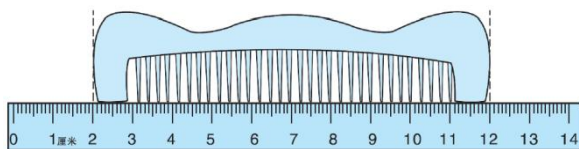
1. 汉字“日”的笔画是4笔，汉字“晶”的笔画是()笔。

- ① 8 ② 10 ③ 12

2. 西游记里，唐僧师徒经历“()九八十一难”，才取到真经。

- ① 二 ② 七 ③ 九

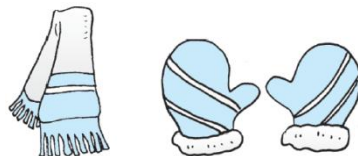
3. 右图中这把梳子的长度是()。



- ① 12厘米 ② 10厘米 ③ 10米

4. 围巾的价格是手套的()倍。

- ① 4 ② 6 ③ 24



5. 米和厘米都是用来表示()的单位。

- ① 时间 ② 长度 ③ 人民币

32元

8元

6. 与 $8+8+8+4$ 的结果相同的是()。

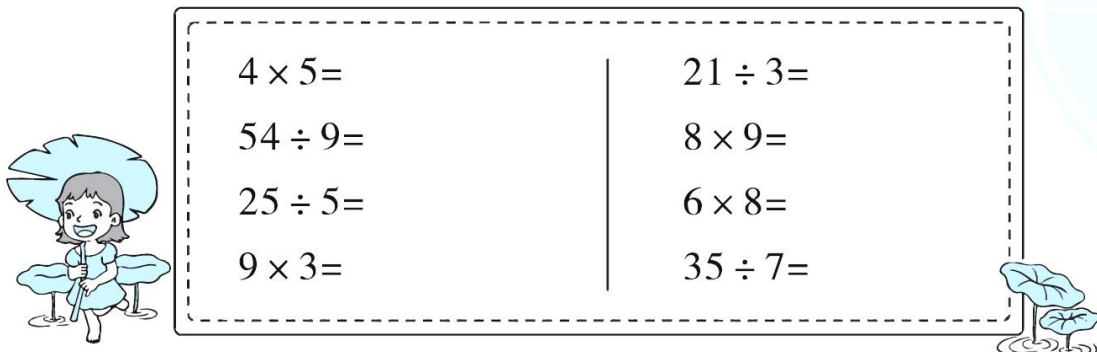
- ① 8×3 ② 8×4 ③ 4×7





三、计算挑战。(共 14 分)

1. 看谁算得又对又快。(每题 1 分, 共 8 分)



$4 \times 5 =$	$21 \div 3 =$
$54 \div 9 =$	$8 \times 9 =$
$25 \div 5 =$	$6 \times 8 =$
$9 \times 3 =$	$35 \div 7 =$

2. 用竖式计算。(每题 2 分, 共 6 分)

$$39 + 14 + 36 = \quad 85 - 23 - 17 = \quad 69 + 28 - 38 =$$

四、动手操作, 开发大脑。(共 10 分)

1. 圈一圈, 填一填。(3 分)



每 4 只分成一组, 可以分成()组。


$$\square \div \square = \square (\quad)$$

2. 画一条比 4 厘米长, 比 7 厘米短的线, 并标出长度。(2 分)

3. ○的个数是△的 2 倍, 请你接着画○。(2 分)

△△△△ ○ _____






4. $7 \times 6 = ?$ 圈一圈，填一填。(3分)

$$7 \times 6 = 7 \times \square + 7 \times \square$$

五、走进生活，解决问题。(1题5分，2题9分，3题16分，共30分)

1. 还剩几个停车位？



2.

我采了这样6筐。

一共采了多少个蘑菇？

$$\square \bigcirc \square = \square \quad (\quad)$$

24个小朋友做游戏。

(1) 每4个人一组，可以分几组？

$$\square \bigcirc \square = \square \quad (\quad)$$

(2) 平均分成8组，每组几个人？

$$\square \bigcirc \square = \square \quad (\quad)$$

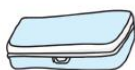
3. 去超市购物。



54元



36元



8元



6元



24元



9元





(1)妈妈带了多少元？

我带的钱刚好
够买4副手套。



(2)妈妈用这些钱买了同一种物品，刚好买了6个。妈妈买的是什么？

我有50元钱，买了一顶帽子后，妈妈又给了我30元。



(3)欢欢现在有多少钱？

(4)请你提出一道用乘法或除法解决的数学问题，并解答。





答案

一、1.8 4 8 4 32

2. 27 5 81

3. (1)厘米 (2)元 (3)米 (4)米

4. 20 4 16 2

5. 49 42 28

6. 600 17 1 2

7. 40 48 64

8. 10 2 【点拨】答案不唯一, 如当5元选1张时, 1元就需要15张; 当5元选3张时, 1元就需要5张。

9. > > = > < <

二、1.③ 2.③ 3.② 4.① 5.②

6. ③

三、1.20 6 5 27 7 72 48 5

2. $39 + 14 + 36 = 89$ $85 - 23 - 17 = 45$

$$\begin{array}{r} 39 \\ +14 \\ \hline 53 \\ +36 \\ \hline 89 \end{array}$$

$$\begin{array}{r} 85 \\ -23 \\ \hline 62 \\ -17 \\ \hline 45 \end{array}$$


$69 + 28 - 38 = 59$

$$\begin{array}{r} 69 \\ +28 \\ \hline 97 \\ -38 \\ \hline 59 \end{array}$$





四、1.




4 $16 \div 4 = 4$ (组)

2. 6 厘米

【点拨】答案不唯一。

3. ○○○○○○



4 2(答案不唯一)

五、1. $93 - 26 - 43 = 24$ (个)

答：还剩 24 个停车位。

2. $9 \times 6 = 54$ (个)

(1) $24 \div 4 = 6$ (组)

(2) $24 \div 8 = 3$ (个)

3. (1) $4 \times 9 = 36$ (元)

答：妈妈带了 36 元。

(2) $36 \div 6 = 6$ (元)

答：妈妈买的是杯子。

【点拨】求出这种物品的单价是 6 元，只有杯子的单价是 6 元，
所以妈妈买的是杯子。

(3) $50 - 24 + 30 = 56$ (元)

答：欢欢现在有 56 元钱。





(4)一个书包的价钱是一副手套的几倍？

$$54 \div 9 = 6$$

答：一个书包的价钱是一副手套的 6 倍。

